




Pour les ce1 :

1- Combien de centaines y a-t-il dans :


$$90 + 10 + 60 + 40 + 70 ?$$

90 + 10 = 100 ; 60 + 40 = 100. Nous pouvons dire qu'il y a deux centaines dans ce calcul.

2- Complète ce tableau :

$2 \times 3 = 6$ 	$3 \times 4 = 12$ 	$2 \times 8 = 16$ 
-------------------------------------------------------------------------------------------------------	--------------------------------------------------------------------------------------------------------	---------------------------------------------------------------------------------------------------------

3- Résous ce problème :

	PROBLÈMES CE1 (2)	14
<p>La famille Dumas va en vacances en Russie. Ils vont faire la route en trois jours. Chaque jour, les parents vont conduire pendant 8 heures.</p> <p>Combien d'heures va durer le trajet au total?</p>		
<p>Ils vont rouler 8 heures à chaque fois pendant 3 jours.</p> <p>$8 \times 3 = 24$</p> <p>Le trajet va durer 24h au total.</p>		

4- Complète :

1 dizaine = **10**. unités ; 1 centaine = **100** unités ; 1 centaine = **10** dizaines

5- Réalise cette fiche de numération :

1) Complète :

		c	d	u
257	200 + 50 + 7	2	5	7
32	30 + 2		3	2
469	400 + 60 + 9	4	6	9
8	8			8
356	300 + 50 + 6	3	5	6
408	400 + 8	4	0	8
50	50		5	0
2	2			2
300	300	3	0	0
74	70 + 4		7	4

2) Complète :

- 2c 1d 4u = **214**
- 4c 9u = **409**
- 30d = **300**
- 4c 7d = **470**
- 2c = **200**

3) Calcule :

- 300 + 20 + 6 = **326**
- 200 + 30 = **230**
- 400 + 8 = **408**
- 100 + 20 + 4 = **124**
- 300 + 100 + 20 = **420**

4) Complète le tableau :

463	400 + 60 + 3	Quatre cent soixante-trois
218	200 + 10 + 8	Deux-cent-dix-huit
340	300 + 40	Trois-cent-quarante
427	400 + 20 + 7	Quatre cent vingt-sept
237	200 + 30 + 7	Deux-cent-trente-sept
399	300 + 90 + 9	Trois-cent-quatre-vingt-dix-neuf