

Nom :

Classe :

Prénom :

11 juin / 11 juillet 2021

FICHIER PLURIDISCIPLINAIRE

CHAMPIONNAT D'EUROPE DE FOOTBALL 2020



Sommaire

Fiche 1 : L'histoire du football	Page 3
Fiche 2 : Les précédents vainqueurs	Page 6
Fiche 3 : Les pays qualifiés en 2020	Page 7
Fiche 4 : L'union Européenne et l'EURO 2020	Page 8
Fiche 5 : Les villes d'accueil	Page 9
Fiche 6 : Les transports entre les villes d'accueil	page 10
Fiche 7 : Amsterdam	Page 13
Fiche 8 : Bakou	Page 14
Fiche 9 : Séville	Page 15
Fiche 10 : Bucarest	Page 16
Fiche 11 : Budapest	Page 17
Fiche 12 : Copenhague	Page 18
Fiche 13 : Glasgow	Page 19
Fiche 14 : Londres	Page 20
Fiche 15 : Munich	Page 21
Fiche 16 : Rome	Page 22
Fiche 17 : Saint-Pétersbourg	Page 23
Fiche 18 : Superficie et population des pays participants	Page 24
Fiche 19 : Les drapeaux	Page 26
Fiche 20 : Le terrain de football	Page 28
Fiche 21 : Les parties du terrain et la tenue	Page 29
Fiche 22 : Les règles du jeu	Page 30
Fiche 23 : « Le ballon d'or »	Page 32
Fiche 24 : « En pleine lucarne »	Page 34
Fiche 25 : Le premier tour de la compétition	Page 36
Fiche 26 : Les qualifiés pour la phase finale	Page 39
Fiche 27 : Le tableau final	Page 40



Fichier créé par Stéphane Bouron en janvier 2021.
Les cartes des fiches 7 à 18 sont issus du site <https://www.universalis.fr/atlas/>




Fiche 1 : L'histoire du football

Il y a 2 000 ans, les Chinois jouaient à un sport ressemblant étrangement au football. Le ballon était à l'époque cousu avec des cheveux. En France, le premier jeu de ballon apparaît au Moyen-âge et se nomme la soule. Ce jeu est essentiellement pratiqué en Picardie et en Normandie. Gravure représentant le jeu de la soule



Pour gagner, la balle, lancée par la dernière mariée de l'année, doit être apportée par l'une des deux équipes villageoises à un endroit précis.

Au XI^e siècle, Guillaume le Conquérant introduit la soule en Angleterre. Le jeu était alors très violent et le ballon pouvait prendre des formes très variées, comme celle d'une vessie de porc... ou la tête d'un ennemi ! Bien plus tard, au milieu du XIX^e siècle, ce sont les grandes écoles anglaises d'Oxford et de Cambridge qui donneront la forme et les règles du football moderne. Le premier club français créé est celui du Havre en 1872 : le « Havre Athletic Club ». En 1904, l'équipe de France joue son premier match contre la Belgique. Les grandes compétitions nationales sont créées : 1917 pour la Coupe de France et 1932 pour le championnat.



Un match de football en Angleterre, gravure de 1867.

La première Coupe du monde de football a lieu en Uruguay en 1930, sous l'impulsion du Français Jules Rimet. C'est encore un Français, Henri Delaunay, secrétaire général de la fédération française de Football, qui propose en 1927 l'idée d'organiser un tournoi européen entre les nations. Mais il faut attendre 1960 avant que la première édition ne soit mise en place...en France. Depuis, la coupe remise au vainqueur de chaque compétition porte depuis le nom de « Trophée Henri Delaunay ».



Rencontre entre le Red Star et Tottenham en 1913 à Saint-Ouen dans la banlieue parisienne.



Rencontre entre la Suisse et l'Allemagne en 1938.

❶ Après avoir lu le texte et observé la gravure, réponds aux questions suivantes.

❶ Quel jeu est à l'origine du football ? Dans quel pays apparait-il ?

.....
.....

❷ D'après la gravure, peut-on dire s'il s'agit ici d'un match de football ?

.....
.....

❸ Dans quel pays a-t-on instauré les premières règles de ce sport ?

.....
.....

❹ En quoi l'attitude des joueurs a-t-elle évoluée ?

.....
.....

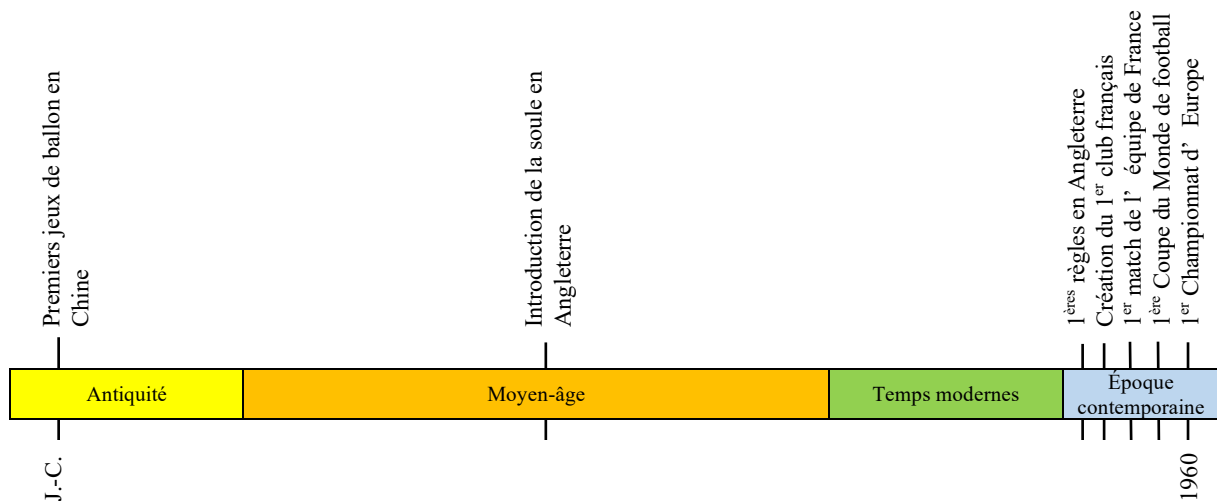
❺ Pourquoi n'est-il pas étonnant que le premier club français de football ait été créé au Havre ?

.....
.....

2 Observe attentivement la gravure de la page 3 et les deux photographies de la page 4, puis complète par des croix le tableau ci-dessous.

		1867	1913	1938
TERRAIN	Marquage au sol			
	Buts			
TENUE DES JOUEURS	Maillot spécifique			
	Short			
	Bas (chaussettes)			
	Chaussures			
ATTITUDE DES JOUEURS	Violente			
SPECTATEURS	Gradins			
	Barrières de sécurité			
PUBLICITÉ	Tribune			
	Maillots			

3 Complète la frise chronologique ci-dessous.




Fiche 2 : Les précédents vainqueurs

Dix pays ont déjà gagné le Championnat d'Europe de football qui a lieu tous les quatre ans depuis 1960.

❶ Établis un histogramme ci-dessous qui mettra en valeur les pays ayant remporté le plus souvent le trophée.

Années	Pays organisateurs	Finales
1960	France	URSS – Yougoslavie : 2 - 1
1964	Espagne	Espagne – URSS : 2 - 1
1968	Italie	Italie – Yougoslavie : 2 - 0
1972	Belgique	Allemagne de l'ouest – URSS : 3 - 0
1976	Yougoslavie	Tchécoslovaquie – Allemagne de l'ouest : 2 - 2 (tirs aux buts)
1980	Italie	Italie – Allemagne de l'ouest : 2 - 1
1984	France	France – Espagne : 2 - 0
1988	Allemagne de l'ouest	Pays-Bas – URSS : 2 - 0
1992	Suède	Danemark – Allemagne : 2 - 0
1996	Angleterre	Allemagne – République tchèque : 2 - 1
2000	Belgique & Pays-Bas	France – Italie : 2 - 1
2004	Portugal	Grèce – Portugal : 1 - 0
2008	Autriche & Suisse	Espagne – Allemagne : 1 - 0
2012	Pologne & Ukraine	Espagne – Italie : 4 - 0
2016	France	Portugal – France : 1 - 0
2021	12 villes d'Europe	

Nombre de trophées



❷ Réponds désormais aux questions suivantes.

a) Quelles équipes ont remporté le plus de victoires dans cette compétition ?

.....

b) Quelle équipe a disputé plusieurs finales sans jamais en avoir gagné une seule ?

.....

c) En 1989, la chute du mur de Berlin entraîne une modification de la carte des états européens. Certains apparaissent, d'autres au contraire disparaissent. Quels changements peux-tu relever ?

.....

Le meilleur buteur de l'histoire de la compétition

C'est le Français Michel Platini qui détient le record de buts. Lors de l'Euro disputé en France en 1984, il a marqué 9 buts au cours des 5 matchs de la compétition : 3 du pied gauche, 3 du pied droit et 3 de la tête !



Fiche 3 : Les pays qualifiés en 2020

La seizième édition du Championnat d'Europe de football masculin, qu'on appelle plus communément l'Euro 2020 car elle était initialement prévue en 2020, réunira 24 équipes.

À l'aide d'un atlas, repère les pays participants puis indique sur la carte le numéro correspondant à chaque pays et enfin colorie les pays de chaque groupe en fonction de la couleur attribuée.



Groupe A (bleu)	
1	Turquie
2	Italie
3	Pays de Galles
4	Suisse

Groupe B (rouge)	
5	Danemark
6	Finlande
7	Belgique
8	Russie

Groupe C (jaune)	
9	Pays-Bas
10	Ukraine
11	Autriche
12	Macédoine du nord

Groupe D (orange)	
13	Angleterre
14	Croatie
15	Écosse
16	Tchéquie

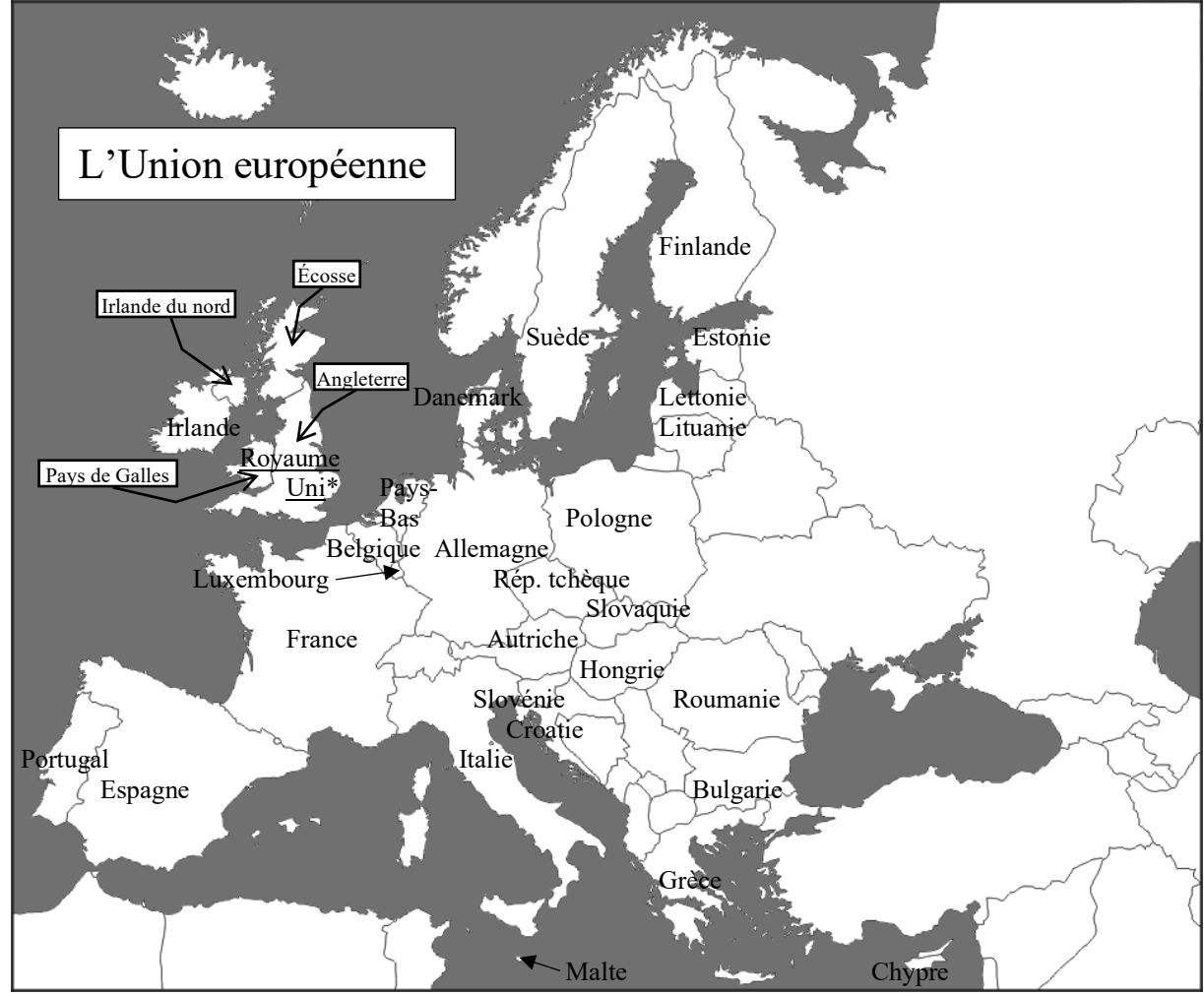
Groupe E (violet)	
17	Espagne
18	Suède
19	Pologne
20	Slovaquie

Groupe F (vert)	
21	Hongrie
22	Portugal
23	France
24	Allemagne

Fiche 4 : L'Union Européenne et l'Euro 2020

Vingt-quatre pays sont qualifiés pour la phase finale de la compétition et vingt-sept pays composent l'Union européenne. Cela signifie que tous les pays de l'Union européenne ne sont pas qualifiés. De plus, certains pays non-membres de l'Union européenne sont qualifiés. Et tout se complique vraiment avec le Royaume-Uni*, ancien membre de l'Union européenne depuis 2020 mais composé de quatre nations dont trois seulement sont qualifiées. Ne parlons même pas de ce pays à cheval sur les continents européen et asiatique, non-membre de l'Union européenne mais qualifié pour l'Euro !

Essayons d'y voir plus clair avec la carte de la fiche 3 et la carte ci-dessous puis réponds aux énigmes suivantes.



- a) Seul pays méditerranéen non insulaire de l'Union européenne à ne pas être qualifié avec la Slovénie pour l'Euro 2020, je suis :
- b) Seul pays qualifié du groupe A à être membre de l'Union européenne, je suis :
- c) Pays ayant notre plus grande partie sur le continent asiatique, non-membres de l'Union européenne et pourtant qualifiés à l'Euro 2020, nous sommes :
- d) Membre du Royaume-Uni et donc ancien membre de l'Union européenne, je suis la seule nation non qualifiée. Je suis :
- e) Pays situé le plus au nord de l'Union européenne et qualifié, je suis :
- f) Plus grand pays par sa superficie qualifié de l'Union européenne, je suis :



Fiche 5 : Les villes d'accueil

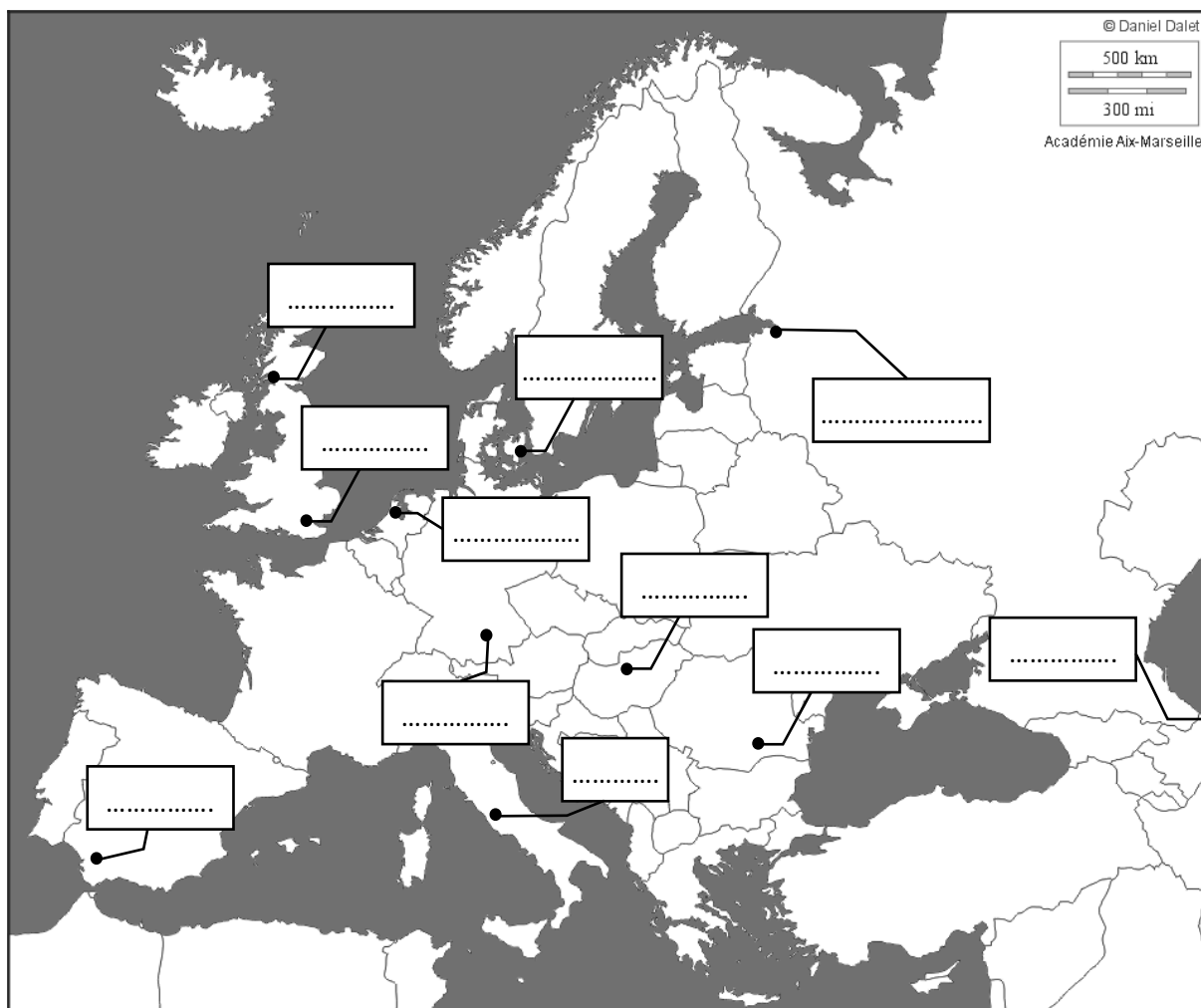
La compétition aura lieu du 11 juin au 11 juillet 2021. Onze villes d'accueil ont été retenues pour l'organisation des 51 matchs.

① **Relie chaque ville à son pays et indique si elle en est la capitale en l'entourant. Pour cela, aide-toi d'un dictionnaire ou d'un atlas.**

Amsterdam *	* Espagne	Saint-Pétersbourg *	* Russie
Bakou *	* Pays-Bas	Glasgow *	* Italie
Séville *	* Azerbaïdjan	Londres *	* Écosse
Bucarest *	* Danemark	Munich *	* Angleterre
Budapest *	* Hongrie	Rome *	* Allemagne
Copenhague *	* Roumanie		

② **Situe sur la carte de l'Europe, les onze villes d'accueil :**

Amsterdam, Bakou, Séville, Bucarest, Budapest, Copenhague, Glasgow, Londres, Munich, Rome et Saint-Pétersbourg.



Fiche 6 : Les transports entre les villes

Pour le premier tour de la compétition, les 24 équipes sont réparties en 6 groupes de 4. Par exemple, la Turquie, le Pays de Galles, l'Italie et la Suisse sont dans le groupe A.

Afin que chaque équipe rencontre les trois autres de son groupe, six matchs sont organisés par groupe (voir fiche 24) dans deux villes différentes. Par exemple, pour le groupe B, les villes accueillant les matchs sont Copenhague et Saint-Pétersbourg.

À part quelques équipes qui ont le privilège de toujours jouer dans la ville organisatrice de leur pays, la majorité des équipes va jouer dans deux lieux différents. Par exemple dans le groupe E, seule l'équipe d'Espagne jouera toujours à Séville contrairement à la Suède, la Slovaquie et la Pologne qui joueront tour à tour soit à Séville en Espagne soit à Saint-Pétersbourg en Russie.

Groupe A	Rome (Italie) Bakou (Azerbaïdjan)	Groupe D	Londres (Angleterre) Glasgow (Écosse)
Groupe B	Copenhague (Danemark) Saint-Pétersbourg (Russie)	Groupe E	Séville (Espagne) Saint-Pétersbourg (Russie)
Groupe C	Amsterdam (Pays-Bas) Bucarest (Roumanie)	Groupe F	Munich (Allemagne) Budapest (Hongrie)

Pour aller d'une ville à l'autre en Europe, on choisit souvent les moyens de transport les plus rapides. En fonction des distances et des moyens de transport existant, les équipes utiliseront le bus, le train ou l'avion.

① Observe cette publicité pour le train Thalys et réponds aux questions.

a) Quelles sont les deux villes desservies par le Thalys ? Dans quels pays se trouvent-elles ?

.....

b) Le trajet de cette ligne dure 3h20 pour une distance supérieure à 500 km et un prix de 35 €. Selon toi :

- C'est plus rapide que le bus mais plus lent que l'avion
- C'est plus rapide que le bus et aussi rapide que l'avion car il y a moins de formalité dans une gare ferroviaire que dans une gare aéroportuaire
- C'est plus cher que le bus mais moins cher que l'avion
- C'est le même prix que le bus et moins cher que l'avion



c) Quel type de clients cette affiche publicitaire cherche-t-elle à attirer ?

.....

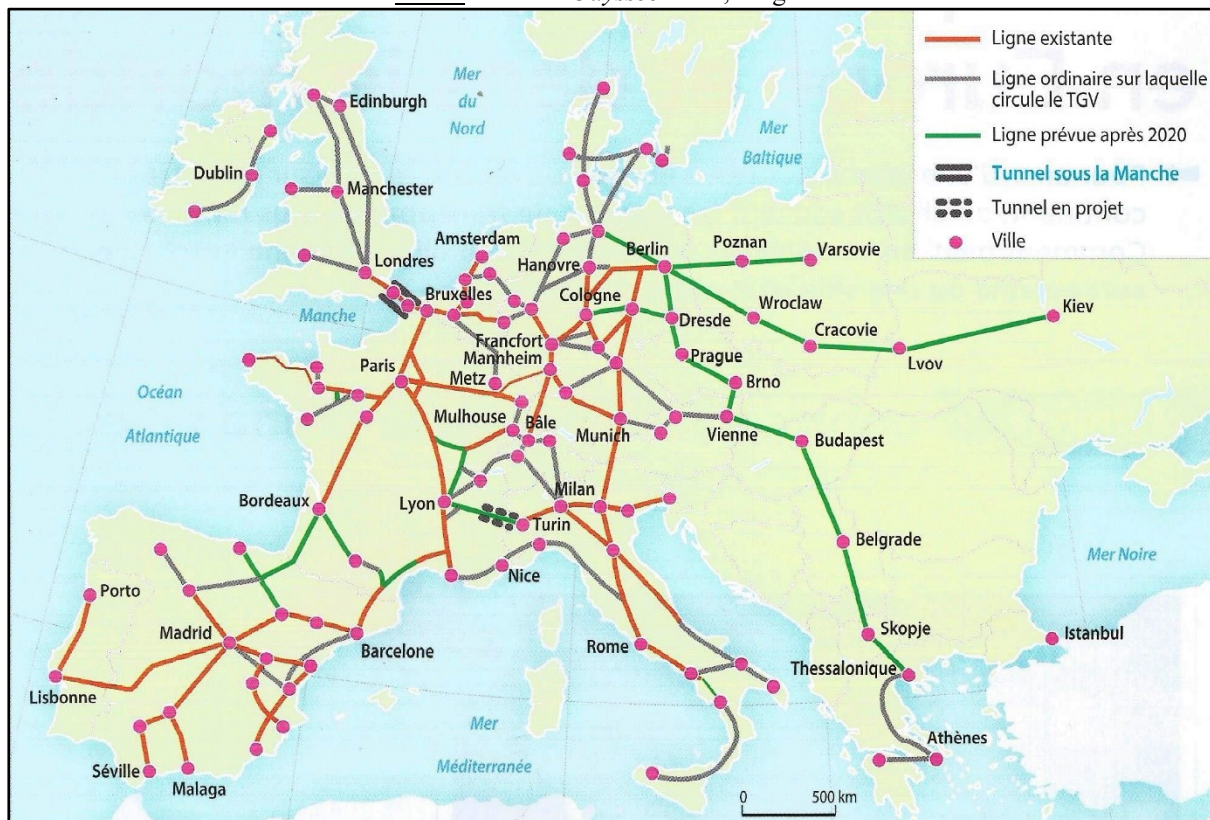
d) Consulte les fiches 26 et 28. Serait-il opportun pour l'équipe de France de prendre le Thalys pendant l'Euro 2020 ? Explique pourquoi.

.....

② **Observe cette carte puis réponds aux questions.**

Le réseau européen des lignes à grande vitesse (LGV)

source : manuel *Odysseo* CM2, Magnard



Les villes de Glasgow et Copenhague sont bien situées sur la carte même si leur nom n'apparaît pas

a) Parmi les onze villes de l'Euro 2020, quelles sont celles reliées à au moins une autre ville d'accueil par une ligne à grande vitesse (LGV) ?

.....

b) Parmi les onze villes de l'Euro 2020, quelles sont celles reliées à au moins une autre ville d'accueil par une ligne ordinaire ou une future LGV ?

.....

c) Observe bien les villes d'accueil de chaque groupe à la page précédente. Pour quels groupes, l'utilisation du train pour voyager paraît opportune ?

.....

d) Explique les raisons pour lesquelles les équipes des groupes A et E devront utiliser l'avion ?

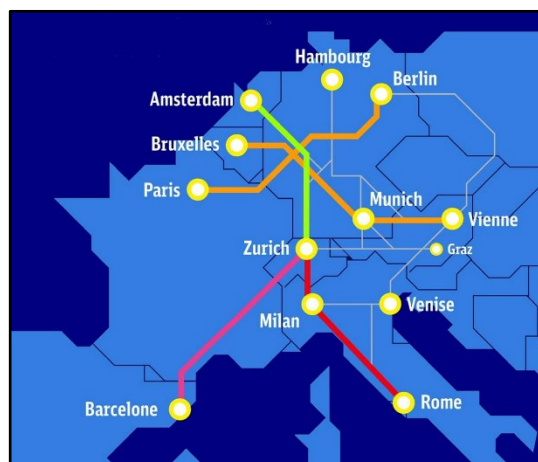
.....

.....

e) De nouvelles lignes de train de nuit vont être mises en service. Quels sont leurs avantages ?

.....

.....



③ **Observe les documents puis réponds aux questions.**

Les moyens de transport entre Londres et Amsterdam

source : <https://www.dailymail.co.uk>



a) Les équipes du groupe C jouent des matchs du premier tour à Amsterdam. Est-il possible qu'une équipe du groupe C joue ensuite à Londres ? Consulte les fiches 26 et 28 et explique pourquoi.

.....

Prix aller simple	
Train + ferry	55 €
Eurostar + Thalys	55 €
Bus	22 €
Avion	22 €
Voiture	240 €

b) Il existe de multiples modes de transport entre Amsterdam et Londres. Coche les cases du tableau pour signifier les avantages de chacun.

	Transport rapide	Transport direct (sans changement)	Transport économique	Transport écologique
Train + ferry				
Eurostar + Thalys				
Bus				
Avion				
Voiture				

c) Il est possible de relier en train Amsterdam à Londres grâce au tunnel sous la Manche. Effectue une recherche pour savoir laquelle des autres villes d'accueil de l'Euro 2020, située sur une île, sera également prochainement reliée au continent par un réseau ferré au fond de la mer, protégé par un tunnel immergé ?

.....

Fiche 7 : Amsterdam

Amsterdam est la capitale des Pays-Bas. La ville est alimentée par l'Amstel un fleuve qui rejoint un lac et de nombreux canaux qui irriguent la ville. Ce réseau hydrographique est complété par un long canal qui relie la ville à la Mer du Nord en allant vers l'ouest. À l'est, la ville donne sur le Zuiderzee un ancien golfe d'eau de mer qui a été transformé en lac d'eau douce grâce à la construction de digues.

À la fin du XII^{ème} siècle, des pêcheurs s'installent sur la rive droite de l'embouchure de l'Amstel, en construisant une digue qui les protège des marées. Tout près de cette embouchure, on édifie également un passage sur l'Amstel équipé d'écluses, appelé *Dam*. L'endroit et le village qui s'y développent prennent alors le nom d'*Amstel-Dam*, qui deviendra Amsterdam.

Au XVI^{ème} siècle, lors des guerres de religions qui frappent l'Europe, Amsterdam accueille de riches familles juives portugaises et espagnoles, des négociants d'Anvers ainsi que des Protestants français. La ville s'enrichit rapidement.

Le siècle suivant est le « siècle d'or ». Amsterdam devient le port le plus important du monde, des canaux sont construits et de nombreux artistes s'installent. C'est notamment le cas de peintres aussi célèbres que Rembrandt (*La ronde de nuit*) ou Johannes Vermeer (*La jeune fille à la perle*), maîtres de la peinture de genre flamande.

Puis, la ville décline mais retrouve un peu de prospérité avec la Révolution industrielle. La ville souffre de nouveau avec la 1^{ère} guerre mondiale puis la suivante où l'importante communauté juive est massacrée par les nazis comme en témoigne la terrible histoire d'Anne Frank. Aujourd'hui Amsterdam est une ville très touristique où l'on peut flâner le long des canaux et visiter ses nombreux musées.



Canal d'Amsterdam ; source : Zairon

Carte d'identité

Nom : Amsterdam, capitale des Pays-Bas.

Habitants : Amstellodamois


Langue : néerlandais

Nombre d'habitants : 851 000

Bourgmestre : Femke Halsema

Principaux attraits : La maison d'Anne Franck, le musée Van Gogh, le Rijksmuseum (présentant les œuvres de Rembrandt et Vermeer) et le Stedelijk museum dédié à l'art moderne.

Complète la grille de mots croisés ci-dessous.



- ① Nom du musée d'art moderne
- ② Peintre du « Siècle d'or »
- ③ Chrétiens chassés pendant les guerres de religion
- ④ Constructions qui protègent de la mer
- ⑤ Ancien golfe transformé en lac d'eau douce
- ⑥ Terme utilisé pour qualifier le XVII^{ème} siècle
- ⑦ Nom néerlandais donné aux écluses
- ⑧ Peintre auteur de *La jeune fille à la perle*
- ⑨ Fleuve drainant Amsterdam
- ⑩ Prénom d'une adolescente juive décédée dans un camp nazi et auteure d'un célèbre journal intime.

Fiche 8 : Bakou


Bakou est la capitale de l'Azerbaïdjan, pays localisé à l'extrémité orientale de l'Europe, sur les rives de la Mer Caspienne, le plus grand lac du monde. Elle est située sur la péninsule d'Abşeron marquant la fin des montagnes du Grand Caucase. Le terme de Bakou provient du persan *bâdkoubé* qui signifie « coup de vent ». La ville bénéficie d'un climat doux mais semi-aride avec peu de précipitations.

La ville de Bakou apparait dès l'Antiquité au croisement de routes commerciales dont la route de la soie. Au Moyen Âge, la ville prospère et se protège avec un double mur d'enceinte, des fossés et la Tour de la Vierge qui fait partie du système défensif de la cité. Au XV^{ème} siècle, durant le règne de Nusrat ed-din Khalil I^{er} ibn Ibrahim, le palais des Chirvanchahs est édifié.


La ville est néanmoins envahie par les Ottomans, puis par les Russes qui en prennent définitivement le contrôle au XIX^{ème} siècle. L'extraction du pétrole contribue alors au développement de la ville. La production de tissage et les usines mécaniques participent à l'essor économique. Le chemin de fer attire les migrants venus de Russie et de Perse.

Après la 1^{ère} guerre mondiale, l'éphémère république démocratique d'Azerbaïdjan tombe et passe sous le contrôle soviétique. Bakou redevient la capitale d'un pays indépendant seulement en 1991. Depuis son renouveau est symbolisé par l'inauguration des *Flame Tower* en 2012.

Complète la grille de mots croisés ci-dessous.



- ① Nom donné aux habitants de la ville de Bakou
- ② Nom du maire de la ville
- ③ Ils ont envahi plusieurs fois la ville et le pays
- ④ Nom de la mer fermée située à l'est de la ville
- ⑤ Hydrocarbure dont l'extraction a enrichi la ville
- ⑥ Massif montagneux
- ⑦ Un musée lui est consacré
- ⑧ Élément naturel ayant donné le nom à la ville
- ⑨ Fibre naturelle d'origine animale ayant donné le nom à une célèbre route commerciale
- ⑩ Nom de la péninsule sur laquelle a été bâtie Bakou



Le palais des Chirvanchahs, les flame towers ; source : mifuguemiraison.com

Carte d'identité

Nom : Bakou, capitale d'Azerbaïdjan.
Habitants : Bakinois
Nombre d'habitants : 2 000 000
Maire : Eldar Azizov
Principaux attraits : Le quartier de la vieille ville, la Tour de la Vierge, le Palais des Chirvanchahs, l'allée des Martyrs, le Musée du tapis et des arts appliqués populaires.

Fiche 9 : Séville

Localisée en Andalousie, dans le sud de l'Espagne, Séville est la quatrième ville du royaume. Séville est traversée par le fleuve Guadalquivir, un nom qui vient de l'arabe *al-wādi al-kabīr* et qui signifie le grand fleuve.


Le premier site de la ville datant du VIII^e siècle avant J.-C. a été localisé près du fleuve, sur un petit promontoire. La ville est ensuite peuplée par les Phéniciens, les Carthaginois puis les Romains. Elle devient une cité importante sous Jules César.

En 456, les Wisigoths la conquièrent. Mais au VIII^e siècle Séville tombe de nouveau pendant la conquête arabe. La construction du minaret, la Giralda, aujourd'hui devenu un clocher, témoigne de l'architecture hispano-musulmane de cette époque. Au début du XIII^e siècle, Ferdinand III de Castille chasse les Maures (nom donné aux Arabo-Berbères à cette époque) et la ville redevient chrétienne.

Avec la découverte de l'Amérique par Christophe Colomb en 1492, débute le Siècle d'or avec la fondation d'une université en 1504 et une brillante école de peinture.

Aujourd'hui, Séville est l'une des plus importantes villes d'Europe du Sud, réputée pour la danse flamenco et sa riche région agricole.

Complète la grille de mots croisés ci-dessous.



- ⑧ Général romain ayant doté la ville d'une fortification
- ⑨ Grand fleuve traversant la ville
- ⑩ Palais fortifié construit pendant la période musulmane



Le Palais de l'Alcazar ;
source visiter-seville.fr

Carte d'identité

Nom : Séville, capitale de la province d'Andalousie
Habitants : Sévillans
Nombre d'habitants : 691 000
Maire : Juan Espadas
Principaux attraits : l'Alcazar, la cathédrale, la Giralda, le quartier de Triana, le tombeau de C. Colomb et le stade Ramon Sanchez-Pizjuan

- ① Tour d'une mosquée
- ② Ancien minaret devenu un clocher
- ③ Danse créée par le peuple Andalou
- ④ Région du Sud de l'Espagne
- ⑤ Nom donné aux Arabo-Berbères
- ⑥ Quartier connu pour ses artisans, ses chanteurs et ses danseurs de flamenco
- ⑦ Nom d'un célèbre marin génois



Fiche 10 : Bucarest


Bucarest est la capitale de la Roumanie, pays riverain de la Mer Noire. La ville est située au cœur d'une grande plaine dans le sud du pays, la Valachie et est arrosée par deux cours d'eau, la Dâmbovitza et la Colentina, deux affluents du Danube. On compte également de nombreux lacs dans la ville qui auraient probablement attiré un berger nommé *Bucur* et qui se serait installé le premier sur l'emplacement actuel, donnant le nom à la cité.

La Valachie a été longtemps rattachée à l'empire romain, puis à d'autres peuples germaniques et slaves. C'est au XV^{ème} siècle que *Vlad III l'empaleur* fonde une forteresse sur le site de Bucarest. Ce personnage est repris ensuite sous le nom de Dracula dans le roman de Dram Stocker.

Convoitée par ses puissants voisins, Bucarest a été envahie d'innombrables fois par les Turcs, les Russes et les Autrichiens pendant les siècles suivants. Puis en 1862, peu après la création de la Roumanie, Bucarest en devient la capitale.

Au début du XX^{ème} siècle, le roi Carol 1^{er}, aménage la ville sur un modèle urbain haussmannien arboré ce qui lui vaut d'être surnommée le « Paris des Balkans ». Mais les guerres, le séisme de 1977 et la politique destructrice du Président Ceausescu détériorent la ville. Heureusement, la révolution de 1989 et l'intégration à l'Union Européenne lui permettent de retrouver progressivement sa splendeur.

Complète la grille de mots croisés ci-dessous.



- ① Rivière traversant Bucarest
- ② Roi ayant embelli la ville
- ③ Nom donné à Vlad III dans un célèbre roman
- ④ Secousse sismique ayant détruit une partie de Bucarest
- ⑤ Premier homme à s'installer dans la région.
- ⑥ Nom de la région naturelle de Bucarest
- ⑦ Plateau situé entre les Carpates, célèbre pour y abriter le château de Dracula
- ⑧ Étendues d'eau nombreuses à Bucarest
- ⑨ Grand fleuve européen trouvant son embouchure sous la forme d'un delta dans la Mer Noire
- ⑩ Plus grand bâtiment de Bucarest mais aussi d'Europe



Le parlement (2^e plus grand bâtiment du monde avec 6000 pièces) ;
source : passeursdeculture.fr

Carte d'identité

Nom : Bucarest, capitale de la Roumanie
Habitants : Bucarestois
Nombre d'habitants : 1 830 000
Maire : Nicusor Dan
Principaux attraits : Le Parlement de Roumanie, l'église orthodoxe Stavropoleos, l'Arc de Triomphe, Curtea Veche (ruines du Palais de Vlad l'empaleur)



Fiche 11 : Budapest

Budapest est la capitale de la Hongrie, pays d'Europe centrale. Elle est traversée par le Danube, deuxième plus grand fleuve européen de 2 850 km de longueur. Le cours d'eau sépare la ville-haute de Buda située sur une colline, de la ville-basse de Pest localisée dans une plaine.

Le site est occupé pour la première fois par des Celtes qui le baptisent Obuda. Puis, la région est conquise par les Romains qui la nomment la Pannonie.

Au IX^{ème}, siècle des tribus Magyars colonisent la région et la nation de Hongrie naît en l'an mille avec le couronnement de son premier roi, Étienne 1^{er}. Au XIII^{ème} siècle, après une invasion mongole, la nouvelle ville de Buda est construite par le roi Béla IV pour remplacer l'ancienne Obuda détruite. Sur l'autre rive du fleuve est édifiée la ville de Pest.

Buda se développe mais subit les invasions des Turcs puis des Autrichiens au XVII^{ème} siècle. Ces derniers construisent des églises, des édifices publics, une université et le premier pont permanent au-dessus du Danube : le pont des Chaines. En 1873, Obuda, Buda et Pest se sont unies définitivement pour prendre finalement le nom de Budapest.

Après la 1^{ère} guerre mondiale, Budapest est la capitale de la Hongrie devenue indépendante. Elle subit l'influence soviétique après la seconde guerre mondiale jusqu'en 1989. Aujourd'hui, « la perle du Danube », attire de nombreux touristes.



Les thermes Király, vestige turc;
source : Misibacsi

Carte d'identité

Nom : Budapest, capitale de la Hongrie


Habitants : Budapestois

Nombre d'habitants : 1 733 000

Bourgmestre : Gergely Karácsony

Principaux attraits : la colline du château, le pont des chaînes, les bains thermaux, la basilique Saint-Étienne, le parlement hongrois, les chaussures du Danube (mémorial juif)

Complète la grille de mots croisés ci-dessous.



- ① La cité de Buda est bâtie dessus
- ② Surnom donné à Budapest
- ③ Ils ont conquis la ville et édifiés de nombreux bâtiments (Dynastie des Habsbourg)
- ④ Tribus ayant fondé la Hongrie
- ⑤ Fleuve traversant la ville de Budapest
- ⑥ Ville-haute
- ⑦ Il enjambe le Danube pour relier Buda à Pest
- ⑧ Bains publics créés par les Turcs
- ⑨ Nom du premier roi de Hongrie
- ⑩ Ville-basse

Fiche 12 : Copenhague


Copenhague est la capitale du Danemark, un pays nordique constitué d'une partie continentale (la péninsule de Jutland) et de nombreuses îles. Copenhague est située d'ailleurs sur la principale, l'île de Sélance mais aussi sur l'île d'Amager. Cette dernière relie la ville suédoise de Malmö par le pont de l'Øresund.

Des fouilles archéologiques prouvent l'existence d'une ville sur le site dès l'époque des Vikings. Mais Copenhague est officiellement fondée au XII^{ème} siècle lorsque le roi Valdemar 1^{er} en fait don à l'évêque Absalon qui y fait bâtir une forteresse.

Au Moyen Âge, la ville devient une cité importante liée au commerce du hareng. Au XVII^{ème} siècle, sous l'influence de Christian IV, Copenhague s'étend considérablement et se couvre de palais et châteaux. Le roi crée de véritables quartiers comme Christianshavn, « le port de Christian », sur l'île d'Amager. Puis la ville est ravagée successivement par la peste noire, un terrible incendie et la flotte navale de l'amiral Nelson pendant les guerres napoléoniennes.

La ville est néanmoins reconstruite dans un style néoclassique et connaît un développement économique et social important au XIX^{ème} siècle. Aujourd'hui, le niveau de vie y est très élevé. Copenhague abrite les palais royaux, le port coloré de Nyhavn, ainsi que le parc d'attraction de Tivoli et l'emblématique statue de la Petite Sirène, héroïne du conte de Hans Christian Andersen.

Complète la grille de mots croisés ci-dessous.



- ① Créature légendaire d'un conte d'Andersen
- ② Château de Christian IV
- ③ Roi danois ayant donné son nom à un port et un château
- ④ Évêque ayant fondé Copenhague
- ⑤ Célèbre conteur danois
- ⑥ Nom du pont reliant Copenhague à Malmö
- ⑦ Parc d'attraction de la ville
- ⑧ Peuple scandinave, premiers habitants de la région

⑨ Poisson d'eau froide dont le commerce a permis le développement de la ville

⑩ Port de Copenhague célèbre pour les couleurs des maisons et des bateaux



Port de Nyhavn; source :cdn.fodors.com

Carte d'identité

Nom : Copenhague, capitale du Danemark

Habitants : Copenhaguois

Nombre d'habitants : 623 000

Maire : Frank Jensen

Principaux attraits : les jardins de Tivoli, la Petite Sirène, le port de Nyhavn, le château de Rosenborg, les palais d'Amalienborg et Christiansborg



Fiche 13 : Glasgow

Glasgow est une ville portuaire du Royaume-Uni située à l'ouest de l'Écosse. La ville est traversée par la Clyde, un fleuve qui se jette dans le firth of Clyde, une vaste étendue d'eau côtière.


Le site de Glasgow était certainement occupé dès la préhistoire par des pêcheurs de saumon. Mais la cité n'est véritablement fondée qu'au VI^{ème} siècle par Saint Mungo qui y bâtit une église.

La ville grandit au fil des siècles, une foire est créée au XII^{ème} siècle, une université est fondée au XV^{ème} siècle. Le port en eau profonde facilite le développement du commerce avec les colonies au XVIII^{ème} siècle, notamment le tabac, monopole détenu par Glasgow. La présence de charbon favorise la sidérurgie, l'industrie textile et la construction navale. La ville prospère et se dote d'un métro, d'un réseau de tramway et accueille des expositions internationales à Kelvingrove Park.

Mais au XX^{ème} siècle, une période de déclin économique fait souffrir la ville qui se désindustrialise. Le chômage augmente, entraînant violence et pauvreté.

Aujourd'hui, la ville connaît un rebond grâce notamment au développement de la culture : Glasgow abrite des institutions comme le Scottish Opera, le Scottish Ballet et le National Theatre of Scotland, ainsi que des musées renommés et une scène musicale florissante.

Complète la grille de mots croisés ci-dessous.



Kelvingrove Art Gallery and Museum ;
source : martingaal

Carte d'identité

Nom : Glasgow

Habitants : Glasgoviens

Nombre d'habitants : 606 000

Maire : Eva Bolander

Principaux attraits : La cathédrale de Glasgow, l'hôtel de ville victorien, le Kelvingrove Art Gallery and Museum

- ① Absence de travail dû à la crise économique
- ② Roche exploitée comme combustible
- ③ Célèbre musée d'art
- ④ Fleuve ayant son embouchure à Glasgow
- ⑤ Plante ayant développé le commerce portuaire
- ⑥ À l'origine du renouveau de Glasgow
- ⑦ Poisson qui attira les premiers pêcheurs
- ⑧ Métallurgie du fer, de la fonte et de l'acier
- ⑨ Il accueille les bateaux en eau profonde
- ⑩ Nom de la maire de Glasgow



Fiche 14 : Londres

Londres est la capitale de l'Angleterre mais aussi du Royaume-Uni dont font partie le Pays de Galles, l'Irlande du Nord et l'Écosse. La ville est située au sud-est de l'Angleterre, près de l'estuaire de la Tamise.


Londinium, créé par les Romains en 43 avant J.-C. est à l'origine de la cité d'aujourd'hui. Elle est alors la capitale de la Bretagne romaine.

Après la chute de l'empire romain, Londres est occupée par les Anglo-Saxons (peuple germanique) qui apportent le christianisme, puis par les Vikings à partir du IX^{ème} siècle. Le Duc de Normandie, Guillaume le Conquérant, devient roi d'Angleterre après sa victoire à Hastings en 1066. Il fait bâtir à Londres un énorme donjon qui sert de résidence royale puis de prison : la fameuse Tour de Londres.

Londres prospère mais subit au XVII^{ème} siècle plusieurs épidémies et un terrible incendie en 1666. Au XIX^{ème} siècle, le chemin de fer se développe et Londres devient la ville la plus peuplée du monde. Le premier métro souterrain est créé dès 1863.

Pendant la Seconde Guerre Mondiale, les Londoniens résistent au Blitz. Aujourd'hui Londres est une grande ville mondiale, cosmopolite réputée notamment pour ses universités et son centre financier.

Complète la grille de mots croisés ci-dessous.



- ⑦ Premier transport urbain souterrain au monde
- ⑧ Campagne de bombardements allemands pendant la Seconde Guerre Mondiale
- ⑨ Adjectif en anglais qualifiant la cloche au sommet de la Tour Elizabeth
- ⑩ Célèbre bataille remportée par Guillaume le Conquérant



Le Parlement et Big Ben ; source : Colin

Carte d'identité

Nom : Londres, capitale de l'Angleterre et du Royaume Uni
Habitants : Londoniens
Nombre d'habitants : 8 908 000
Maire : Sadiq Khan
Principaux attraits : Buckingham Palace, la Tour de Londres, Big Ben, l'abbaye de Westminster, Tower Bridge, The Shard, Covent Garden

- ① Adjectif précisant le caractère internationale de Londres
- ② Fleuve traversant la ville
- ③ Premiers fondateurs de la cité
- ④ Palais des souverains britanniques
- ⑤ Célèbre abbaye médiévale
- ⑥ Forteresse édifée par Guillaume le Conquérant

Fiche 15 : Munich

Munich est une des villes principales de l'Allemagne et est la capitale du *Land* de Bavière (l'une des seize régions). La ville, située au nord des Alpes bavaroises, est traversée par l'Isar, un affluent du Danube.

La ville de Munich est fondée au XII^{ème} siècle près d'une abbaye par le Duc de Saxe, Henri le Lion. Après avoir détruit un pont sur l'Isar détenu par les moines, les premiers propriétaires du terroir (Munich tient son nom des moines : mönchen), le Duc en fait construire un nouveau afin de prélever des taxes sur le commerce de sel. Quelques années plus tard, l'empereur Barberousse offre Munich au Duc Othon de Wittelsbach. Ce nouveau Duc fonde une dynastie qui va régner jusqu'en 1918.

En 1327, la ville est reconstruite par l'empereur Louis IV après un incendie. La ville perd ensuite les deux tiers de ses habitants à la suite d'une épidémie de peste au XVII^{ème} siècle. Au XVIII^{ème} siècle, la ville se développe. En 1810, à l'occasion du mariage de Louis I^{er} de Bavière et de Thérèse de Saxe, la première fête de la bière (Oktoberfest) est célébrée. Aujourd'hui encore, c'est la principale attraction touristique de Munich.

Après la défaite allemande lors de la Première Guerre mondiale, la famille du Wittelsbach est destituée. La république est proclamée. En 1923, Adolph Hitler tente de prendre le pouvoir par la force lors du « putsch de Munich ». Il arrivera à ses fins légalement dix ans plus tard. En 1972, la ville est frappée par une prise d'otage meurtrière pendant les Jeux Olympiques. Aujourd'hui, Munich est une ville prospère, très industrielle et touristique, à l'atmosphère cosmopolite. Elle est dotée d'un magnifique centre historique, avec une grande richesse culturelle.



La cathédrale Notre-Dame ; [source : Bavaria.by](http://Bavaria.by)

Carte d'identité

Nom : Munich, capitale du Land de Bavière.


Habitants : Munichois

Nombre d'habitants : 1 557 000

Maire : Dieter Reiter

Principaux monuments : La Marienplatz, la cathédrale Notre-Dame, le château de Nymphenburg, l'Oktoberfest, le musée BMW

Complète la grille de mots croisés ci-dessous.



- ① *Land* dont Munich est la capitale.
- ② Cours d'eau traversant Munich
- ③ Nom de la dynastie des Ducs et Rois de Bavière
- ④ Son commerce est à l'origine de la cité
- ⑤ Célèbre marque automobile allemande
- ⑥ Massif montagneux où l'Isar prend sa source
- ⑦ Idéologue allemand à l'origine du nazisme
- ⑧ Maladie ayant fait des ravages en 1634 à Munich
- ⑨ Boisson fermentée à l'origine de l'Oktoberfest
- ⑩ « Moine » en allemand



Fiche 16 : Rome

Rome est la capitale de l'Italie. Elle est bâtie sur sept collines, au centre du pays, sur les rives du Tibre, près de côtes de la mer Tyrrhénienne. La ville présente une particularité unique avec la présence d'un pays sur son territoire : la cité-État du Vatican dirigé par le Pape.


L'histoire de la ville remonte à l'Antiquité avec la fondation mythique par Romulus en 753 avant Jésus-Christ. La ville a connu tour à tour la royauté, la république puis l'empire. Au cours des guerres puniques, Rome s'empare des possessions de sa rivale Carthage. Puis Jules César conquiert la Gaule et c'est finalement tout le bassin méditerranéen qui appartient à l'empire romain au début du II^{ème} siècle, date de son apogée.

En 410 puis en 455, les Vandales pillent et détruisent la cité. En 476, c'est la chute de l'empire romain d'occident. La population de la ville diminue alors considérablement.

Avec la Renaissance, la ville prospère de nouveau. Les artistes Michel-Ange, Raphaël ou Le Bernin produisent des œuvres prodigieuses comme la basilique Saint-Pierre, la chapelle Sixtine, la fontaine de Trévi, le Capitole...

Au XIX^{ème} siècle, Rome est le symbole de l'unité italienne et devient la capitale du Royaume d'Italie puis de la République après la Seconde Guerre Mondiale. L'une des plus belles villes du monde attire encore aujourd'hui de nombreux touristes venus admirer le Vatican, le Colisée, les nombreux musées, les ponts, les fontaines et les 900 églises.

Complète la grille de mots croisés ci-dessous.



- ① Amphithéâtre ovoïde utilisé pour les jeux et les combats de gladiateurs.
- ② Tribus germaniques ayant mis à sac Rome
- ③ Chapelle dont la voûte a été décorée par Michel-Ange
- ④ Nom du mont sur lequel ont été bâtis des demeures d'empereurs romains
- ⑤ Fleuve traversant Rome
- ⑥ Nombre de collines sur lesquelles est bâtie Rome
- ⑦ Personnage mythologique frère de Rémus
- ⑧ Ville rivale de Rome au temps des guerres puniques
- ⑨ Souverain du Vatican
- ⑩ Nom d'un général romain ayant conquis la Gaule



Le Colisée; [source](#) : Wikipedia

Carte d'identité

Nom : Rome, capitale de l'Italie
Habitants : Romains
Nombre d'habitants : 2 844 000
Maire : Virginia Raggi
Principaux monuments : la basilique Saint-Pierre de Rome, la chapelle Sixtine, le Colisée, la fontaine de Trévi, le mont Palatin, le Panthéon, le Forum...

Fiche 17 : St-Pétersbourg


Saint-Pétersbourg est la deuxième ville de Russie par sa population. Elle est située au nord-ouest du pays, sur le delta de la Néva, un fleuve court mais puissant qui trouve son embouchure dans le Golfe de Finlande, une zone maritime de la Mer Baltique.

La région est peuplée dès le X^{ème} siècle par des paysans mais il faut attendre 1703 pour que le Tsar Pierre 1^{er} décide d'y fonder la ville de Saint-Pétersbourg. L'empereur de Russie fait alors bâtir sa nouvelle capitale dans un milieu marécageux. Dans des conditions insalubres, Pierre 1^{er} impose la construction d'une cathédrale, d'une forteresse, de jardins, d'une citadelle, d'un chantier naval et d'une académie de sciences. À la fin du XVIII^{ème} siècle, l'impératrice Catherine II, inspirée par les philosophes des Lumières transforme la ville dans un style néoclassique.


Au XIX^{ème} siècle, la ville devient le principal port militaire et commercial mais aussi un grand centre industriel. Et c'est de Saint-Pétersbourg qu'éclate la Révolution Russe des Bolchéviks en 1917. Rebaptisée Petrograd en 1914, la ville change de nouveau de nom à la mort du révolutionnaire communiste Lénine en 1924 pour s'appeler Léninegrad.

Au cours de la Seconde Guerre Mondiale, la ville est bombardée et assiégée par les troupes d'Hitler pendant trois ans. Affamée, Léninegrad résiste jusqu'à sa libération. Aujourd'hui la ville a retrouvé son nom de Saint-Pétersbourg et poursuit sa restauration avec la rénovation des quartiers et des palais.

Complète la grille de mots croisés ci-dessous.



- ① Révolutionnaire russe.
- ② Titre impérial porté par le souverain de Russie
- ③ Mer dans laquelle la Néva trouve son embouchure
- ④ Chef d'état allemand ayant ordonné le blocus de Leningrad
- ⑤ Nom du tsar ayant fondé Saint-Pétersbourg
- ⑥ Russe communiste
- ⑦ Fleuve traversant Saint-Pétersbourg
- ⑧ L'un des plus grands musées du monde abritant des œuvres de Rembrandt, Gauguin, Cézanne, Picasso...
- ⑨ Impératrice russe éclairée
- ⑩ Nom de la ville de 1914 à 1924



La cathédrale Saint-Sauveur ; [source](#) : Wikipedia

Carte d'identité

Nom : Saint-Pétersbourg
Habitants : Saint-Pétersbourgeois
Nombre d'habitants : 5 383 000
Principaux attraits : la cathédrale Saint-Sauveur, le musée de l'Ermitage, la levée des ponts, le palais d'hiver



Fiche 18 : Superficie et population

Pays	Superficie en km ²	Population en 2019	Pays	Superficie en km ²	Population en 2019
Allemagne	357 021	83 900 000	Macédoine du Nord	25 713	2 083 000
Angleterre	131 760	55 619 000	Pays-Bas	41 543	17 173 000
Autriche	83 870	9 043 000	Pays de Galles	20 779	3 125 000
Belgique	30 528	11 632 000	Pologne	312 685	37 797 000
Croatie	56 542	4 082 000	Portugal	95 176	10 168 000
Danemark	42 933	5 813 000	Russie	17 098 242	145 912 000
Écosse	77 910	5 424 000	Slovaquie	48 845	5 461 000
Espagne	513 027	46 745 000	Suède	449 964	10 160 000
Finlande	338 440	5 548 000	Suisse	41 290	8 715 000
France	675 000	67 064 000	Tchéquie	78 866	10 725 000
Hongrie	93 030	9 634 000	Turquie	783 562	85 043 000
Italie	301 230	60 367 000	Ukraine	603 628	43 467 000

❶ Observe bien le tableau ci-dessus puis réponds aux questions concernant la superficie des pays.

❶ Quel pays participant à l'Euro 2020 a la plus grande superficie ?

❷ Quel pays participant à l'Euro 2020 a la plus petite superficie ?

❸ Relie chaque pays à sa superficie :

- Turquie * * Quatre-vingt-treize-mille-trente km²
- Hongrie * * Quatre-vingt-trois-mille-huit-cent-soixante-dix km²
- Autriche * * Soixante-dix-huit-mille-huit-cent-soixante-six km²
- Tchéquie * * Sept-cent-quatre-vingt-trois-mille-cinq-cent-soixante-deux km²
- Portugal * * Quatre-vingt-quinze-mille-cent-soixante-seize km²

❹ Quels pays encadrent la France en superficie ?

.....	France
.....	< 675 000 km ²	<

❺ Quel pays est encadré par la Suisse et la Croatie en superficie ?

Suisse	Danemark
41 290 km ²	<	< 42 933 km ²

❻ J'ai 78 dizaines de milliers de km². Qui suis-je ? Entoure la bonne réponse.

La Finlande – La France - la Tchéquie - la Turquie

② Observe bien le tableau de la page précédente puis réponds aux questions concernant la population des pays.

① Quel pays participant à l'Euro 2020 est le plus peuplé ?

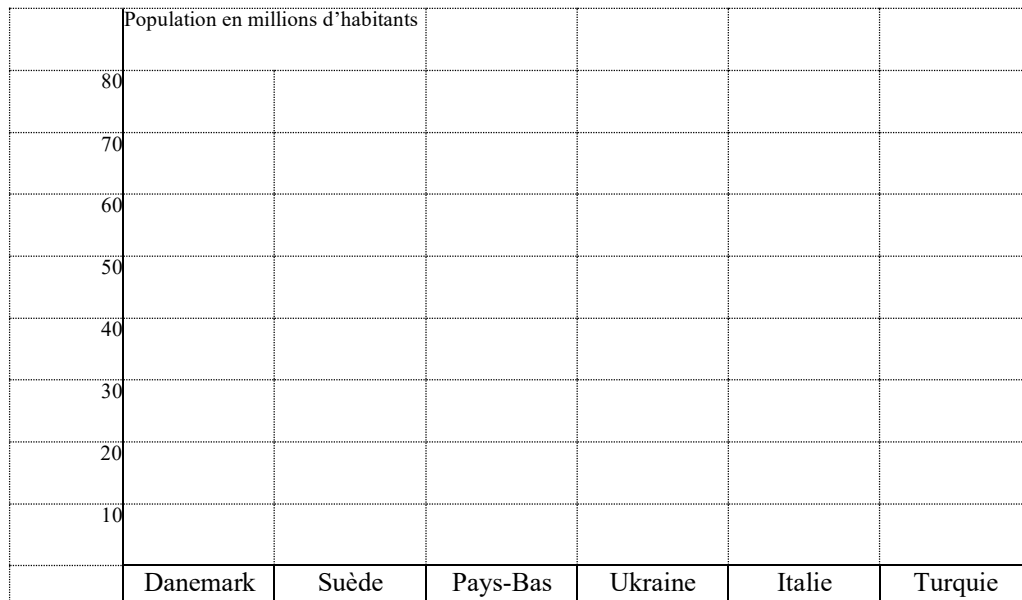
② Quel pays participant à l'Euro 2020 est le moins peuplé ?

③ Classe ces pays du moins peuplé au plus peuplé et indique le nombre d'habitants sous chacun d'entre eux.

Croatie – Danemark – Écosse – Finlande – Pays de Galles – Slovaquie

.....
..... < < < < <

④ Construis l'histogramme correspondant à la population des pays nommés dans le tableau puis réponds aux questions ci-dessous.



a) Quel pays a environ le double des habitants de l'Ukraine ?

b) Quel pays a environ le tiers des habitants des Pays-Bas ?

c) Quel pays a environ dix fois plus d'habitants que le Danemark ?

d) Quel pays a un peu plus du triple des habitants des Pays-Bas ?

e) Quel pays a environ le sixième des habitants de l'Italie ?

f) Quel pays a environ la moitié des habitants de la Turquie ?

g) Quel pays a environ moitié plus d'habitants que l'Ukraine ?

h) Quel pays a environ le quintuple des habitants des Pays-Bas ?

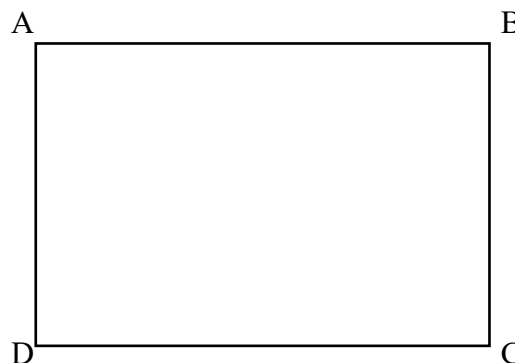


Fiche 19 : Les drapeaux

❶ À l'aide des consignes, trace les drapeaux des pays suivants.

① Drapeau de la France

- Place le point E sur le segment [AB] tel que $AE = 2$ cm.
- Place le point F sur le segment [DC] tel que $DF = 2$ cm.
- Trace le segment [EF].
- Place le point G sur le segment [AB] tel que $BG = 2$ cm.
- Place le point H sur le segment [DC] tel que $DH = 2$ cm.
- Trace le segment [GH].
- Colorie en bleu le rectangle AEFD.
- Colorie en rouge le rectangle GBCH.




② Drapeau de la Tchéquie

- Trace un rectangle ABCD de 6 cm de longueur et de 4 cm de largeur.
- Trace au crayon les diagonales du rectangle et nomme E le point d'intersection.
- Gomme les segments [EB] et [EC].
- Place le point F au milieu de [BC].
- Trace le segment [EF].
- Colorie en bleu le triangle AED.
- Colorie en rouge le trapèze EFCD.

A ×

③ Drapeau de la Finlande

- Place le point E sur le segment [AB] tel que $AE = 2,5$ cm.
- Place le point F sur le segment [DC] tel que $DF = 2,5$ cm.
- Trace le segment [EF].
- Place le point G sur le segment [AB] tel que $BG = 5$ cm.
- Place le point H sur le segment [DC] tel que $CH = 5$ cm.
- Trace le segment [GH].
- Place le point I sur le segment [AD] tel que $AI = 2$ cm.
- Place le point J sur le segment [BC] tel que $BJ = 2$ cm, puis trace le segment [IJ].
- Place le point K sur le segment [AD] tel que $DK = 2$ cm.
- Place le point L sur le segment [BC] tel que $CL = 2$ cm, puis trace le segment [KL].
- Gomme les côtés du carré à l'intersection des rectangles EGHF et IJLK puis colorie la croix en bleu de manière uniforme.



② Trace les axes de symétrie éventuels des drapeaux ci-dessous.



Pologne



Russie




Suède



Écosse




Autriche



Tchéquie



Macédoine du Nord

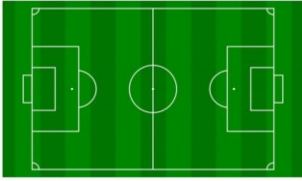


Suisse

Fiche 20 : Le terrain de football

Tu vas désormais travailler sur les mesures d'un terrain de football.

① Les dimensions d'un terrain



Les dimensions des terrains de football ne sont pas identiques partout. Pour la largeur, elles peuvent varier entre 45 m et 90 m et pour la longueur, elles peuvent varier entre 90 et 120 m.

a) Calcule le périmètre du plus petit terrain possible et du plus grand terrain possible.

.....

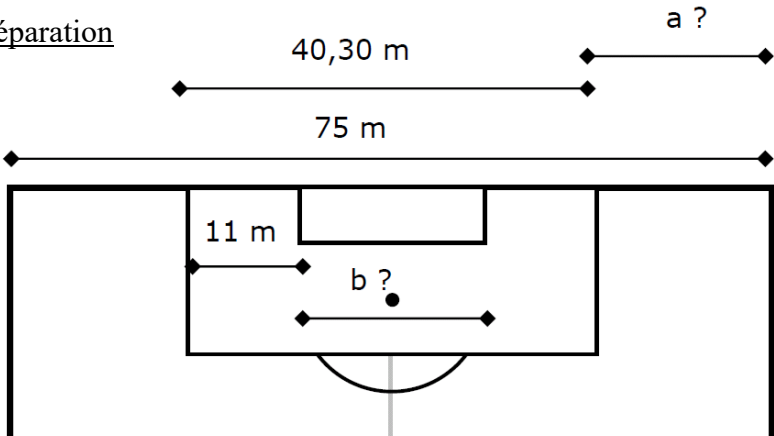
.....

b) Les dimensions du terrain de Wembley à Londres sont de 69 m pour la largeur et 105 m pour la longueur. Quelle est son aire ?

.....

② Les dimensions de la surface de réparation

Calcule les longueurs a et b.
Explique ton raisonnement.



a =

b =

.....


.....

.....

③ Les dimensions des buts

La cage d'un but de football est de 7,32 m de long et de 2,44 m de haut.

Dessine de face la cage d'un but à l'échelle 1/100 autour du gardien. Une partie de la ligne de but est déjà tracée.





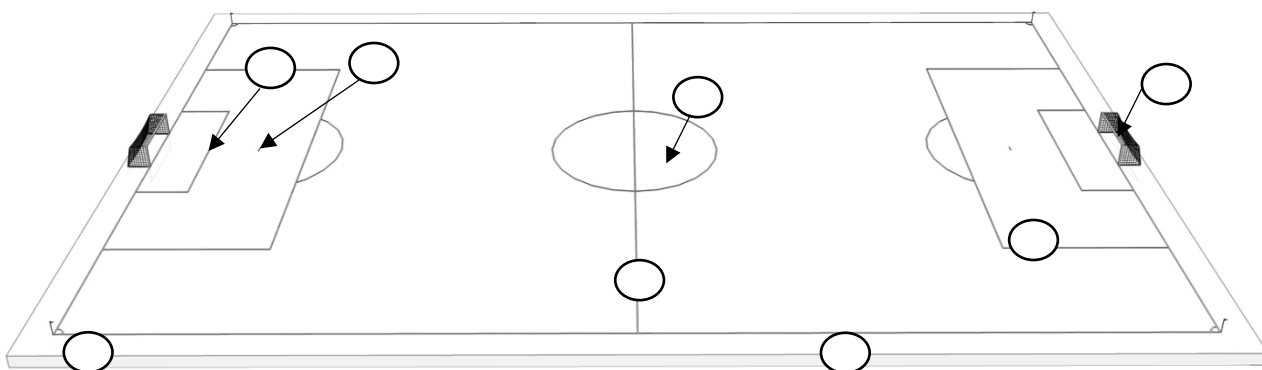
Fiche 21 : Les parties du terrain et la tenue du footballeur

Tu vas maintenant approfondir ton champ lexical autour du mot football.

① Le terrain de jeu

Légende les parties du terrain de football en écrivant les lettres au bon endroit :

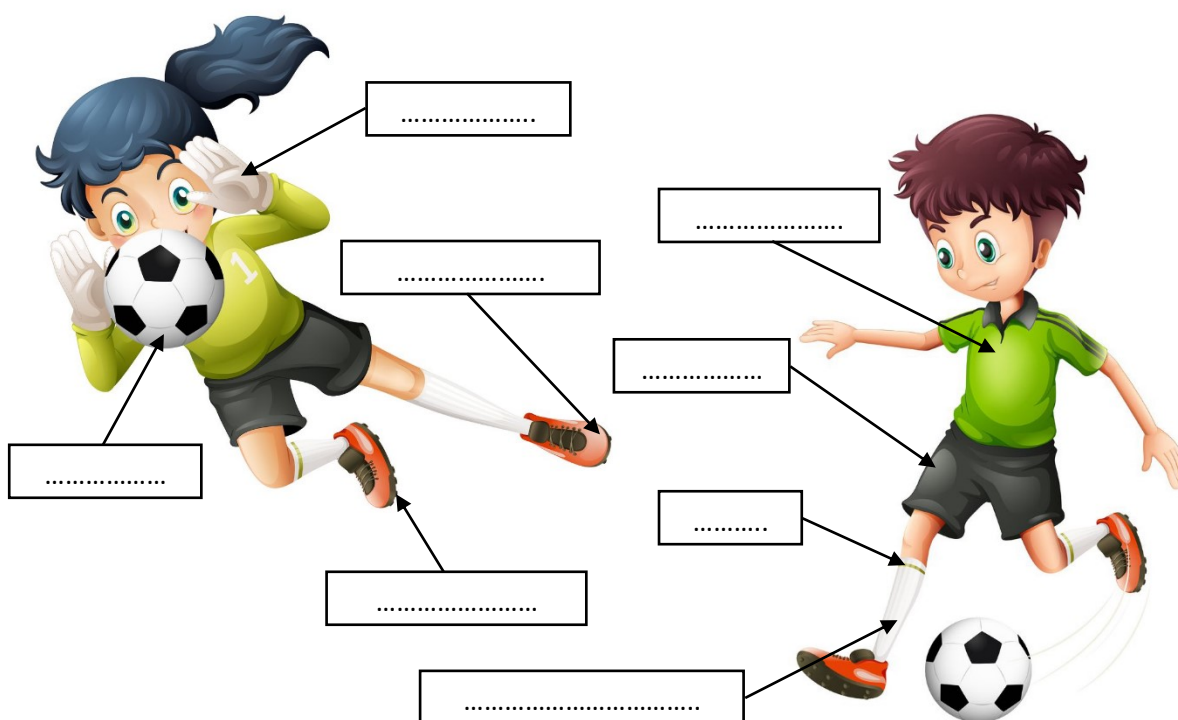
- A ligne médiane B ligne de touche C rond central D surface de réparation
 E point de pénalty F point de corner G zone de sortie de but H but



② L'équipement

Place les mots suivants à l'intérieur des étiquettes :

short – maillot – bas – protège-tibia – chaussure – crampon – gant – ballon





Fiche 22 : Les règles du jeu

Voici un extrait du règlement officiel du football.

Loi 12 : Fautes et comportement antisportif

Les fautes et comportements antisportifs doivent être sanctionnés comme suit :

Coup franc direct

Un coup franc direct est accordé à l'équipe adverse du joueur qui de l'avis de l'arbitre commet, par inadvertance, par imprudence ou par excès de combativité, l'une des six fautes suivantes :

- donner ou essayer de donner un coup de pied à l'adversaire
- faire ou essayer de faire un croche-pied à l'adversaire
- sauter sur un adversaire
- charger un adversaire
- frapper ou essayer de frapper un adversaire
- bousculer un adversaire

Un coup franc direct est également accordé à l'équipe adverse du joueur qui commet l'une des quatre fautes suivantes :

- tacler un adversaire pour s'emparer du ballon en touchant l'adversaire avant de jouer le ballon
- tenir un adversaire
- cracher sur un adversaire
- toucher délibérément le ballon des mains (excepté le gardien de but dans sa propre surface de réparation)

→ Tout coup franc direct doit être exécuté à l'endroit où la faute a été commise.

Coup de pied de réparation (pénalty)

Un penalty est accordé quand l'une de ces dix fautes est commise par un joueur dans sa propre surface de réparation, nonobstant l'endroit où se trouve le ballon à ce moment-là, pourvu qu'il soit en jeu.

Coup franc indirect

Un coup franc indirect est accordé à l'équipe adverse du gardien de but qui, se trouvant dans sa propre surface de réparation, commet l'une des cinq fautes suivantes :


- se déplacer plus de six secondes en possession du ballon avant de le lâcher des mains
- toucher une nouvelle fois le ballon des mains après l'avoir lâché, sans qu'il n'ait été touché par un autre joueur
- toucher le ballon des mains sur une passe bottée délibérément par un coéquipier
- toucher le ballon des mains directement sur une rentrée de touche effectuée par un coéquipier
- perdre du temps

Un coup franc indirect est également accordé à l'équipe adverse du joueur qui, de l'avis de l'arbitre :

- joue d'une manière dangereuse
- fait obstacle à l'évolution d'un adversaire
- empêche le gardien de but de lâcher le ballon des mains
- commet d'autres fautes non mentionnées au préalable dans la Loi 12, pour lesquelles le match est arrêté afin d'avertir ou d'expulser un joueur.

→ Tout coup franc indirect doit être exécuté à l'endroit où l'infraction a été commise.

Réponds maintenant aux questions suivantes.



❶ Entoure la bonne réponse à chaque question.

① Combien de fautes peuvent aboutir à un coup franc direct ?

- a) 4 b) 6 c) 8 d) 10

② À qui est accordé le coup franc ?

- a) au joueur qui a commis la faute b) au joueur qui a subi la faute
c) à l'équipe du joueur qui a commis la faute d) à l'équipe du joueur qui a subi la faute

③ Que se passe-t-il si un joueur autre que le gardien touche le ballon avec les mains dans la surface de réparation ?

- a) l'équipe adverse a un coup franc b) l'équipe adverse a un coup franc indirect
c) l'équipe adverse a un pénalty

④ À quel endroit doit-on jouer un coup franc indirect ?

- a) au point de pénalty b) dans le rond central
c) à l'endroit où a été commis la faute d) sur le bord de touche

⑤ Qui décide de la sanction ?

- a) l'entraîneur b) le joueur qui a commis la faute
c) le joueur qui a subi la faute d) l'arbitre

❷ Relie chaque faute à la sanction qui lui correspond.

Un joueur tacle un adversaire, et touche l'adversaire avant le ballon.

⊙ **Coup franc direct** ⊙

⊙ Le gardien court pendant 10 secondes avec le ballon dans les mains.

Un joueur donne un coup de pied à un adversaire.

⊙ **Coup franc indirect** ⊙

⊙ Un joueur fait une passe à son gardien et celui-ci l'attrape avec les mains.

Un joueur tombe tout seul.

⊙ **Pénalty** ⊙

⊙ Un joueur défenseur arrête le ballon avec les mains dans la surface de réparation.

Un joueur fait une passe à son gardien qui renvoie la balle au pied.

⊙ **Rien du tout** ⊙

⊙ Un joueur tacle un adversaire et lui prend le ballon sans le toucher.


❸ Quelle différence y a-t-il entre un coup franc direct et un pénalty ?

.....



Fiche 23 : Le ballon d'or

Bandian vit à Manoko un village guinéen, en Afrique. Il adore le football et voudrait devenir un grand joueur. Un jour, il déclenche involontairement un incendie dans la case du forgeron en tirant avec son nouveau ballon. Il quitte alors son village et se réfugie à Conakry, la capitale, où son talent est rapidement repéré. Il intègre même une école de football de la ville et doit jouer prochainement un match de Coupe contre l'équipe des Castors de Kindia. Remplaçant au début du match, l'entraîneur l'appelle pour prendre à la mi-temps la place de Touré, un joueur blessé.



[...] À la reprise, Bandian fit des étincelles. Les *Castors* s'étaient beaucoup usés en première mi-temps et le petit plus toujours nécessaire pour marquer leur manquait. Bandian, plus vif qu'une mouche à feu dans la nuit, plus zigzaguant qu'un moustique, était partout. Il anticipait l'action et passait : petit pont. Il relançait la contre-attaque et débordait : grand pont. Quand il réussit une belle reprise de volée qui rencontra l'estomac du goal, il fut totalement mis en confiance et redevint d'un coup, dans sa tête et dans ses jambes, la gazelle de Makono.

C'est lui qui marqua le premier but, un but enfantin comme en marquent les grands joueurs qui n'ont jamais oublié que le football est avant tout un jeu. Il loba le gardien qui s'était trop éloigné de sa cage. Le ballon glissa par petits bonds, comme à petits pas, au fond des filets.

Le reporter de la radio nationale s'égosillait pour apprendre à toute la Guinée qu'un nouveau champion venait de naître ; qu'un nouveau milieu de terrain était arrivé pour servir la Guinée.

À Makono, sous le baobab du village, Kanimadi, Keita-Radio-Kankan et les autres plus Sara écoutaient le reportage. Le but de Bandian avait déclenché des clameurs !

À Kindia, sur le terrain, c'étaient tam-tams, cris, sueur. Tam-tams, chants et le ballon d'un tir de vingt mètres feinta Abdou.

Conakry 1 – Castors de Kindia 1 .

Il ne restait plus que dix minutes à jouer. Tout était à refaire.

Tous les supporters de Conakry se mirent à crier BAN-DIAN, BAN-DIAN. Très vite, la musique accompagna leurs cris et, de plusieurs côtés du stade, monta une chanson qui disait seulement BAN-DIAN-TAM-TAM- BAN-DIAN-TAM-TAM- BAN-DIAN-TAM-TAM. Ce fut assez.

Bandian avala la comptine rythmée et attaqua encore. Il fit chanter le ballon pour répondre au chant des supporters. Il attaqua, oui, comme un feu de brousse poussé par l'harmattan. C'est sur une rentrée de touche qu'il devint maître du ballon, quand, du droit, il tira sèchement à ras de terre, les deux yeux fixés non pas sur le but adverse, mais sur le ballon.

Deux à un ! Score final !

Pour le premier tour de la Coupe, l'équipe de l'école de Conakry venait d'éliminer les *Castors* de Kindia.

Dans la joie du vestiaire, Béchir filmait tout le monde. Touré, jambe sérieusement bandée, félicitait Bandian.

- Bandian, à la fin de la partie, tu avais Papin dans une jambe et Maradona dans l'autre !

① Après avoir lu l'extrait d'un chapitre de ce roman, réponds aux questions suivantes.

- ① Quel surnom est donné à Bandian ?
- ② Pourquoi Bandian prend la décision de loper le gardien adverse sur la phase du premier but ?
- ③ Qui pourrait bien être Abdou ?
- ④ Comment ses amis de son village natal parviennent-ils à suivre le déroulement de la rencontre ?
- ⑤ Quel événement redonne du courage à Bandian pour tenter de marquer le but de la victoire ?
- ⑥ Quelle image (métaphore) utilise l'auteur pour montrer que Bandian maîtrise parfaitement le ballon grâce à sa technique ?
- ⑦ Quelle action de jeu permet à Bandian de récupérer le ballon pour ensuite marquer le deuxième but de son équipe ?

② L'auteur utilise souvent les comparaisons dans ses descriptions. Relève trois d'entre elles.

Exemple : Comparaison utilisée pour décrire la vivacité de Bandian pendant le match :

« plus vif qu'une mouche à feu dans la nuit »

- ◆ Comparaison utilisée pour décrire la qualité de dribble de Bandian :
- ◆ Comparaison utilisée pour décrire la vitesse d'attaque de Bandian :
- ◆ Comparaison utilisée pour décrire la puissance et l'adresse de Bandian :

③ Complète l'étoile du sens pour retrouver tous les mots et expressions du chapitre appartenant au champ lexical du football. Un exemple est donné dans chaque catégorie.

Actions de jeu :

- loper
-
-
-

Matériel :


- cage
-
-
-

Gestes techniques :

- petit pont
-
-
-

Bruits d'ambiance :

- clameurs
-
-
-





Fiche 24 : En pleine lucarne

Romain et Stéphane sont deux amis inséparables au collège comme au football. Dernièrement, dans leur équipe de cadets de Saint-Vincent-des-Bois, leur petit village normand, est arrivé Artun, un jeune Turc aux membres grêles mais endurant et très technique. Le nouvel arrivant va avoir un rôle déterminant dans l'événement qui suit. En plein hiver, l'entraîneur informe l'équipe qu'ils sont tombés, en match de coupe, contre l'équipe la plus forte de Normandie : le HAC !

Au début du mois de février, l'équipe de Saint-Vincent prend le bus pour se diriger vers le stade de l'équipe professionnel du Havre où ils vont jouer en lever de rideau.



[...] Les joueurs du HAC devaient avoir reçu pour mission de marquer d'entrée de jeu, puis de « gérer » le résultat sans trop se fatiguer. Dès le coup d'envoi, ils se précipitèrent en attaque. Les attaquants havrais faisaient un pressing constant sur nos arrières, pour les impressionner et leur faire commettre des fautes. Mais là, nos petits défenseurs firent merveille : sans s'affoler, Aurélien et Baptiste, nos deux arrières latéraux, avaient pris en charge les deux ailiers du Havre. Dès qu'ils récupéraient la balle, ils la passaient rapidement à Bastien, à Raphaël, et surtout à Antonin, dont la présence retrouvée en défense centrale nous donnait confiance. Plus d'une fois, ils durent même l'adresser en retrait à Mickaël, qui n'avait alors pas le droit de prendre le ballon à la main ; mais notre gardien avait été joueur de champ avant de devenir goal, et il relançait l'action sans problème, comme un défenseur supplémentaire. Les Havrais, un peu agacés de ne pas trouver la faille aussi vite qu'ils l'auraient souhaité, se découvraient de plus en plus. Et c'est là, au bout de dix minutes environ, qu'Artun effectua une de ces interceptions dont il avait le secret, surgissant comme un diable d'une boîte. Il prit à peine le temps de lever la tête : j'étais là, démarqué sur sa droite, juste au-delà du rond central. [...] Sans contrôler le ballon, je le glissai loin devant, de l'intérieur du pied, entre les deux défenseurs centraux du Havre. Un frisson délicieux me parcourut l'échine quand je vis que Romain avait pressenti l'action. Avec ces deux secondes d'avance qui font toute la différence, il avait démarré. Le libéro du Havre tenta un méchant tacle par derrière qui ne fit qu'effleurer la semelle de notre avant-centre : il était passé !

Il lui restait toutefois à faire ce que l'on considère à tort comme le plus facile, alors que c'est souvent le plus dur : se retrouver face à face avec le gardien adverse. Le goal du Havre avait bien joué le coup, s'avançant pour réduire l'angle tout en demeurant à la limite de sa surface, afin de pouvoir se servir de ses mains. Mais Romain fut plus habile encore. L'espace d'un instant, il feignit de tenter le lob au-dessus du gardien, obligeant ce dernier à se détendre en

extension. Mais déjà, Romain était parti en un court crochet sur la droite, et le goal havrais ne put qu'accompagner le ballon au fond de ses filets.

Un peu incrédule, le préposé au tableau d'affichage inscrivit : Visiteurs : 1 –HAC : 0

En seconde mi-temps, l'entraîneur du Havre fait entrer deux redoutables attaquants mais le gardien de but de Saint-Vincent réalise des exploits quand il n'est pas sauvé par la barre transversale. Cependant, il ne peut arrêter à quelques minutes de la fin du temps réglementaire un pénalty justement accordé par l'arbitre.

[...] Il restait trois minutes à jouer, et notre épuisement physique, augmenté par la déception de cette égalisation tardive, nous interdisait d'espérer quoi que ce soit de la prolongation. Mais l'entraîneur havrais commis une grosse erreur. Lui non plus ne souhaitait pas la prolongation, à cause de ce match de championnat important qui attendait ses joueurs deux jours plus tard. Aussi, persuadé de notre complet anéantissement, leur fait-il signe d'attaquer à tout va. Steve, notre demi offensif, n'avait guère eu l'occasion de s'illustrer jusqu'alors. Sur un envoi hasardeux d'Antonin, il se retrouva en possession du ballon dans le rond central. Romain et moi étions bien loin, repliés en défense, et il était sur le point de temporiser, aucune solution offensive ne se présentant, quand il sentit glisser sur droite une flèche rouge. C'était Artun, bien sûr. Aucun autre d'entre nous n'aurait eu la ressource de se lancer dans un sprint éperdu à ce moment du match.

Cette fois, le gardien du Havre ne se laissa pas déborder. Quand il se sentit pris de vitesse sur sa gauche par le débordement de notre feu follet, il sauta désespérément sur lui, le plaquant à la taille, comme eût fait un rugbyman.

Pas plus que deux minutes auparavant, l'arbitre n'hésita. Pénalty à nouveau. [...]

Je finis par m'avancer. Romain me donna une petite tape dans le dos. J'avais davantage l'impression d'être un condamné le jour d'une exécution capitale que celle de jouer au football. Le goal du Havre, pour m'agacer, vint aplanir une motte de terre, à côté du point de pénalty. Je lui tournai le dos pour ne pas réagir. Puis le coup de sifflet résonna, tout grêle dans le stade désert. Dans ces circonstances exceptionnelles, fallait-il changer de tactique, et tirer en force ? Mais non. Au dernier moment je me ravisai, me répétant intérieurement pendant les quatre foulées d'élan : « le même, le même que d'habitude. » Le même : intérieur du pied, à ras de terre, sur ma gauche. Avais-je tiré un peu moins fort qu'à l'accoutumée ? Il me sembla que le ballon n'en finissait pas de terminer sa course. Le gardien havrais s'était détendu. Je vis tout de suite que, malgré son plongeon spectaculaire, la balle serait hors de sa portée. Mais une fraction

de seconde, j'eus la certitude qu'elle allait sortir. Il n'en fut rien, et la chance devait décidément nous accompagner jusqu'au bout, ce jour-là. Le ballon heurta l'intérieur du poteau gauche, et pénétra dans la cage. Ces quelques secondes avaient duré en moi un temps infini.

Presque honteux d'avoir gagné ainsi contre cette équipe prestigieuse, sur son propre terrain, nous attendîmes de regagner nos vestiaires pour manifester complètement notre joie. Mais là, les chants et les hurras refoulés éclatèrent de plus belle. Saint-Vincent-des-Bois élimine le HAC ! Quand le car quitta la ville, il nous sembla que les torchères du havre flambaient en notre honneur.

En pleine lucarne, roman de jeunesse de Philippe Delerm, collection Folio Junior, Gallimard.

① Après avoir lu deux extraits de huitième chapitre de ce roman, réponds aux questions suivantes.

① Le narrateur est l'un des héros de cette histoire. Qui est-il ?

② Que signifient les initiales HAC (Aide-toi de la fiche 1) ?

③ Quel est le score du match à la fin du temps réglementaire ?

④ À qui le narrateur compare-t-il Artun pour montrer qu'il court très vite ?
.....

⑤ Après une hésitation, Stéphane tire son pénalty comme d'habitude. Pourquoi n'a-t-il pas changé sa technique de frappe ?

⑥ Pour quelle raison l'entraîneur du Havre tente-t-il de gagner le match avant la prolongation ?

⑦ Le narrateur imagine que les torchères, ces grandes cheminées par lesquelles brûlent des résidus gazeux des raffineries, flambent en leur honneur. Pourquoi les torchères sont-elles nombreuses au Havre ?

② Retrouve les anagrammes de mots du texte appartenant au champ lexical du football.

Exemple : DAIGNER → GARDIEN (Seul défenseur de l'équipe à pouvoir protéger le but avec ses mains à l'intérieur de la surface de réparation).

① BOL → _ _ _ (geste technique qui consiste à faire passer le ballon au-dessus de son adversaire.)

② LACET → _ _ _ _ (glissade destinée à prendre le ballon de l'adversaire avec le pied.)

③ TRAITRE → _ _ _ _ _ (nom donné aux passes en arrière.)



Fiche 25 : Le premier tour de la compétition

GROUPE A

Les scores

Vendredi 11 juin, 21h à Rome	Turquie			Italie
Samedi 12 juin, 15h à Bakou	Pays de Galles			Suisse
Mercredi 16 juin, 18h à Bakou	Turquie			Pays de Galles
Mercredi 15 juin, 21h à Rome	Italie			Suisse
Dimanche 20 juin, 18h à Bakou	Suisse			Turquie
Dimanche 20 juin, 18h à Rome	Italie			Pays de Galles

Le classement

Groupe A	V	N	D	Points	BP	BC	+/-	Classement
Turquie								
Italie								
Pays de Galles								
Suisse								

GROUPE B

Les scores

Samedi 12 juin, 18h à Copenhague	Danemark			Finlande
Samedi 12 juin, 21h à Saint-Pétersbourg	Belgique			Russie
Mercredi 16 juin, 15h à Saint-Pétersbourg	Finlande			Russie
Jeudi 17 juin, 18h à Copenhague	Danemark			Belgique
Lundi 21 juin, 21h à Copenhague	Russie			Danemark
Lundi 21 juin, 21h à Saint-Pétersbourg	Finlande			Belgique

Le classement

Groupe B	V	N	D	Points	BP	BC	+/-	Classement
Danemark								
Finlande								
Belgique								
Russie								

GROUPE C



Les scores

Dimanche 13 juin, 21h à Amsterdam	Pays-Bas			Ukraine
Dimanche 13 juin, 18h à Bucarest	Autriche			Macédoine du N.
Jeudi 17 juin, 21h à Amsterdam	Pays-Bas			Autriche
Jeudi 17 juin, 15h à Bucarest	Ukraine			Macédoine du N.
Lundi 21 juin, 18h à Amsterdam	Macédoine du N.			Pays-Bas
Lundi 21 juin, 18h à Bucarest	Ukraine			Autriche

Le classement

Groupe C	V	N	D	Points	BP	BC	+/-	Classement
Pays-Bas								
Ukraine								
Autriche								
Macédoine du Nord								

GROUPE D

Les scores

Dimanche 13 juin, 15h à Londres	Angleterre			Croatie
Lundi 14 juin, 15h à Glasgow	Écosse			Tchéquie
Vendredi 18 juin, 18h à Glasgow	Croatie			Tchéquie
Vendredi 18 juin, 21h à Londres	Angleterre			Écosse
Mardi 22 juin, 21h à Glasgow	Croatie			Écosse
Mardi 22 juin, 21h à Londres	Tchéquie			Angleterre

Le classement

Groupe D	V	N	D	Points	BP	BC	+/-	Classement
Angleterre								
Croatie								
Écosse								
Tchéquie								



GROUPE E

Les scores

Lundi 14 juin, 21h à Séville	Espagne			Suède
Lundi 14 juin, 18h à Saint-Pétersbourg	Pologne			Slovaquie
Vendredi 18 juin, 15h à Saint-Pétersbourg	Suède			Slovaquie
Samedi 19 juin, 21h à Séville	Espagne			Pologne
Mercredi 23 juin, 18h à Séville	Slovaquie			Espagne
Mercredi 23 juin, 18h à Saint-Pétersbourg	Suède			Pologne

Le classement

Groupe E	V	N	D	Points	BP	BC	+/-	Classement
Espagne								
Suède								
Pologne								
Slovaquie								

GROUPE F

Les scores

Mardi 15 juin, 18h à Budapest	Hongrie			Portugal
Mardi 15 juin, 21h à Munich	France			Allemagne
Samedi 19 juin, 15h à Budapest	Hongrie			France
Samedi 19 juin, 18h à Munich	Portugal			Allemagne
Mercredi 23 juin, 21h à Budapest	Portugal			France
Mercredi 23 juin, 21h à Munich	Allemagne			Hongrie

Le classement

Groupe F	V	N	D	Points	BP	BC	+/-	Classement
Hongrie								
Portugal								
France								
Allemagne								



Fiche 26 : Les qualifiés pour la phase finale

Douze équipes sont qualifiées automatiquement pour la phase finale : les deux premières de chaque groupe. Afin de pouvoir organiser des huitièmes de finale, il faut « repêcher » les 4 meilleures équipes classées « troisième » de leur poule.

Pour les désigner, un classement est effectué en comparant les résultats de chacune des six équipes. Les deux équipes classées « troisième » avec le moins de points sont éliminées comme toutes les équipes classées « quatrième » de leur groupe.

① Complète le tableau ci-dessous grâce aux résultats collectés dans la fiche 23.

Groupe	Équipes 3 ^e de leur groupe	V	N	D	Points	BP	BC	+/-	Rang
A									
B									
C									
D									
E									
F									

② Noircis dans le nuage de mots les huit équipes éliminées lors du 1^{er} tour afin qu'il reste seulement les 16 équipes qualifiées.





Fiche 27 : Le tableau final de l'Euro 2020

