
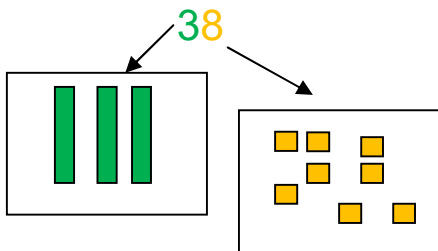


Lundi 11 mai

Lis les bulles le plus rapidement possible, dans l'ordre que tu veux : tu dois reconnaître ces nombres.

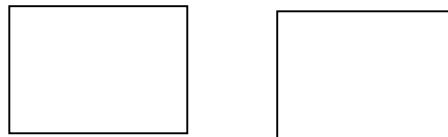


2) Complète comme dans l'exemple :



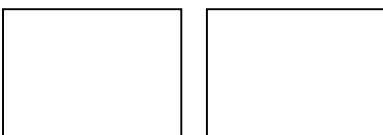
$10 + 10 + 10 + 8$

56



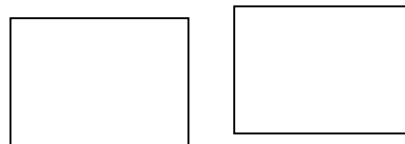
.....

47



.....

27




.....

Mardi 12 mai

1) Voici ton porte monnaie :

Dessine l'argent dont tu as besoin pour payer un objet à **16 euros.**

PORTE MONNAIE 1



Billets et pièces :

2) Complète avec les nombres manquants

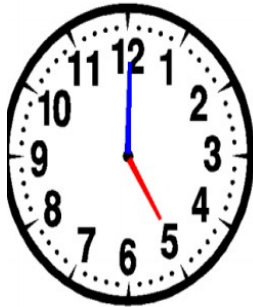
1	2	3	...	5	...	7	8	...	10
11	14	...	16	19	...
...	22	25	28	...	30
...	...	33	...	35	...	37	...	39	...
...	42	...	44	...	46	50

Jeudi 14 mai

Lire l'heure

La **petite** aiguille indique les **heures**.

La **grande** aiguille indique les **minutes**.



La **grande aiguille** indique **00** minute.

La **petite aiguille** est sur le **5**

Il est **5 h 00**

Il est **5 h 00**

A toi de jouer !



La **grande aiguille** indique **00** minute.

La **petite aiguille** est sur le

Il esth **00**



HORODATOR ★

1



Il est....h



Il est....h



Il est....h



HORODATOR ★

2



Il est....h



Il est....h



Il est....h



HORODATOR ★

3



Il est....h



Il est....h



Il est....h



HORODATOR ★

4



Il est 5 h



Il est 11 h



Il est 6 h

Vendredi 15 mai

<https://www.logicieleducatif.fr/math/problemes/heures.php>

Faire les niveaux 1 et 2 seulement sur les heures.