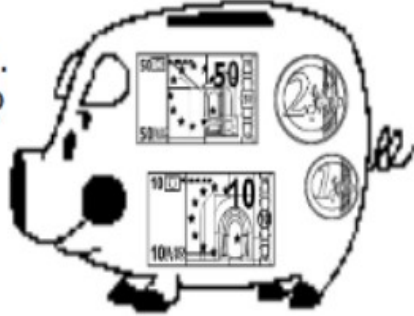


Mardi 2 juin

1 - La soustraction posée

Builder a 63 €, il dépense 42 €. Combien d'argent lui **reste-t-il** ?



Commence toujours par les unités !

Enlève 42

3 - 2

6 - 4

	d	u
	6	3
-	4	2
	2	1

Il reste €.

$63 - 42 = 21$

	9	8
-	3	6

	9	1
-	7	0

2-Lire les nombres et les décomposer.

vingt-sept

$$27 = 20 + 7$$

trente-huit

quarante-deux

cinquante-six

cinquante-sept

quarante-neuf

seize

quarante-et-un

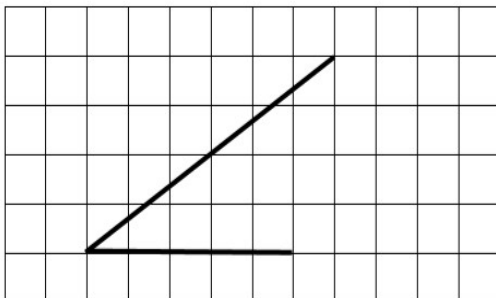
vingt-trois

trente-quatre

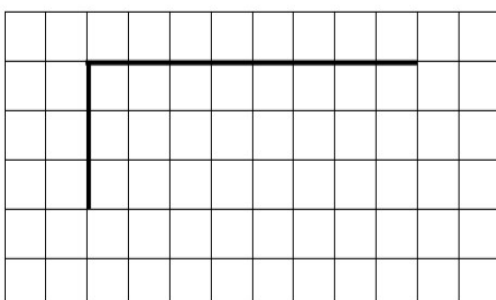
Exercice :

Finis les figures pour obtenir :

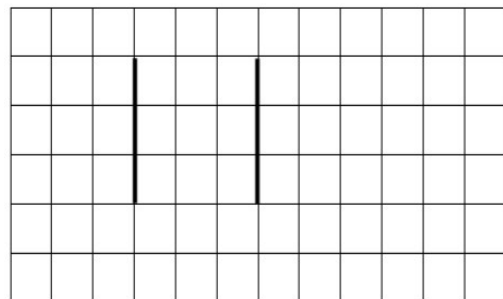
- un triangle :



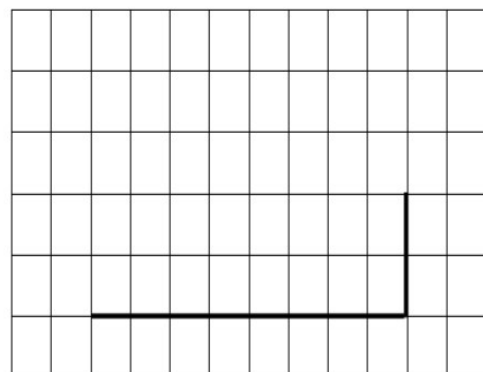
- un rectangle :



- un carré :



- un rectangle :



Jeudi 4 juin

$$\begin{array}{r} \overset{\cdot\cdot\cdot}{8} \ \overset{\cdot\cdot\cdot}{6} \\ - \ \overset{\cdot\cdot\cdot}{3} \ \overset{\cdot\cdot\cdot}{3} \\ \hline \square \ \square \end{array}$$

$$\begin{array}{r} \overset{\cdot\cdot\cdot}{7} \ \overset{\cdot\cdot\cdot}{6} \\ - \ \overset{\cdot\cdot\cdot}{2} \ \overset{\cdot\cdot\cdot}{3} \\ \hline \square \ \square \end{array}$$

$$\begin{array}{r} \overset{\cdot\cdot\cdot}{5} \ \overset{\cdot\cdot\cdot}{7} \\ - \ \overset{\cdot\cdot\cdot}{1} \ \overset{\cdot\cdot\cdot}{4} \\ \hline \square \ \square \end{array}$$

$$\begin{array}{r} \overset{\cdot\cdot\cdot}{9} \ \overset{\cdot\cdot\cdot}{4} \\ - \ \overset{\cdot\cdot\cdot}{1} \ \overset{\cdot\cdot\cdot}{2} \\ \hline \square \ \square \end{array}$$

Ajouter 10

23 + 10 =

15 + 10 =

23 + 10 =

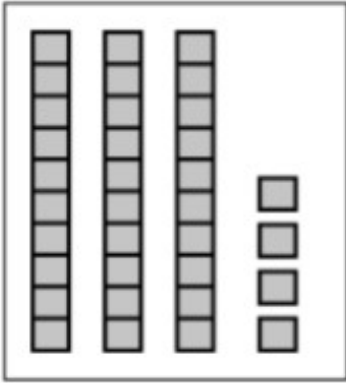
32 + 10 =

22 + 10 =



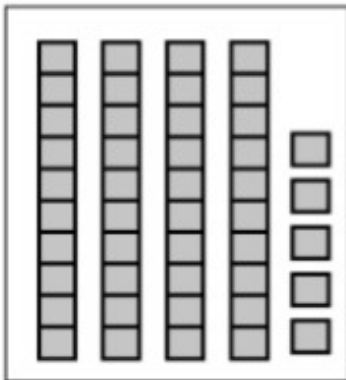
25 + 10 =

42 + 10 =

Ecrire les nombres représentés



$$3d + 4u = 34$$



Vendredi 5 juin

Les soustractions

$$\begin{array}{r} \overset{\cdot\cdot\cdot\cdot}{\boxed{6}} \ \overset{\cdot\cdot\cdot\cdot}{\boxed{5}} \\ - \ \overset{\cdot\cdot\cdot\cdot}{\boxed{3}} \ \overset{\cdot\cdot\cdot\cdot}{\boxed{1}} \\ \hline \boxed{} \ \boxed{} \\ \cdot\cdot\cdot\cdot \ \cdot\cdot\cdot\cdot \end{array}$$
$$\begin{array}{r} \overset{\cdot\cdot\cdot\cdot}{\boxed{9}} \ \overset{\cdot\cdot\cdot\cdot}{\boxed{7}} \\ - \ \overset{\cdot\cdot\cdot\cdot}{\boxed{2}} \ \overset{\cdot\cdot\cdot\cdot}{\boxed{1}} \\ \hline \boxed{} \ \boxed{} \\ \cdot\cdot\cdot\cdot \ \cdot\cdot\cdot\cdot \end{array}$$

L'heure

www.meslivres.com

Objectif : Je sais lire les heures justes, les demi-heures et les quarts d'heure.

1. Écris les heures indiquées sur ces horloges.



Il est h min.



Il est h min.



Il est h min.



Il est h min.



Il est



Il est



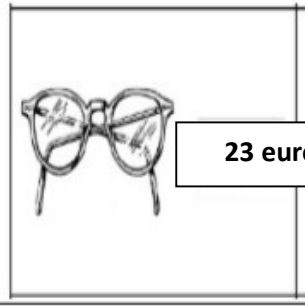
Il est



Il est



Tu as



23 euros

Dessine les billets pour payer :



32 euros

Dessine les billets pour payer :

