

Séance 6 : LUNDI 30 MAI

Complète la droite



2/ Place les nombres suivants sur la droite graduée : 475 ; 492 ; 504

Problème :



Il y a pics.



J'ai besoin de Legos.

3 Ecris les 2 multiplications qui conviennent.



2×6
 6×2



__x__
__x__



__x__
__x__



__x__
__x__




__x__
__x__

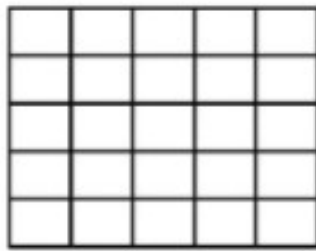


__x__
__x__


4 Colorie comme demandé.



3×5



4×3



5×2



Calcul en ligne :

$50 + 40$	$60 + 40$	$70 + 30$
..