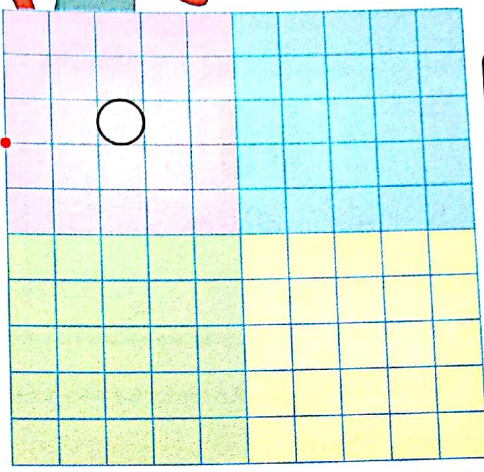
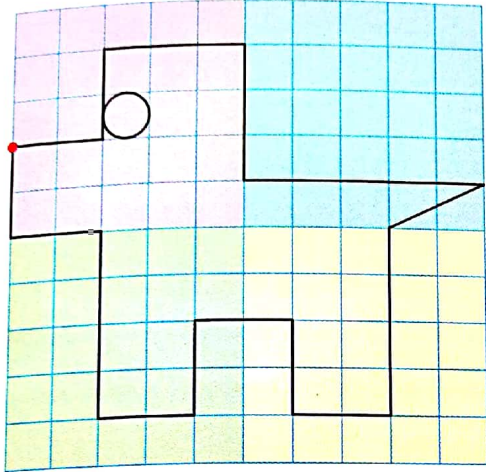



Reproduire une figure sur quadrillage (1)



Découvrons ensemble

Reproduis le dessin de Mélissa en t'aidant des zones colorées.

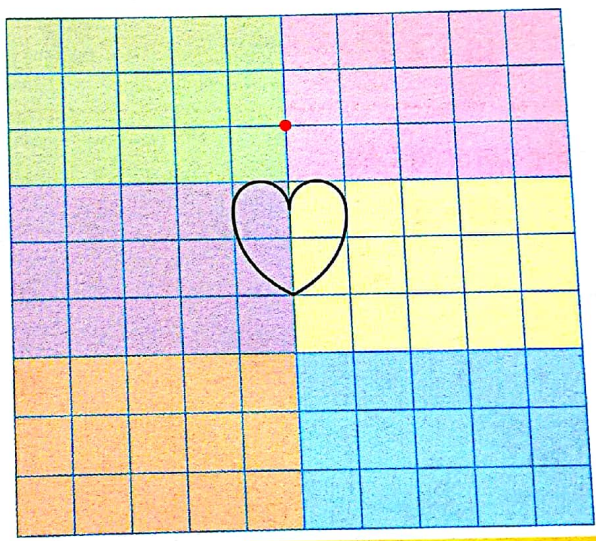
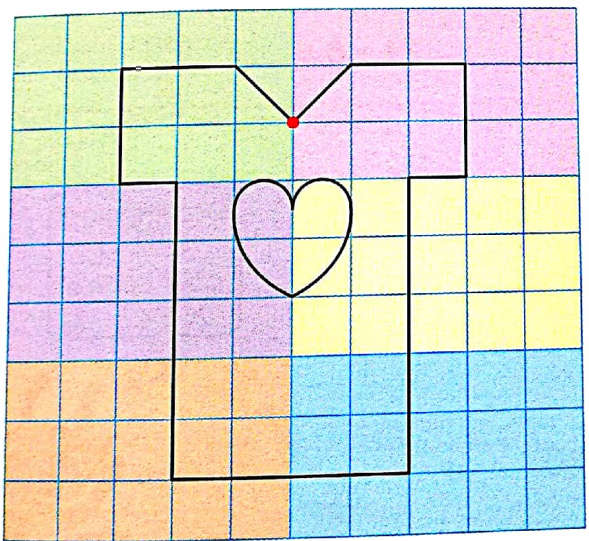


Compte les carreaux dans les zones de couleur.



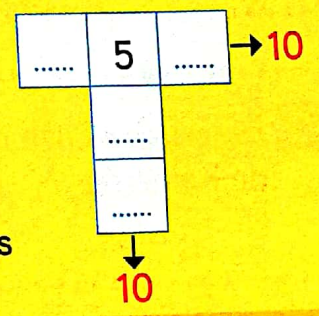
Je m'entraîne

1 Reproduis le dessin.



Le coin du chercheur

Écris les nombres 1; 2; 3; 4 pour que les sommes en ligne et en colonne soient égales à 10.



2 Complète.

$19 + 1 = \dots\dots\dots$	$39 + 1 = \dots\dots\dots$	$29 + 1 = \dots\dots\dots$
$30 - 1 = \dots\dots\dots$	$40 - 1 = \dots\dots\dots$	$50 - 1 = \dots\dots\dots$

Compétence : Reproduire un dessin sur quadrillage.
 Calcul mental : Dictée de nombres (nombres < 60). L'enseignant dit : « 29 » ; l'élève écrit 29.