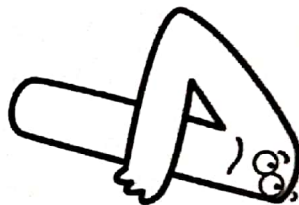


# Je révisie



Exercice n° 1

Ecris et calcule les produits.



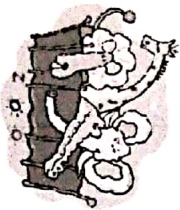

..... X ..... = ..... X ..... = .....

..... X ..... = ..... X ..... = .....

..... X ..... = ..... X ..... = .....

Exercice n° 2

Résous ce problème.



Rémi a pris 156 photos au zoo et 73 à la plage. Combien a-t-il pris de photos ?

Calcul : .....


Phrase-réponse :

Rémi a pris ..... photos.

Score :

Exercice n° 3

complète par symétrie.



Score :

# Je révisé


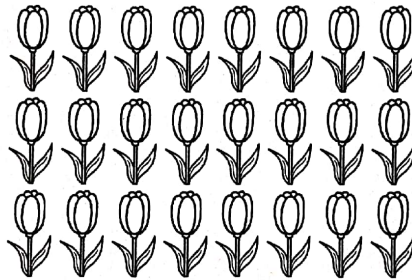



.....  
.....

## Exercice n° 1

Score :

Complète les égalités.



6 + ..... = .....  
2 + ..... = .....  
6 X ..... = 2 X ..... = .....

8 + ..... = .....  
3 + ..... = .....  
8 X ..... = 3 X ..... = .....

..... + ..... = .....  
..... + ..... = .....  
..... X ..... = ..... X ..... = .....

## Exercice n° 2

Score :

Colorie de la même couleur les additions et les multiplications qui leur correspondent.

3 + 3 + 3 + 3

4 X 5

3 X 4

9 + 9 + 9

3 X 9

4 + 4 + 4 + 4 + 4

5 X 7

7 + 7 + 7 + 7 + 7

<http://laclasselleue.fr/>

La multiplication