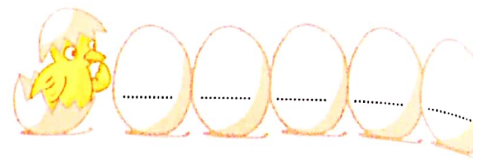



Problèmes : Situations additives ou soustractives (4)



1



Théo a des images.



Son frère lui donne 20 images.



Théo a maintenant 60 images.

Combien d'images Théo avait-il au début ?
Écris l'opération et calcule.

Imagine que Théo rende les 20 images à son frère.

..... =


Complète la phrase réponse. Au début, Théo avait



2



Théo a des images.



Théo donne 10 images à Léa.



Théo a maintenant 40 images.

Combien d'images Théo avait-il au début ?

Écris l'opération et calcule. =

Complète la phrase réponse. Au début, Théo avait

3



Théo a des billes.



Théo donne 30 billes à Léa.



Théo a maintenant 20 billes.

Combien de billes Théo avait-il au début ?

Écris l'opération et calcule. =

Complète la phrase réponse. Au début, Théo avait

Compétence : Trouver la valeur de l'état initial dans un problème de transformation d'état.
Calcul mental : Tables d'addition. L'enseignant dit : « 8 + 5 » ; l'élève écrit 13.