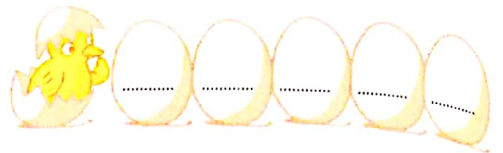


Problèmes : Situations additives ou soustractives (2)



1



Le car transporte 15 élèves.

8 élèves montent.

Le car repart.

Combien d'élèves le car transporte-t-il quand il repart ?

Écris l'opération et calcule.



..... =

Complète la phrase réponse.

Quand il repart, le car transporte élèves.



2



Le car transporte 18 élèves.

6 élèves descendent.




Le car repart.

Combien d'élèves le car transporte-t-il quand il repart ?

..... =

Quand il repart, le car transporte élèves.

3



L'aquarium contient 24 poissons.

On retire 5 poissons.

L'aquarium contient moins de poissons.

Combien de poissons reste-t-il dans l'aquarium ?

..... =

Il reste poissons dans l'aquarium.

Compétence : Calculer la valeur de l'état final dans une transformation additive ou soustractive.
 Calcul mental : Ajouter 10. L'enseignant dit : « 34 + 10 = ... » ; l'élève écrit 44.