

Prénom : _____ Date : _____

1. Entoure le nombre secret parmi les nombres ci-dessous.

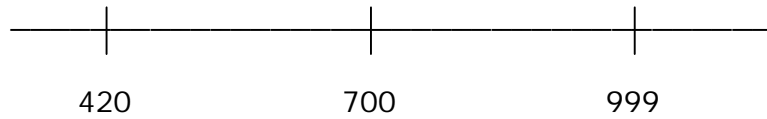
352 - 325 - 438 - 560 - 700

Le nombre secret est :

- Plus grand que 330
- Plus petite que 500
- Plus grand que 400

2. Place les nombres suivants sur la droite.

832 - 653 - 380 - 975

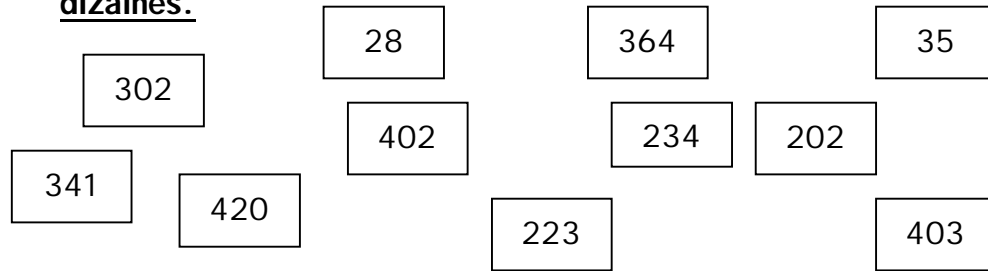


3. Classe les nombres suivants dans l'ordre croissant.

193 - 78 - 548 - 840 - 999 - 480 - 319 - 250 - 408 - 654

| | | | | | | | | | |
|--|--|--|--|--|--|--|--|--|--|
| | | | | | | | | | |
|--|--|--|--|--|--|--|--|--|--|

4. Colorie en bleu les nombres qui ont 2 comme chiffre des dizaines.



Colorie en rouge ceux qui ont à la fois 3 comme chiffre des centaines et 4 comme chiffres des unités.

5. Calcule.

$700 + 80 + 2 = \underline{\quad}$ $500 + 60 = \underline{\quad}$ $800 + 40 + 2 = \underline{\quad}$

$900 + 70 + 7 = \underline{\quad}$ $600 + 50 = \underline{\quad}$ $600 + 60 + 6 = \underline{\quad}$

Prénom : _____ Date : _____

1. Entoure le nombre secret parmi les nombres ci-dessous.

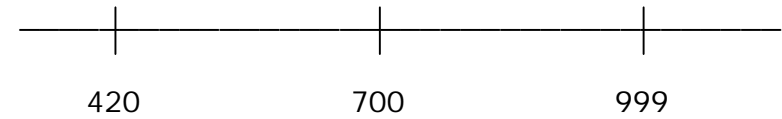
352 - 325 - 438 - 560 - 700

Le nombre secret est :

- Plus grand que 330
- Plus petite que 500
- Plus grand que 400

2. Place les nombres suivants sur la droite.

832 - 653 - 380 - 975

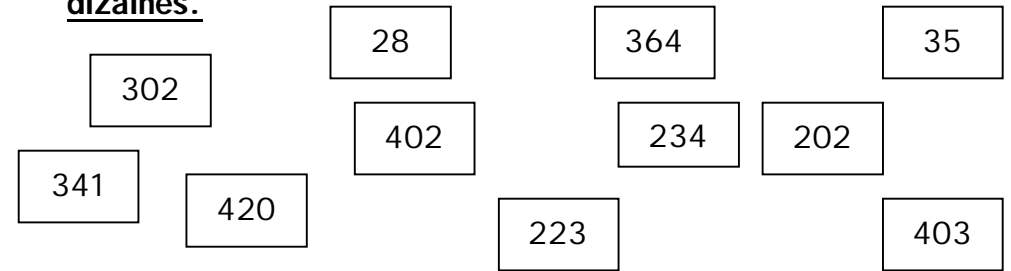


3. Classe les nombres suivants dans l'ordre croissant.

193 - 78 - 548 - 840 - 999 - 480 - 319 - 250 - 408 - 654

| | | | | | | | | | |
|--|--|--|--|--|--|--|--|--|--|
| | | | | | | | | | |
|--|--|--|--|--|--|--|--|--|--|

4. Colorie en bleu les nombres qui ont 2 comme chiffre des dizaines.



Colorie en rouge ceux qui ont à la fois 3 comme chiffre des centaines et 4 comme chiffres des unités.

5. Calcule.

$700 + 80 + 2 = \underline{\quad}$ $500 + 60 = \underline{\quad}$ $800 + 40 + 2 = \underline{\quad}$

$900 + 70 + 7 = \underline{\quad}$ $600 + 50 = \underline{\quad}$ $600 + 60 + 6 = \underline{\quad}$

