


6 Lire l'heure

✓ Je sais lire l'heure sur une horloge à aiguilles.



La petite aiguille indique les heures.
La grande aiguille indique les minutes.

1 heure = 60 minutes

Il est 8 heures et demie.


1 Barre les horaires qui ne correspondent pas à l'horloge.




- 6 heures
- 10h30
- 12h00
- 10h00
- 10 heures
- 9h00



- 3 heures
- 2 heures
- 15 heures
- 14h00
- 14 heures
- midi

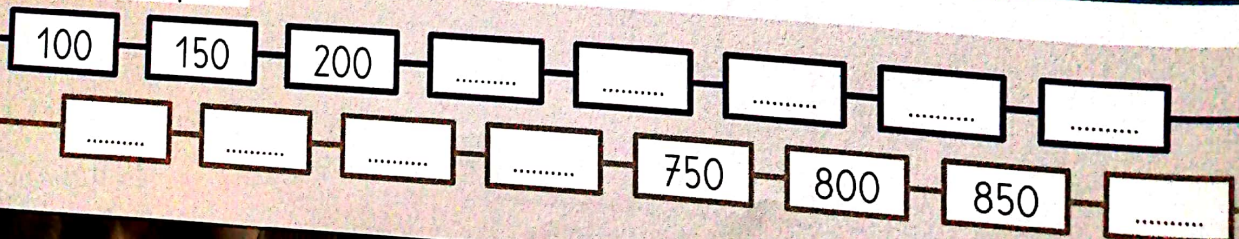


- 19 heures 30
- 7h30
- 18 heures
- 6h30
- 7 heures
- 19h30



- 10h30
- 6 heures
- 18 heures
- 6h00
- 11 heures et demie
- 11h30

Observe et complète.



Complète avec les mots: matin, après-midi, soir.



Matin



Écris l'heure sur les cadrans.



matin

7:00




après-midi

:



matin

:



soir


:




matin

:


Dessine les aiguilles.




9h00



11h30



17h30




19h00

Complète.




matin

Il est




après-midi

Il est



après-midi

Il est



matin

Il est

Calcule.

$$\begin{array}{r} 376 \\ + 217 \\ \hline \end{array}$$

$$\begin{array}{r} 283 \\ + 457 \\ \hline \end{array}$$

$$\begin{array}{r} 79 \\ - 37 \\ \hline \end{array}$$

$$\begin{array}{r} 61 \\ - 25 \\ \hline \end{array}$$

✓ Je connais les relations en heure et minute, jour et heure.

Il y a 60 minutes dans une heure.

$$1 \text{ h} = 60 \text{ min}$$

Il y a 24 heures dans une journée.


$$1 \text{ j} = 24 \text{ h}$$

Complète avec l'unité qui convient: min, h, j.

1



Une matinée d'école dure environ 3.....



Le dessin animé dure 5.....




Line est partie en vacances pendant 3.....



La récréation dure 15.....




Noa dort au moins 9..... par nuit.




Line se brosse les dents pendant 3.....

Complète puis réponds à la question.

2



Au cinéma, le film de l'après-midi débute à



Le film se termine à

Combien de temps a duré le film?

Devinette: cherche un nombre.


- Il est plus grand que 600.
- Il est plus petit que 700.
- Il se termine par le chiffre 0.
- La somme de ses chiffres est égale à 10.

C'est le nombre:


.....

3 Dessine les aiguilles qui manquent.

Le cours de guitare de Léo dure 1h.



Le cours de trompette de Line dure 30min.



4 Complète ces phrases.

Une heure, c'est minutes.

Une demi-heure, c'est minutes.

Une heure et demie, c'est minutes.

Deux heures, c'est minutes.

1 jour, c'est heures.

1 semaine, c'est jours.

2 jours, c'est heures.

1 année, c'est mois.

5 Résous le problème dans ton cahier.



Il est 9h30.
Monsieur Lima met de l'argent dans le parcmètre pour une durée de 2 heures.
À quelle heure, au plus tard, devra-t-il reprendre sa voiture?

6 Résous le problème dans ton cahier.



Madame Casa est partie de chez elle à 19h30 pour se rendre au cinéma. Elle arrive à 20h00.
Combien de temps a duré son trajet?

7 Résous le problème dans ton cahier.



Nous sommes lundi.
Il est 15 heures. L'avion de Léo décolle dans 24 heures.
Quel jour et à quelle heure l'avion de Léo décollera-t-il?

8 Résous le problème dans ton cahier.



Il est 11h00.
Le train part à midi.
Combien de minutes Tom doit-il encore attendre avant le départ du train?



calcule.

$$\begin{array}{r} 75 \\ + 569 \\ \hline \end{array}$$

$$\begin{array}{r} 387 \\ + 173 \\ \hline \end{array}$$

$$\begin{array}{r} 83 \\ - 58 \\ \hline \end{array}$$

$$\begin{array}{r} 79 \\ - 53 \\ \hline \end{array}$$