
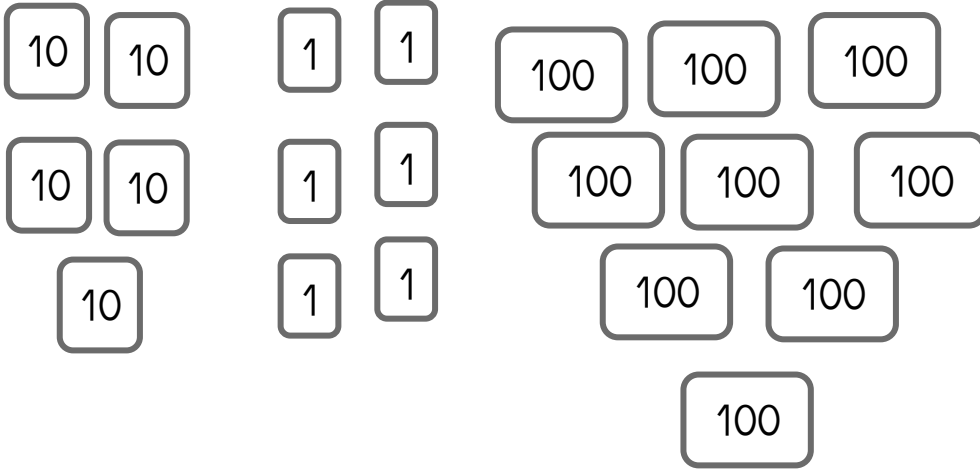






Numération

Fiche 14

1 Ecris le nombre sur la carte de Girobot.



2 Dessine le bon nombre de centaines, dizaines et unités.



3 Complète les suites en comptant de 1 en 1





Numération

1 Ecris les nombres en chiffres.

12 dizaines =

4 dizaines + 8 unités =

32 dizaines =

5 centaines + 8 unités =

41 dizaines + 3 unités =


4 dizaines =

24 dizaines + 7 unités =

9 centaines =

2 Range ces nombres dans l'ordre décroissant :

311 ; 34 ; 504 ; 621 ; 408 ; 509



> > > >

3 Ecris ces nombres en chiffres.


huit-cent-trois

sept-cent-quatre-vingt-treize

cinq-cent-trente

neuf-cent-quatre-vingt-dix

4 Ecris ces nombres en lettres.

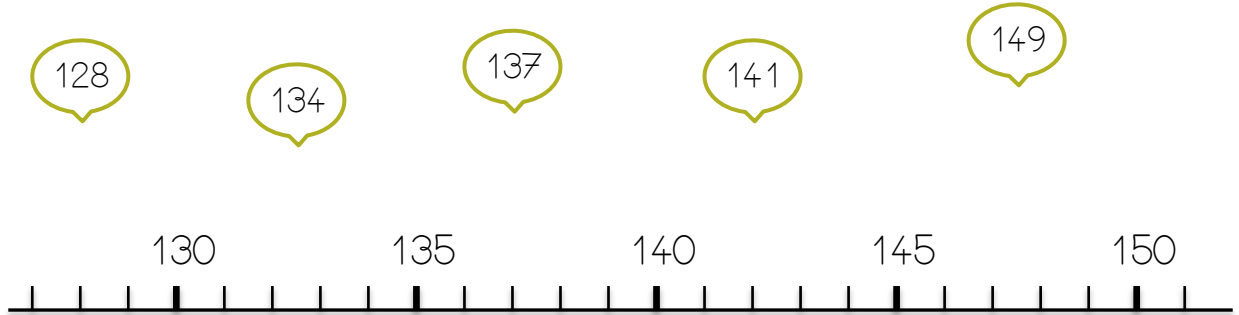




Numération

Fiche 17

1 Relie les nombres sur la ligne graduée





2 Décompose les nombres comme dans l'exemple :

278	200 + 70 + 8	313	<input type="text"/>
457	<input type="text"/>	524	<input type="text"/>
923	<input type="text"/>	769	<input type="text"/>

3 Ecris ces nombres en chiffres ou en lettres.

sept-cent-quatre	<input type="text"/>	deux-cent-quatre-vingt-trois	<input type="text"/>
------------------	----------------------	------------------------------	----------------------



4 Complète chaque série de 10 en 10

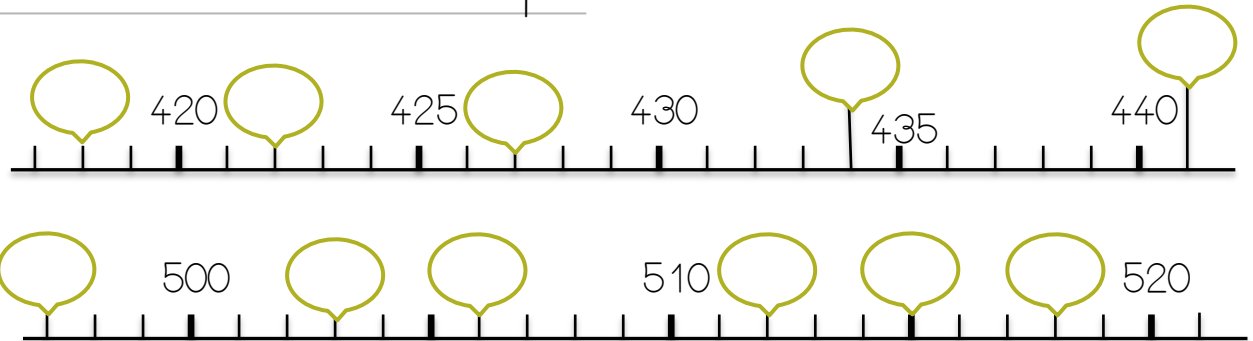
241	<input type="text"/>	<input type="text"/>	<input type="text"/>	<input type="text"/>	<input type="text"/>	<input type="text"/>	<input type="text"/>	<input type="text"/>	<input type="text"/>	<input type="text"/>
135	<input type="text"/>	<input type="text"/>	<input type="text"/>	<input type="text"/>	<input type="text"/>	<input type="text"/>	<input type="text"/>	<input type="text"/>	<input type="text"/>	<input type="text"/>



Numération

Fiche 19

1 Ecris les nombres dans chaque bulle .




2 Décompose le nombre comme dans l'exemple :

278 2 centaines 7 dizaines 8 unités

287

156

760



3 Compte de 5 en 5

510

4 Compare les nombres en utilisant les signes < et >.

236 580

369 769

298 134

496 652

870 375


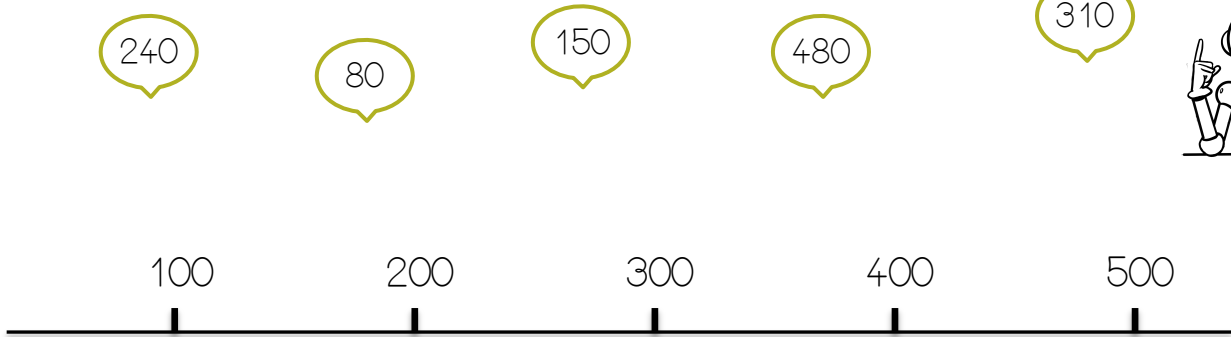
356 365



Numération

Fiche 20


1 Place les nombres de façon approximative sur la ligne graduée :



2 Ecris le nombre comme dans l'exemple :

412	41 dizaines et 2 unités		57 dizaines
	37 dizaines et 9 unités		8 centaines et 2 unités
	2 centaines et 34 unités		64 dizaines et 2 unités
	196 unités		9 centaines

3 Compte de 5 en 5



4 Compare les nombres en utilisant les signes < et >.

780 870	176 173	719 709
359 914	451 461	885 895