

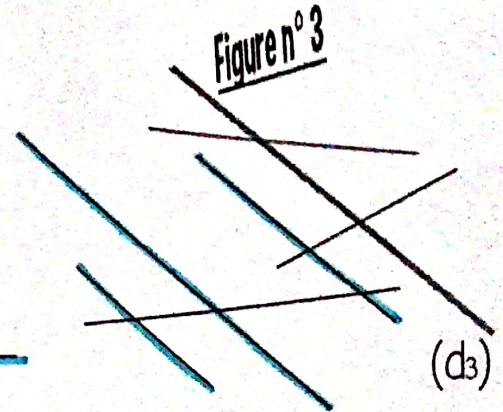
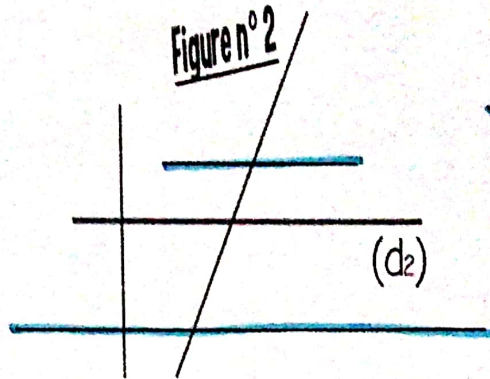
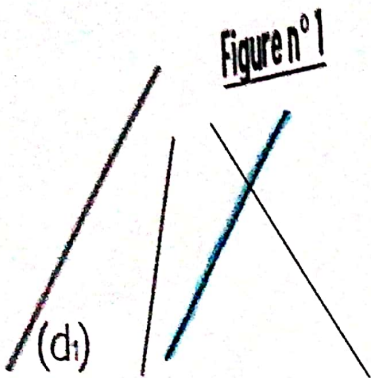
Géométrie (CM1)

Date _____
Prénom _____





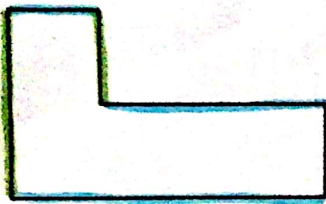
2

<http://laclassebleue.fr/>

1. Repasse les droites parallèles aux droites (d_1) , (d_2) et (d_3) .



2. Repasse de la même couleur les côtés parallèles entre eux.



3. Dans ton cahier, trace un rectangle de 5 carreaux sur 8, puis repasse en couleur les côtés parallèles entre eux.

Géométrie/Droites parallèles

