
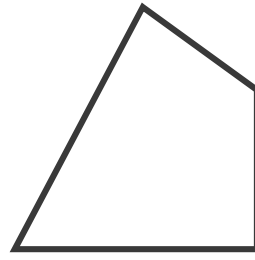



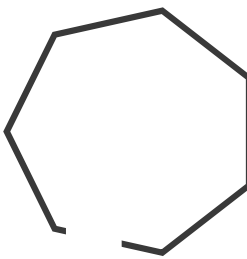


Date _____

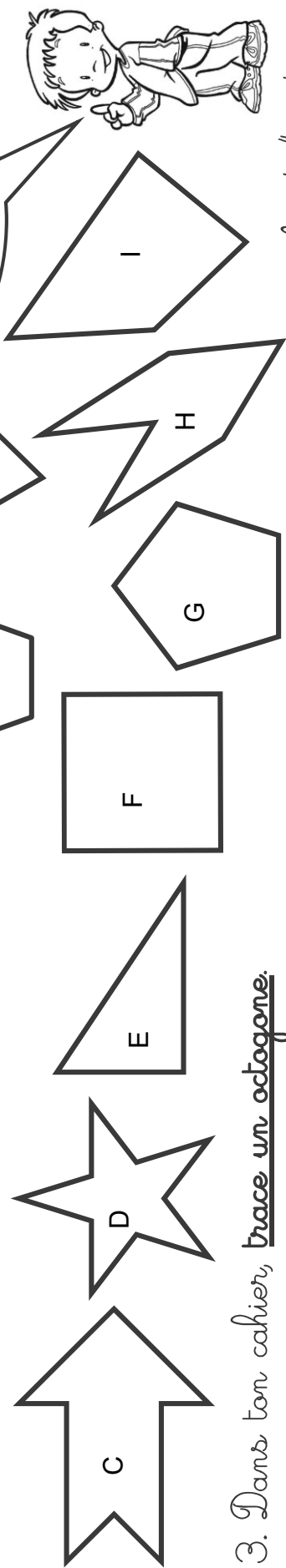
Prénom _____

1. Ces figures sont-elles des polygones ?

	<input type="checkbox"/> Oui <input type="checkbox"/> Non		<input type="checkbox"/> Oui <input type="checkbox"/> Non		<input type="checkbox"/> Oui <input type="checkbox"/> Non		<input type="checkbox"/> Oui <input type="checkbox"/> Non		<input type="checkbox"/> Oui <input type="checkbox"/> Non		<input type="checkbox"/> Oui <input type="checkbox"/> Non
-------------------------------------------------------------------------------------	-----------------------------------------------------------	-------------------------------------------------------------------------------------	-----------------------------------------------------------	-------------------------------------------------------------------------------------	-----------------------------------------------------------	------------------------------------------------------------------------------------	-----------------------------------------------------------	-----------------------------------------------------------------------------------	-----------------------------------------------------------	-----------------------------------------------------------------------------------	-----------------------------------------------------------

2. Colorie de la bonne couleur.

<u>triangle</u>	<u>quadrilatère</u>	<u>pentagone</u>	<u>hexagone</u>	<u>octogone</u>
BLEU	JAUNE	ROUGE	VERT	VIOLET



3. Dans ton cahier, trace un octogone.


Geométrie GMI

5

Date _____

Prénom _____


1. Coche la bonne réponse.



1) La figure A est un <u>polygone</u> .	<input type="checkbox"/> Vrai <input type="checkbox"/> Faux
2) La figure C n'a pas de <u>diagonale</u> .	<input type="checkbox"/> Vrai <input type="checkbox"/> Faux
3) La figure C est un <u>polygone</u> .	<input type="checkbox"/> Vrai <input type="checkbox"/> Faux
4) La figure E a <u>8 côtés</u> et <u>8 sommets</u> .	<input type="checkbox"/> Vrai <input type="checkbox"/> Faux
5) La figure D est un <u>quadrilatère</u> .	<input type="checkbox"/> Vrai <input type="checkbox"/> Faux
6) Les figures A et B sont des <u>octogones</u> .	<input type="checkbox"/> Vrai <input type="checkbox"/> Faux

2. Retrouve et colorie selon le code-couleur.

<u>3 triangles</u>	<u>2 quadrilatères</u>
BLEU	JAUNE
<u>2 pentagones</u>	<u>1 hexagone</u>
ROUGE	VERT
	VIOLET



3. Dans ton cahier, trace un hexagone avec 2 côtés parallèles.

<http://laclassebleue.fr/>