

Prénom : _____

Date: _____

Nombres et quantités : de 0 à 999



1 Encadre le nombre entre deux dizaines qui se suivent:

..... 452

..... 488

..... 68

..... 185

..... 645

..... 426

..... 815

..... 312

..... 778

2 Colorie en bleu les unités, en rouge les dizaines et en vert les centaines

912

198

4

19

109

589

719

46

127

159

167

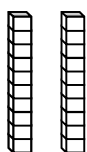

919

3 Ecris les nombres dans l'ordre croissant, du plus petit au plus grand:

505 - 395 - 400 - 64 - 51 - 664 - 550

4 Dessine :

123



354

405

260

Prénom : _____

Date: _____

Nombres et quantités : de 0 à 999

3  15

1 Complète avec $<$, $>$ ou $=$:

202 $100 + 20$

467 $400 + 70$

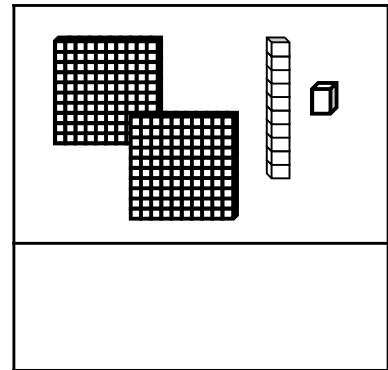
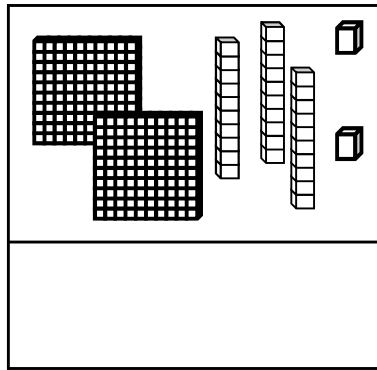
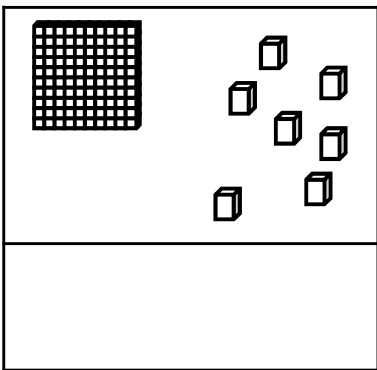
338 $300 + 80 + 8$

630 $600 + 30$

256 $300 + 60 + 5$

375 $100 + 100 + 100$


2 Compte et complète :



3 Ecris les nombres du plus grand au plus petit:

655 - 816 - 565 - 154 - 96 - 810 - 500

4 Complète :



Prénom : _____

Date: _____

Nombres et quantités : de 0 à 999

3  15

1 Complète avec $<$, $>$ ou $=$:

252 trois - cent - deux

477 cinq - cent - dix


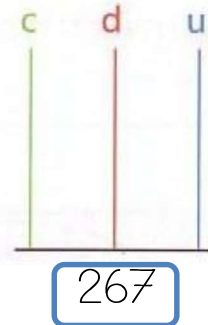
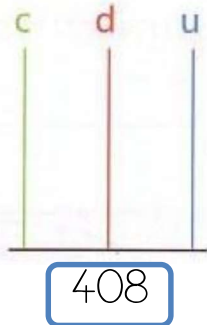
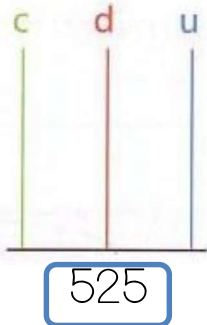
28 cent - huit

803 huit - cent - trois

536 cinq - cent

465 cent - soixante


2 Complète les abaques :



3 Complète le tableau :

827	$800 + 20 + 7$	$8c + 2d + 7u$
565		
959		
282		
709		

4 Complète :



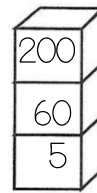
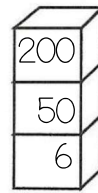
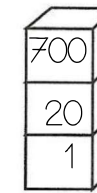
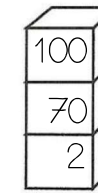
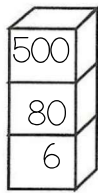
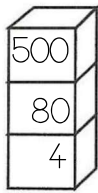
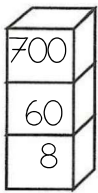
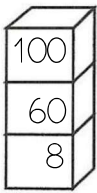
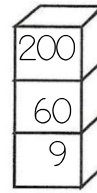
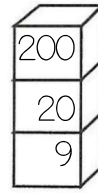
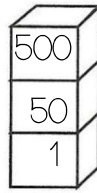
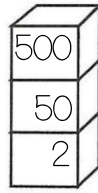
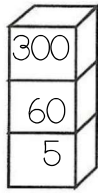
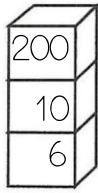
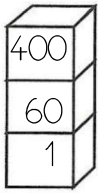
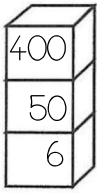
Prénom : _____

Date: _____



Nombres et quantités : de 0 à 999

1 Colorie la pile qui représente le plus petit nombre :



2 Entoure les pièces et billets qu'il faut choisir pour avoir 336€ :



Pour avoir 336€, il faut :

.....	billets de 100 €
.....	billets de 10 €
.....	pièces de 1 €

3 Relie les nombres à leur place sur la droite graduée :

759

772

781

779

787

750

760

770

780

790

4 Complète :

