

Prénom : _____

Date: _____

Nombres et quantités : de 0 à 999

3  15

1 Complète avec $<$, $>$ ou $=$:

320 trois - cent - deux

510 cinq - cent - dix

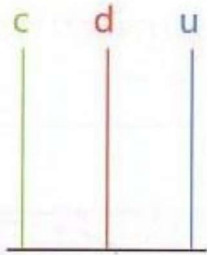
180 cent - huit

830 huit - cent - trois

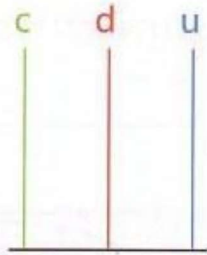
510 cinq - cent

116 cent - soixante

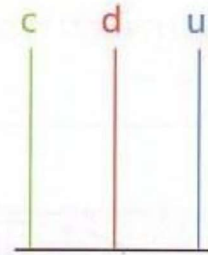
2 Complète les abaques :



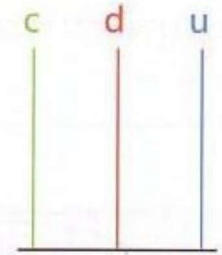
214



480



302




555

3 Complète le tableau :

827	$800 + 20 + 7$	$8c + 2d + 7u$
206		
418		
392		
777		

4 Complète :



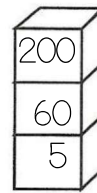
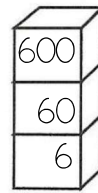
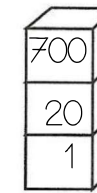
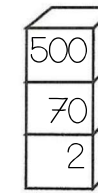
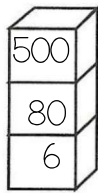
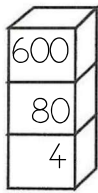
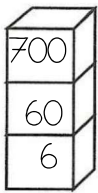
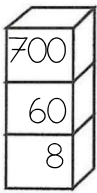
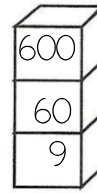
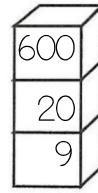
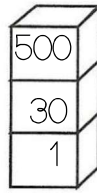
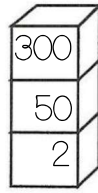
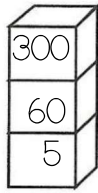
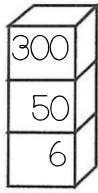
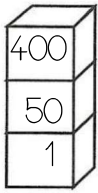
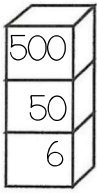
Prénom : _____

Date: _____



Nombres et quantités : de 0 à 999

1 Colorie la pile qui représente le plus petit nombre :



2 Entoure les pièces et billets qu'il faut choisir pour avoir 240€ :



Pour avoir 240€, il faut :

.....	billets de 100 €
.....	billets de 10 €
.....	pièces de 1 €

3 Relie les nombres à leur place sur la droite graduée :

459

472

481

479

487

450


460

470

480

490

4 Complète :



Prénom : _____

Date: _____



Nombres et quantités : de 0 à 999

1 Complète les compteurs :

402	625	586	775	897	222
403	626	587	776	898	223

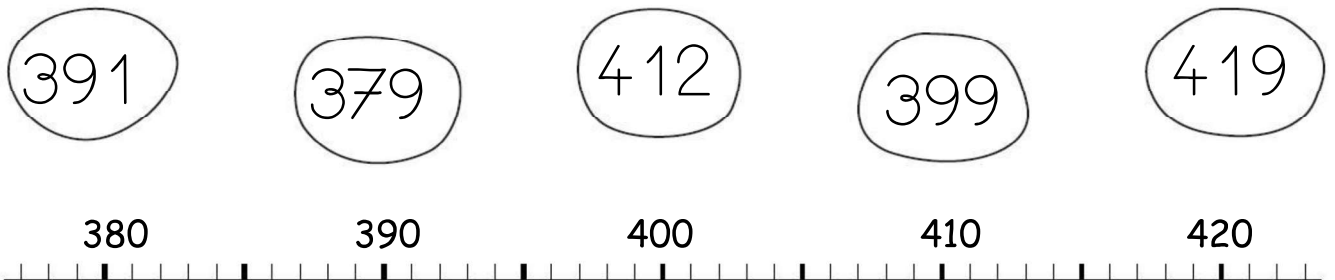
2 Entoure les pièces et billets qu'il faut choisir pour avoir 333€ :




Pour avoir 333€, il faut :

.....	billets de 100 €
.....	billets de 10 €
.....	pièces de 1 €

3 Relie les nombres à leur place sur la droite graduée :



4 Complète :



Prénom : _____

Date: _____



Nombres et quantités : de 0 à 999

1 Ecris en chiffres :

deux - cent - cinquante - six :

trois - cent - dix :

cent - soixante - seize :

cinq - cent - treize :


six - cent - quatre - vingt :

six - cent - trente - neuf :

neuf - cent - quinze :

huit - cent - quatre - vingt - douze :

2 Entoure les pièces et billets qu'il faut choisir pour avoir 309€ :



Pour avoir 309€, il faut :

.....	billets de 100 €
.....	billets de 10 €
.....	pièces de 1 €

3 Ecris les nombres à leur place dans les sacs (attention il y a un piège)

730 - 525 - 890 - 580 - 830 - 915 - 680 - 630 - 775

