

Prénom : _____

Date: _____



Nombres et quantités : de 0 à 999

1 Relie les nombres identiques :

426

cinq - cent - quatre - vingt - huit

228

quatre - cent - vingt - six

588

huit - cent - neuf

809

quatre - cent - cinquante - six

456

deux - cent - vingt - huit

501

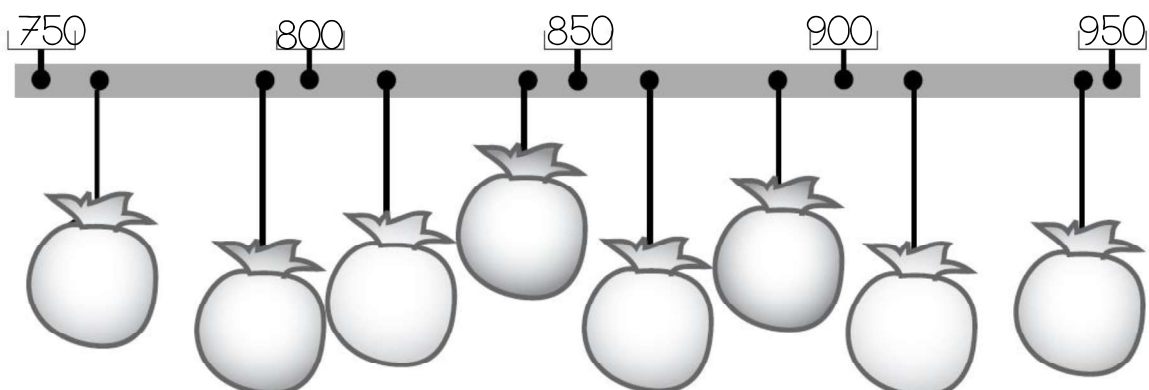
cinq - cent - un

860


huit - cent - soixante

2 Ecris les nombres à leur place dans les sacs:

915 - 860 - 815 - 760 - 990 - 790 - 840 - 880



3 Complète la bande numérique:



Prénom : _____

Date: _____

Nombres et quantités : de 0 à 999



1 Encadre le nombre avec les nombres de ton choix:

..... 540

..... 104

..... 750

..... 256

..... 200

..... 436

..... 706

..... 462

..... 685

2 Ecris les nombres dans l'ordre croissant, du plus petit au plus grand:


514 - 214 - 85 - 612 - 126 - 541 - 650

□ □ □ □ □ □ □

3 Ecris les nombres en lettres:

645	
305	
814	
675	
298	
360	

4 Complète la bande numérique:



Prénom : _____

Date: _____

Nombres et quantités : de 0 à 999



1 Encadre le nombre entre deux dizaines qui se suivent:

..... 452

..... 488

..... 68

..... 185

..... 645

..... 426

..... 815

..... 312

..... 778

2 Colorie en bleu les unités, en rouge les dizaines et en vert les centaines

912

198

4

19

109

589

719

46

127

159

167

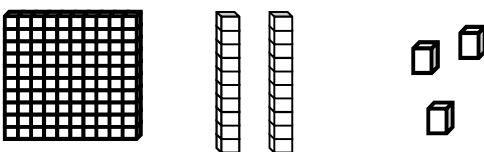
919

3 Ecris les nombres dans l'ordre croissant, du plus petit au plus grand:

214 - 244 - 240 - 211 - 241 - 210 - 204

<input type="text"/>	<input type="text"/>	<input type="text"/>	<input type="text"/>	<input type="text"/>	<input type="text"/>	<input type="text"/>
----------------------	----------------------	----------------------	----------------------	----------------------	----------------------	----------------------

4 Dessine :

<u>123</u> 	<u>504</u>
<u>215</u>	<u>610</u>

Prénom : _____

Date: _____

Nombres et quantités : de 0 à 999

3  15

1 Complète avec <, > ou =:

312

.....

$300 + 20 + 1$

356

.....

$300 + 50 + 6$

650

.....

$600 + 80 + 8$

521

.....

$500 + 20$

520

.....

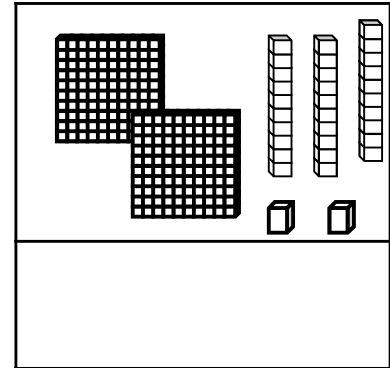
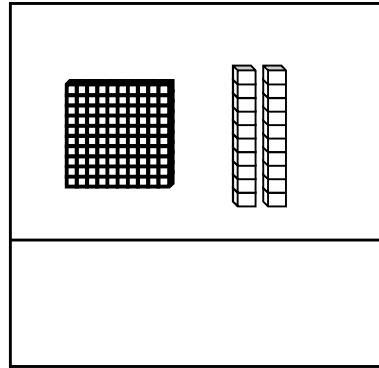
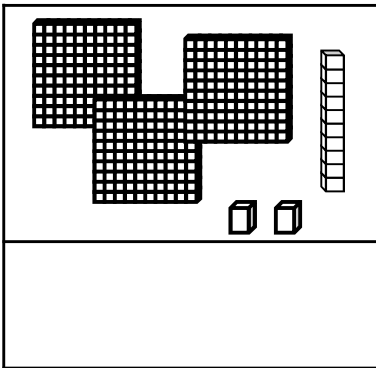
$500 + 2$

420

.....

$200 + 200$

2 Compte et complète :



3 Ecris les nombres du plus grand au plus petit:

605 - 215 - 660 - 102 - 952 - 259 - 99

4 Complète :

