



# HORODATOR ★★

1

2

3

4

5

6

7

8

9

10

11

12

13

14

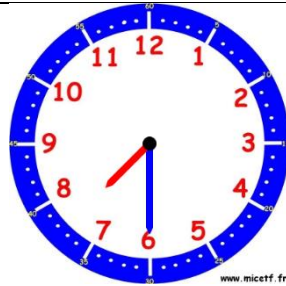
15

## Comment faire ?

L'horloge donne l'heure grâce à deux aiguilles. La grande aiguille indique les minutes, la petite aiguille indique les heures.



Il est **4 heures** car la petite aiguille vise le « 4 » et la grande aiguille indique le « 12 » qui représente « 0 » minute.



Il est **7h30** car la petite aiguille est après le 7 et avant le 8 et la grande aiguille est sur le 6 qui représente 6 fois 5 minutes, c'est-à-dire 30 minutes (une demi-heure)



Il est **8h15** (8 heures et quart) car la grande aiguille indique le « 3 » qui représente 3 fois 5 minutes, c'est-à-dire 15 minutes.



# HORODATOR ★★

1



www.micetf.fr

Il est....h....min



www.micetf.fr

Il est....h....min



www.micetf.fr

Il est....h....min



# HORODATOR ★★

2



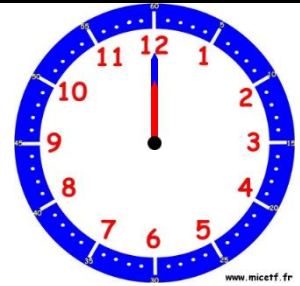
www.micetf.fr

Il est....h....min



www.micetf.fr

Il est....h....min



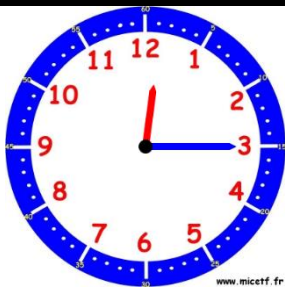
www.micetf.fr

Il est....h....min



# HORODATOR ★★

3



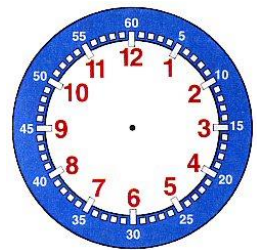
www.micetf.fr

Il est....h



www.micetf.fr

Il est....h

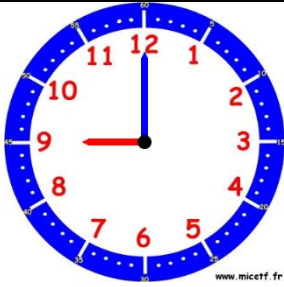


Il est 1 h 15



# HORODATOR ★★★

# 4



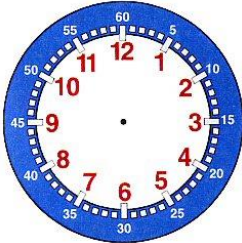
Quelle heure sera-t-il si on ajoute 1 heure ?

Il sera :.....h.....min

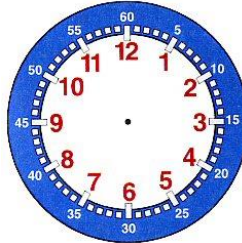


# HORODATOR ★★★

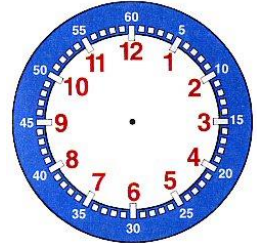
# 5



Il est 8 h 45



Il est 4 h 30



Il est 2 h 15



# HORODATOR ★★★

# 6



Il est.....h....min



Il est.....h....min



Il est.....h....min



# HORODATOR ★★★

# 7



www.micetf.fr

Il est....h....min



www.micetf.fr

Il est....h....min



www.micetf.fr

Il est....h....min



# HORODATOR ★★★

# 8



www.micetf.fr

*Quelle heure sera-t-il si on ajoute 1/2 heure ?*

Il sera :....h.....min



# HORODATOR ★★★

# 9



www.micetf.fr

Il est....h....min



www.micetf.fr

Il est....h....min



www.micetf.fr

Il est....h....min



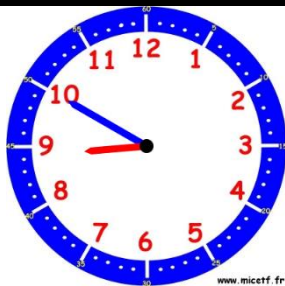
# HORODATOR ★★

10



www.micetf.fr

Il est.....h....min



www.micetf.fr

Il est.....h....min



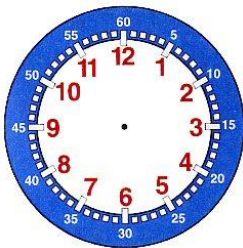
www.micetf.fr

Il est.....h....min

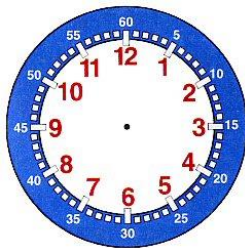


# HORODATOR ★★

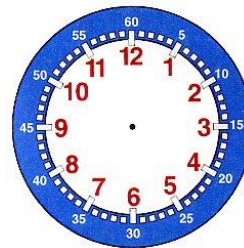
11



4 h 40



3 h 20

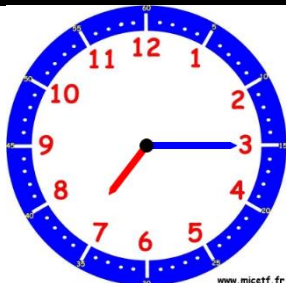


5 h 50



# HORODATOR ★★

12



www.micetf.fr

Quelle heure sera-t-il si on ajoute 1h 15 ?

Il sera :.....h.....min



# HORODATOR ★★★

13



....h....min

Ou

.....



....h....min

Ou

.....



....h....min

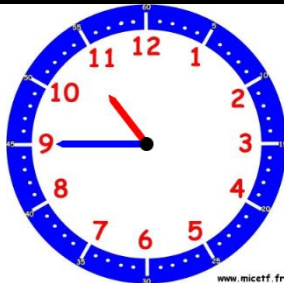
Ou

.....



# HORODATOR ★★★

14



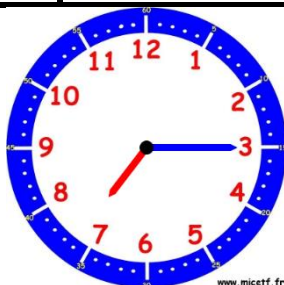
*Quelle heure sera-t-il si on ajoute 1h15 ?*

Il sera :.....h.....min



# HORODATOR ★★★

15



*Quelle heure sera-t-il si on ajoute 1h45 ?*

Il sera :.....h.....min