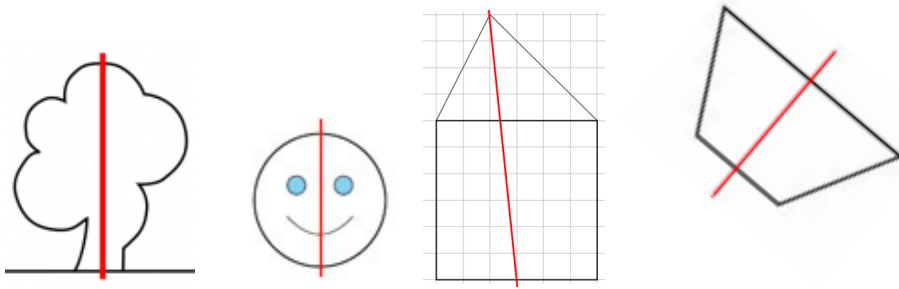



Exercice :

Entoure les figures pour lesquelles l'axe est un axe de symétrie :



Exercice :

Décalque ces figures et plie-les pour trouver leurs axes de symétrie puis trace-le sur les figures :

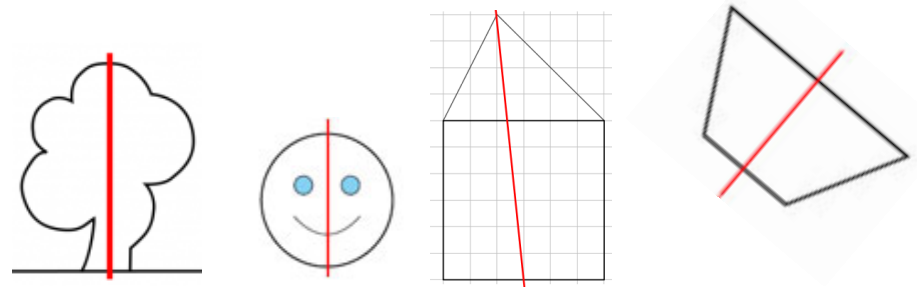


Exercice :

Trace un rectangle de 12 cm de longueur et de 4 cm de largeur dans ton cahier et cherche ses axes de symétrie.


Exercice :

Entoure les figures pour lesquelles l'axe est un axe de symétrie :



Exercice :

Décalque ces figures et plie-les pour trouver leurs axes de symétrie puis trace-le sur les figures :



Exercice :

Trace un rectangle de 12 cm de longueur et de 4 cm de largeur dans ton cahier et cherche ses axes de symétrie.