

le blog : <http://blogs.ac-amiens.fr/marlygomontcm1cm2/>

Adresse mail : sophie.aubert@ac-amiens.fr

Jeudi 11 juin 2020

- Orthographe

La correction de la fiche se trouve sur le blog.

C'est l'heure de faire une pause !

- Mathématiques

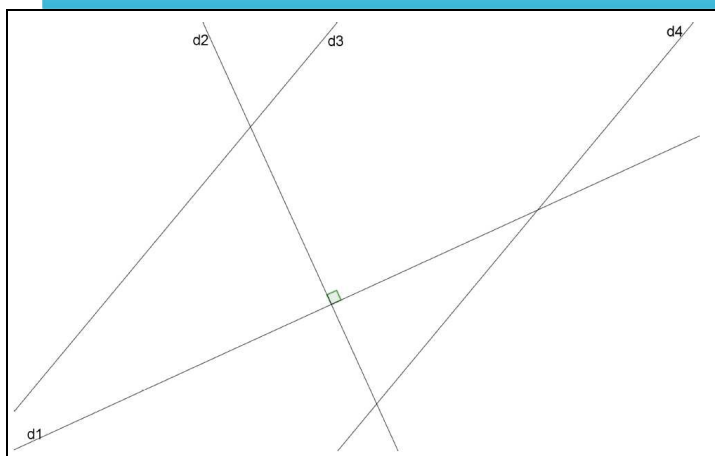
CM1 - CM2

Trouvons deux couples de droites parallèles et deux couples de droites perpendiculaires.

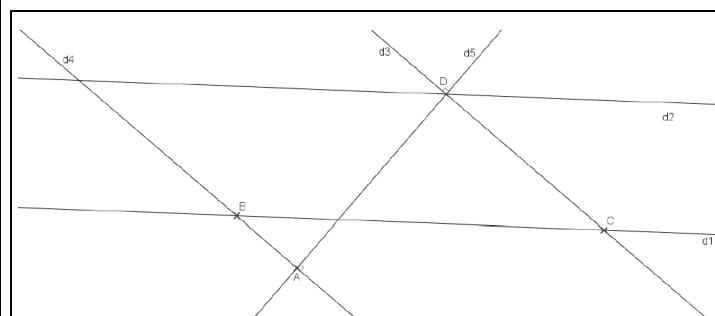
CM1 : $(d3) // (d4)$ et $(d1) \perp (d2)$

CM2 : $(d3) // (d4)$; $(d1) // (d2)$; $(d4) \perp (d5)$; $(d3) \perp (d5)$

CM1



CM2



CM1

CM2

Calculons en ligne :

a) $45,7 \times 10 = 457$

b) $0,8 \times 10 = 8$

c) $5,6 \times 100 = 560$

d) $98,23 \times 1000 = 98\,230$

e) $45 \times 10 = 450$

a) $9\,600 : 100 = 96$

b) $56\,000 : 1\,000 = 56$

c) $21\,500 : 100 = 215$

d) $145\,000 : 1\,000 = 145$

e) $8\,450 : 100 = 84,5$

Donnons une valeur approchée à la dizaine près des opérations suivantes :

$$9 \times 39 \rightarrow 10 \times 40 = 400$$

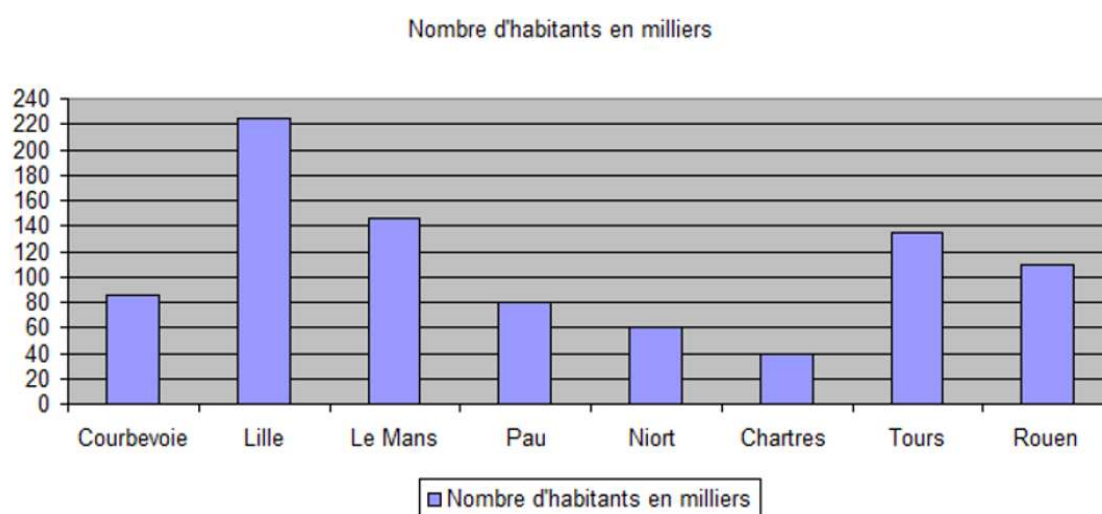
$$21 \times 150 \rightarrow 20 \times 150 = 3\ 000$$

$$49 \times 49 \times 2 \rightarrow 50 \times 50 \times 2 = 5\ 000$$

$$197 \times 3\ 103 \rightarrow 200 \times 3\ 100 = 620\ 000$$

CM2

Graphique 2 : nombre d'habitants de quelques villes françaises :



A partir de ce graphique, répondons aux questions suivantes :

1) Le nombre d'habitants est en milliers. Cela signifie qu'il y a combien d'habitants à Pau ?

Il y a 80 000 habitants à Pau.

2) Quelle est la ville où il y a le plus d'habitants ? **C'est Lille.**

3) Quelle est la ville où il y a le moins d'habitants ? **C'est Chartres.**

4) Combien y a-t-il d'habitants à Niort ? **Il y a 60 000 habitants.**

CM1 - CM2

Regarde la correction de la fiche sur la symétrie sur le blog !

Groupe

1) Regarde la correction de la fiche sur les heures sur le blog.

2) Ecris la centaine suivante des nombres ci-dessous :

exemple : 7 536 -> 7 600

5 480 -> 5 500

2 972 -> 3 000

9 875 -> 9 900

1 947 -> 2 000

3) Calcul mental :

6 842 + 101 = 6 943

6 842 - 101 = 6 741

5 971 + 101 = 6 072

5 971 - 101 = 5 870

8 123 + 101 = 8 224

8 123 - 101 = 8 022

4) Résous les énigmes suivantes :

	La boite à énigmes ★★	9		La boite à énigmes ★★	10
					
A-Quels sont les deux numéros manquant à ces boîtes aux lettres ? B- Quels sont les numéros des 10 boîtes aux lettres suivantes ?			A-Combien y a-t-il d'œufs au total sur ces deux plateaux identiques ? B- Si je partage ces œufs entre 5 personnes, combien chaque personne recevra-t-elle d'œufs ?		

A - 594 et 604

B - 624 - 634 - 644 - 654 - 664

674 - 684 - 694 - 704 - 714

A - 40 œufs

B - 8 œufs

C'est l'heure de faire une pause !

- Etude de la langue :

1) Recopie le groupe verbal de chaque phrase puis entoure le complément du verbe. Attention, ne pas le confondre avec un complément de phrase (= complément circonstanciel).

a) admirent le lavoir.

b) écrivez un message.

c) vend des ordinateurs.

d) ai oublié mes clés.

e) plante des salades.

f) trace un trait.

g) dévale les escaliers.

h) préparez le déjeuner.

2) Complète chaque phrase en ajoutant un complément du verbe.

a) Emma oublie **son cahier**.

b) Je déguste **un gâteau**.

c) Tu ranges **ta chambre**.

d) Les chats guettent **les souris**.

3) Complète chaque phrase en ajoutant un complément du verbe commençant par à ou au.

a) Vous répondrez **au téléphone** plus tard.

b) Les clowns songent **au spectacle**.

c) Ces lions obéissent **au dompteur**.

d) Mon frère rêve **de chevaux**.

e) Tu écris **à ta mère**.