



A À droite, à gauche

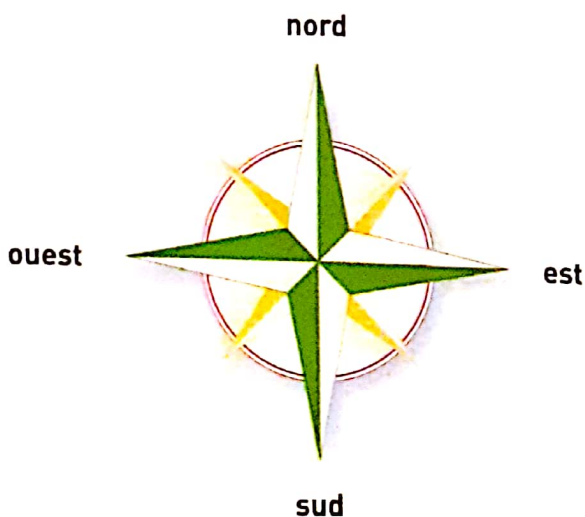


- 1 À quel moment de la journée ces photographies ont-elles été prises ?
- 2 Sur chacune de ces photographies, situe la tour Eiffel.

- 3 Sur la première photo, se trouve-t-elle à droite ou à gauche ? et sur la seconde ?
- 4 Dans la réalité, la tour Eiffel se trouve-t-elle à droite ou à gauche ?

La gauche et la droite ne donnent pas la position d'un objet ou d'un lieu : elles le situent par rapport à autre chose.

B Les points cardinaux



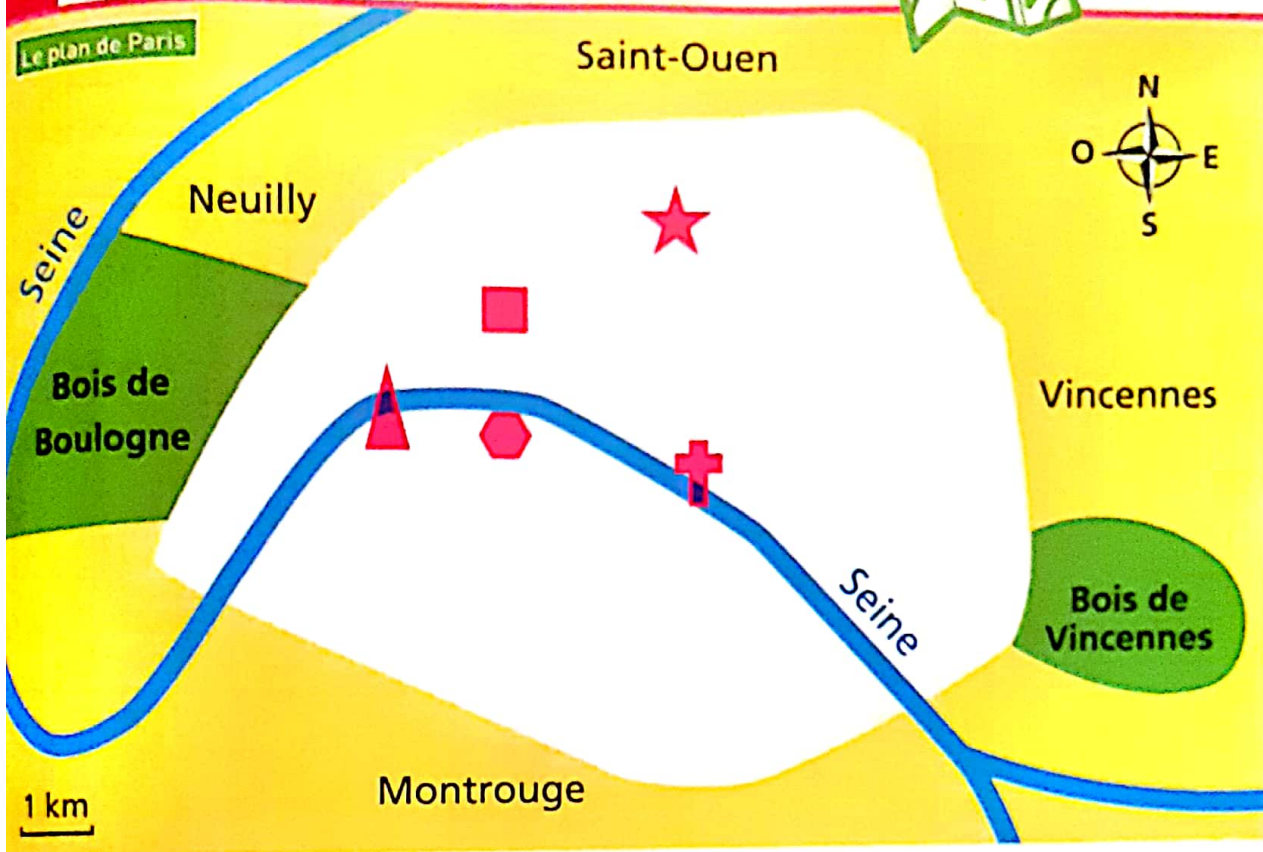
La rose des vents

Pour connaître la position d'un lieu, on utilise les points cardinaux : nord, sud, est et ouest.

- 5 Sur cette rose des vents, situe les points cardinaux.
- 6 Avec le nord en haut, où se trouve le sud ?
- 7 Où se trouve l'est ? et l'ouest ?
- 8 Imagine que tu regardes vers le sud, où se trouve le nord ?

C

Le plan et les points cardinaux

**Le plan de Paris**

Tour Eiffel



Montmartre



Notre-Dame



Palais de l'Élysée



Palais Bourbon

9 Sur ce plan, situe la rose des vents.**10** Nomme une ville qui se trouve au nord; une ville qui se trouve au sud.**11** Montmartre se trouve-t-il au nord ou au sud de Paris ?**12** Le palais Bourbon se trouve-t-il au nord ou au sud de l'Élysée ?**13** Le bois de Boulogne se trouve-t-il à l'est ou à l'ouest de Paris ?**14** Nomme une ville à l'est de Paris; à l'ouest de Paris.**15** Le palais Bourbon se trouve-t-il à l'ouest ou à l'est de la tour Eiffel ?**16** Où se trouve-t-il par rapport à Notre-Dame ?

Les points cardinaux permettent de situer un lieu quel que soit le sens dans lequel on le regarde. Par exemple, Montmartre se trouve au nord de Paris.

Ma boîte à mots

les points cardinaux : le nord, le sud, l'est et l'ouest.

Maintenant, je sais...

- ✓ Les points cardinaux sont : le nord, le sud, l'est et l'ouest.
- ✓ Quand je me tiens face au nord, l'est est à ma droite, l'ouest à ma gauche.