

Mardi 2 juin

Tuesday 2nd June, 2020

ENGLISH

Nous ne sommes pas lundi mais nous allons quand même commencer notre journée par un travail envoyé par Sabrina. Nous avons déjà vu ensemble le **verbe être** en anglais qui se dit à l'infinitif :

To be.....(révision)

Regarde le **PowerPoint** joint (plusieurs fois et tu pourras faire le jeu suivant).

<https://www.eslgamesplus.com/verb-to-be-auxiliary-verb-am-is-are-esl-grammar-activity/>

Dictée n°28

Les Lumières

Au dix-huitième siècle, certains auteurs se sentent plus libres d'exprimer leurs idées. Ils pensent qu'ils doivent observer l'humanité sans se soucier de la religion. Ils critiquent les religions et les gouvernements de leur époque. En France, on les appelle les « philosophes ». Ils sont menés par Voltaire. Leur grand ouvrage est l'Encyclopédie. Leurs idées vont être en partie à l'origine de la Révolution française de mille-sept-cent-quatre-vingt-neuf.

Cette dictée est en grande partie au présent, mais attention demande-toi à chaque fois quel est le sujet du verbe, de qui parle-t-on ? Fais attention aux homophones grammaticaux (on/ont, son/sont, et/est, a/à, leur/leurs, se/ce) et à l'infinitif après préposition, revu la semaine dernière...

Concentre-toi et relis 3 fois ta dictée avant de la faire corriger...Bon courage !

Orthographe grammaticale et conjugaison

Complète avec a ou à.

Il a mal. C'est à lui de jouer. Lucie a perdu le match. Tu iras à l'école

Complète avec et / est.

Il aime le coca et la limonade. On est descendu à pied. C'est la finale ! Elle est rentrée et elle a mangé.

Complète avec on / ont.

On aime le chocolat. Ils ont marché sur la lune. C'est ici que l'on s'est quitté.
Les enfants ont bien participé.

Conjuge à l'imparfait les verbes entre parenthèses.

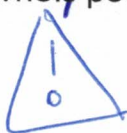
Elles s'(entraîner) entraînait tous les jours. Nous (ranger) rangions les affaires. Ils (marcher) marchaient rapidement dans la forêt. Vous (finir) finissiez toujours avant les autres. Elle (accomplir) accomplissait des miracles.

Conjuge au passé composé les verbes entre parenthèses.

Elle (sortir) est sortie dans la cour. Nous (aller) sommes allés à la piscine. Luc et toi (venir) êtes venus nous voir. Tu (partir) es parti tôt. Mes cousines (descendre) sont descendues dans la cave. Elle (tomber) est tombée dans la cour.

Complète avec -é ou -er

L'arbitre a sifflé. Pour gagner, il faut s'entraîner. J'ai beaucoup aimé la chanson. Tu as joué trop longtemps. Demain, je pars pour récupérer ma voiture. C'est elle qui a participé au tournoi pour remporter la coupe.



Mesures de longueur

(utilise ton tableau de conversion fourni la semaine dernière)

Ecris les distances suivantes en m.

7 km = 7000 m	12 km 15 dam = 12150 m
15 dam = 150 m	2 hm 2 dam = 220 m
7 hm = 700 m	7 km 200 m = 7200 m
720 cm = 7 m 20 cm	1 hm 200 cm = 102 m
12 dm = 1 m 2 dm	1 dam 2 m = 12 m

Ecris les distances suivantes en cm.

42 dm = 4200 cm

2 m 25 cm = 225 cm

25 m = 2500 cm

2 dam 12 m = 3200 cm

750 mm = 75 cm

7 m 2 dm = 720 cm

120 dm = 1200 cm

102 m = 10200 cm

35 mm = 3 cm 5 mm

1 dam 2m = 1200 cm

Complète les égalités.

7 dam 3 m 2 dm = 7320 cm

3 m 20 cm = 3200 mm

75 hm 3 dam = 7530 m

3 km 20 dam = 3200 m

35 m 3cm = 3503 cm

Décompose dans l'exemple.

7101 m = 7km 1 hm 1 m

2 860 cm = 2 dam 8 m 6 dm

2 452 dm = 2 hm 4 dam 5 m 2 dm

492 dam = 4 km 9 hm 2 dam

7 820 mm = 7 m 8 dm 2 cm

1 001 m = 1 km 1 m

2 091 cm = 2 dam 9 dm 1 cm

4 792 mm = 4 m 7 dm 9 cm 2 mm

1 000 dm = 1 hm

Géométrie

Quelle figure est décrite par ce programme. Colorie-la.

- Trace un rectangle.
- Place les milieux des deux largeurs et le milieu d'une longueur de ce rectangle.
- Relie ces 3 points entre eux.

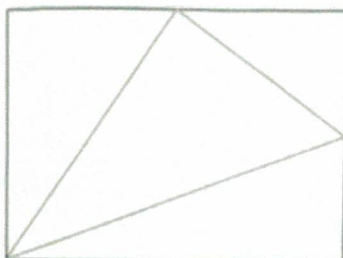


Figure A

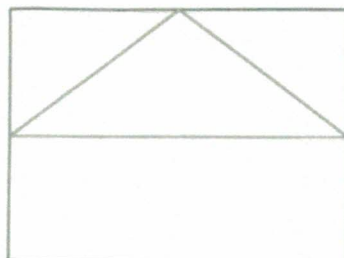


Figure B




Figure C