

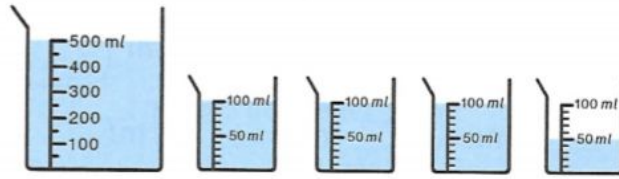
- 1 Une cuillère à café contient 5 ml d'eau.
Il y a 20 gouttes d'eau dans 1 ml.



Combien de gouttes d'eau y a-t-il dans une cuillère à café ?

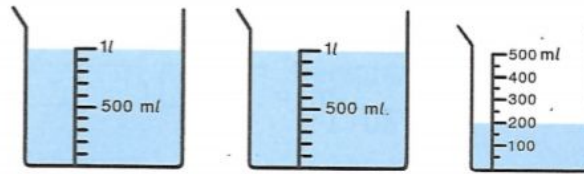
- 2 Trouve le volume d'eau en ml dans chaque série de béchers.

a)



$500 \text{ ml} + 300 \text{ ml} + 50 \text{ ml} = \text{ } \text{ ml}$

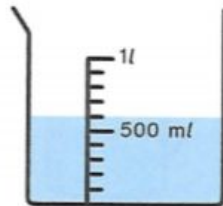
b)



l ml

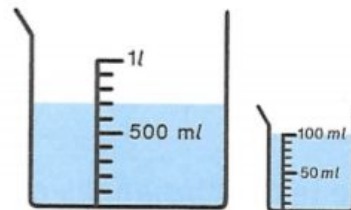
- 3 Quel volume d'eau en ml faut-il ajouter pour obtenir 1 l ?

a)



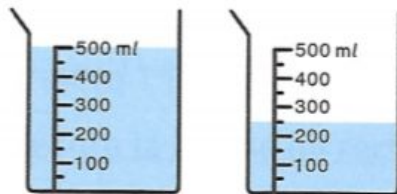
Il faut ajouter ml.

b)



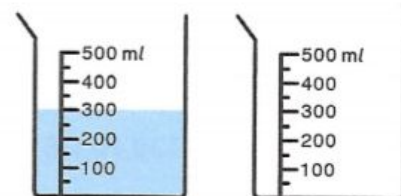
Il faut ajouter ml.

c)



Il faut ajouter ml.

d)



Il faut ajouter ml.