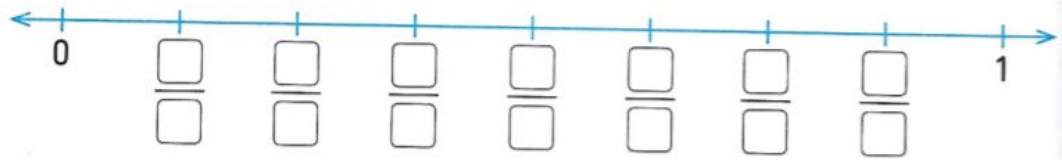


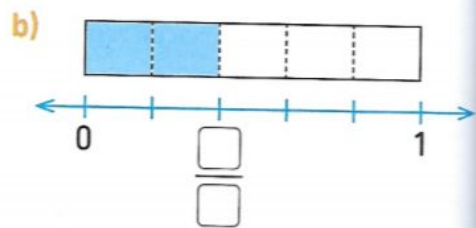
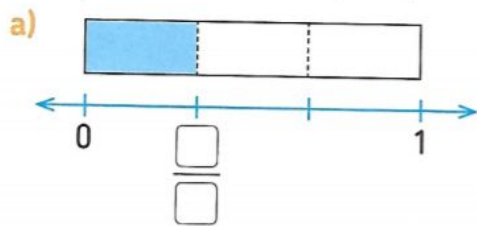
**Numération CM1: Placer des fractions sur une demi-droite graduée.**

- 1 a) Le segment de 0 à 1 représente 1 unité.  
Ce segment est divisé en 8 segments égaux.  
Chacun représente  $\frac{1}{8}$  de l'unité.  
Compte de huitième en huitième et place les fractions de  $\frac{1}{8}$  à  $\frac{7}{8}$ .



- b) Écris le nombre 1 en huitièmes :  $1 = \frac{\square}{\square}$ .

- 2 Quelle fraction de chaque figure est coloriée ?



- 3 Écris la fraction correspondant à la partie rouge de chaque train de cubes

