

Distinguer le sens propre et le sens figuré

1 * Indique si chaque expression en gras est au sens propre ou au sens figuré.

a. Il a eu si peur qu'il a pris ses jambes à son cou.

b. Il s'est cassé la jambe en tombant à vélo.

c. J'ai heurté le vase en passant, il s'est cassé.

d. Personne n'a voulu l'écouter : il s'est heurté à un mur.

e. Cette personne a la langue bien pendue.

f. Arrête de tirer la langue.

2 * Indique si les mots en gras sont utilisés au sens propre ou au sens figuré.

a. Ses explications ont fait toute la lumière sur l'énigme.

b. Les monuments de la ville sont éclairés la nuit.

c. Son visage rayonnait de bonheur.

d. Son passage à la maison fut un bref éclair.

3 * Recopie les phrases qui utilisent le mot en gras au sens figuré.

a. Il marche sur la pointe des pieds.

b. La pointe de l'épée est dangereuse.

c. Ne piétine pas mes plantations ! dit le jardinier.

d. Malgré tous nos efforts, le projet piétine.

*Production d'écrit. Mon carnet de bord.


Depuis plusieurs semaines, je vous demande d'écrire tous les jours une, deux, trois phrases ou plus pour me raconter comment s'est passée votre journée de la veille. Cela fera un carnet de bord de cette période si particulière et exceptionnelle.

Pour illustrer ce petit carnet, j'aimerais qu'un petit dessin accompagne ce petit texte. Je vous laisse libre pour mettre en page ce carnet. (Collage de végétaux, papiers déchirés, papiers colorés, paillettes, autocollants, photos, dessins...) Soyez créatifs !

*Lecture. Les gaulois, un peuple divisé.

-Lis le document.

Les Gaulois



Source : images et récits d'his toire - MDA

Nous voici, il y a plus de 2 000 ans, à l'époque où la France s'appelle encore la **Gaule**. La Gaule est plus grande que la France d'aujourd'hui mais beaucoup moins peuplée. Il n'y a pas de routes mais seulement de mauvais chemins et des sentiers.

Le pays est couvert d'immenses forêts et les Gaulois ont installé leurs villages dans les clairières, au bord des rivières ou des lacs. Ils ont construit quelques villes fortifiées comme **Lutèce**. On appelle ces villes des **oppidums**.

Les Gaulois sont divisés en 60 **tribus** qui se font souvent la guerre.

Pour se nourrir, ils **chassent** les nombreux animaux sauvages : cerfs, chevreuils, renards, loups, ours. Ils **pêchent**, ils **cultivent** la terre et labourent avec une charrue à soc de fer^①. Ils **élèvent** des chevaux, des bœufs, des porcs, des moutons et des poules.

Ils savent très bien fabriquer des objets, des outils et des armes de **bronze** et de **fer**^②, des vases d'argile, des bijoux en or. Ils tissent une toile solide et ils aiment les belles couleurs vives. Ils portent un pantalon – les **braies** –, une tunique et un manteau flottant – la **saie**. Ils utilisent la monnaie^③.

Les prêtres des Gaulois s'appellent les **druides**^④. Chaque année, la grande fête est la cueillette du gui sur les chênes de la forêt.

Les Gaulois sont très braves. Ils aiment les grands voyages et la guerre. Une année, ils se sont emparés de Rome, la plus grande ville des Romains.

-Réponds aux questions.

1 Dans quel type d'habitation vivent les Gaulois ? Colorie la bonne réponse.

dans des tentes

dans des cabanes

dans des huttes

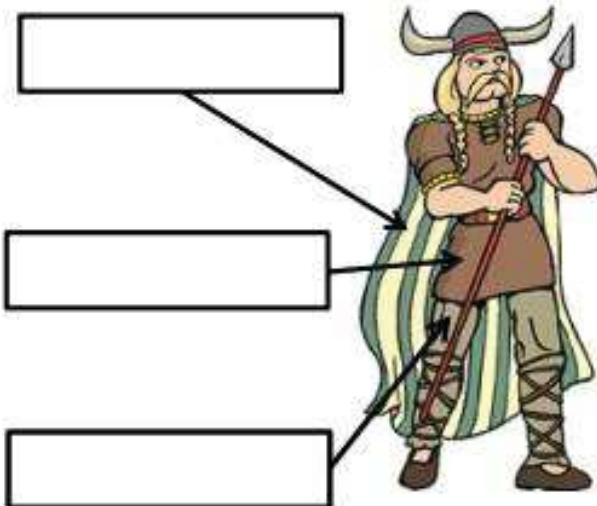
2 Fait-on du feu dans ces habitations ? Justifie ta réponse.

3 Les Gaulois pratiquent-ils l'agriculture ? Si oui, recopie la phrase qui le prouve.

4 Que fabriquent les Gaulois ?
Cite au moins trois exemples.

5 Quel animal domestique accompagnait les chasseurs ?

6 Légende ce dessin avec les noms des vêtements gaulois.



7 Ces images correspondent aux mots numérotés dans le texte. Remplace les numéros.



*Revoir les tables de multiplication de 3, 5, 7 et 9.

Apprenez bien vos tables car nous travaillerons sur la division la semaine prochaine. Si vous ne connaissez pas vos tables, ce sera plus difficile.

***Calculez** rapidement : 5×70 , 4×60 et 5×30

Pour rappel : https://cdn.reseau-canope.fr/medias/lesfondamentaux/0116_hd.mp4

***Mastertables**

Fais la fiche. Les réponses doivent être écrites en 2 minutes chrono !

***Opérations.**

-Pose et calcule.

$\begin{array}{r} 996 \\ + 780 \\ \hline \dots \end{array}$	$\begin{array}{r} 999 \\ + 473 \\ \hline \dots \end{array}$
---	---

$\begin{array}{r} \dots \\ + 522 \\ \hline 1072 \end{array}$	$\begin{array}{r} \dots \\ + 322 \\ \hline 984 \end{array}$
--	---

$\begin{array}{r} 812 \\ - 658 \\ \hline \dots \end{array}$	$\begin{array}{r} 395 \\ - 309 \\ \hline \dots \end{array}$
---	---

$\begin{array}{r} 129 \\ \times 97 \\ \hline \dots \\ + \dots \\ \hline \dots \end{array}$	$\begin{array}{r} 248 \\ \times 32 \\ \hline \dots \\ + \dots \\ \hline \dots \end{array}$
--	--

Bon courage et bon week-end.

Distinguer le sens propre et le sens figuré

1 * Indique si chaque expression en gras est au sens propre ou au sens figuré.

a. Il a eu si peur qu'il a pris ses jambes à son cou.

b. Il s'est cassé la jambe en tombant à vélo.

c. J'ai heurté le vase en passant, il s'est cassé.

d. Personne n'a voulu l'écouter : il s'est heurté à un mur.

e. Cette personne a la langue bien pendue.

f. Arrête de tirer la langue.

2 * Indique si les mots en gras sont utilisés au sens propre ou au sens figuré.

a. Ses explications ont fait toute la lumière sur l'énigme.

b. Les monuments de la ville sont éclairés la nuit.

c. Son visage rayonnait de bonheur.

d. Son passage à la maison fut un bref éclair.

3 * Recopie les phrases qui utilisent le mot en gras au sens figuré.

a. Il marche sur la pointe des pieds.

b. La pointe de l'épée est dangereuse.

c. Ne piétine pas mes plantations ! dit le jardinier.

d. Malgré tous nos efforts, le projet piétine.

*Production d'écrit. Mon carnet de bord.


Depuis plusieurs semaines, je vous demande d'écrire tous les jours une, deux, trois phrases ou plus pour me raconter comment s'est passée votre journée de la veille. Cela fera un carnet de bord de cette période si particulière et exceptionnelle.

Pour illustrer ce petit carnet, j'aimerais qu'un petit dessin accompagne ce petit texte. Je vous laisse libre pour mettre en page ce carnet. (Collage de végétaux, papiers déchirés, papiers colorés, paillettes, autocollants, photos, dessins...) Soyez créatifs !

*Lecture. Les gaulois, un peuple divisé.

-Lis le document.

Les Gaulois



Source : images et récits d'his toire - MDA

Nous voici, il y a plus de 2 000 ans, à l'époque où la France s'appelle encore la **Gaule**. La Gaule est plus grande que la France d'aujourd'hui mais beaucoup moins peuplée. Il n'y a pas de routes mais seulement de mauvais chemins et des sentiers.

Le pays est couvert d'immenses forêts et les Gaulois ont installé leurs villages dans les clairières, au bord des rivières ou des lacs. Ils ont construit quelques villes fortifiées comme **Lutèce**. On appelle ces villes des **oppidums**.

Les Gaulois sont divisés en 60 **tribus** qui se font souvent la guerre.

Pour se nourrir, ils **chassent** les nombreux animaux sauvages : cerfs, chevreuils, renards, loups, ours. Ils **pêchent**, ils **cultivent** la terre et labourent avec une charrue à soc de fer^①. Ils **élèvent** des chevaux, des bœufs, des porcs, des moutons et des poules.

Ils savent très bien fabriquer des objets, des outils et des armes de **bronze** et de **fer**^②, des vases d'argile, des bijoux en or. Ils tissent une toile solide et ils aiment les belles couleurs vives. Ils portent un pantalon – les **braies** –, une tunique et un manteau flottant – la **saie**. Ils utilisent la monnaie^③.

Les prêtres des Gaulois s'appellent les **druides**^④. Chaque année, la grande fête est la cueillette du gui sur les chênes de la forêt.

Les Gaulois sont très braves. Ils aiment les grands voyages et la guerre. Une année, ils se sont emparés de Rome, la plus grande ville des Romains.

-Réponds aux questions.

1 Dans quel type d'habitation vivent les Gaulois ? Colorie la bonne réponse.

dans des tentes

dans des cabanes

dans des huttes

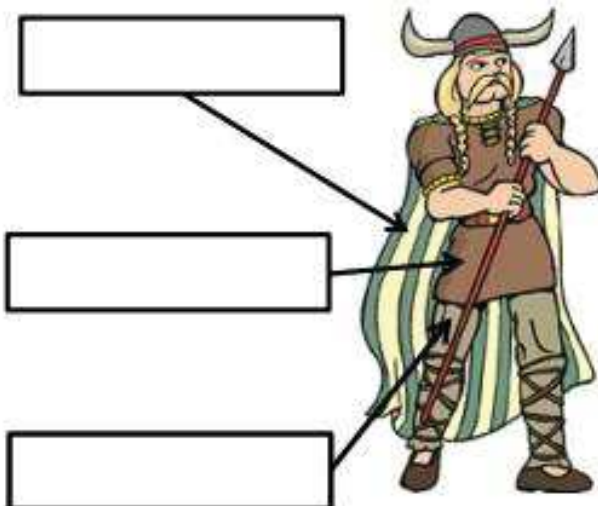
2 Fait-on du feu dans ces habitations ? Justifie ta réponse.

3 Les Gaulois pratiquent-ils l'agriculture ? Si oui, recopie la phrase qui le prouve.

4 Que fabriquent les Gaulois ?
Cite au moins trois exemples.

5 Quel animal domestique accompagnait les chasseurs ?

6 Légende ce dessin avec les noms des vêtements gaulois.



7 Ces images correspondent aux mots numérotés dans le texte. Remplace les numéros.



*Revoir les tables de multiplication de 3, 5, 7 et 9.

Apprenez bien vos tables car nous travaillerons sur la division la semaine prochaine. Si vous ne connaissez pas vos tables, ce sera plus difficile.

*Calculez rapidement : 5×70 , 4×60 et 5×30

Pour rappel : https://cdn.reseau-canope.fr/medias/lesfondamentaux/0116_hd.mp4

***Mastertables**

Fais la fiche. Les réponses doivent être écrites en 2 minutes chrono !

***Opérations.**

-Pose et calcule.

$\begin{array}{r} 996 \\ + 780 \\ \hline \dots \end{array}$	$\begin{array}{r} 999 \\ + 473 \\ \hline \dots \end{array}$
---	---

$\begin{array}{r} \dots \\ + 522 \\ \hline 1072 \end{array}$	$\begin{array}{r} \dots \\ + 322 \\ \hline 984 \end{array}$
--	---

$\begin{array}{r} 812 \\ - 658 \\ \hline \dots \end{array}$	$\begin{array}{r} 395 \\ - 309 \\ \hline \dots \end{array}$
---	---

$\begin{array}{r} 129 \\ \times 97 \\ \hline \dots \\ + \dots \\ \hline \dots \end{array}$	$\begin{array}{r} 248 \\ \times 32 \\ \hline \dots \\ + \dots \\ \hline \dots \end{array}$
--	--

Bon courage et bon week-end.