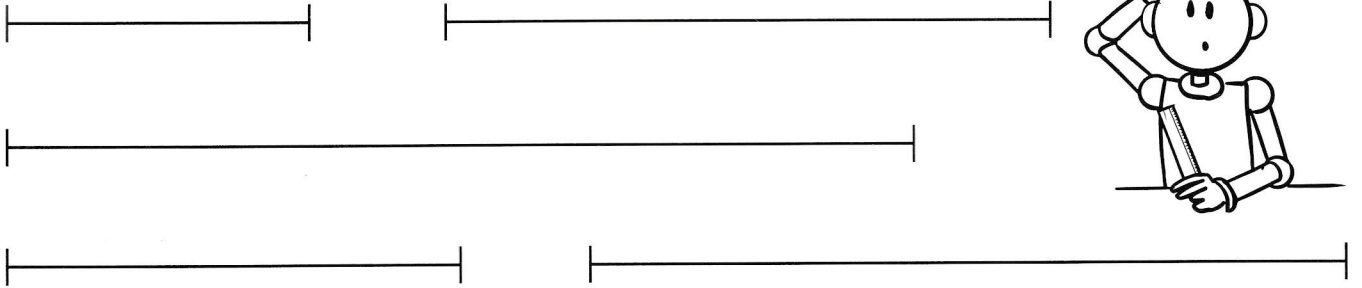
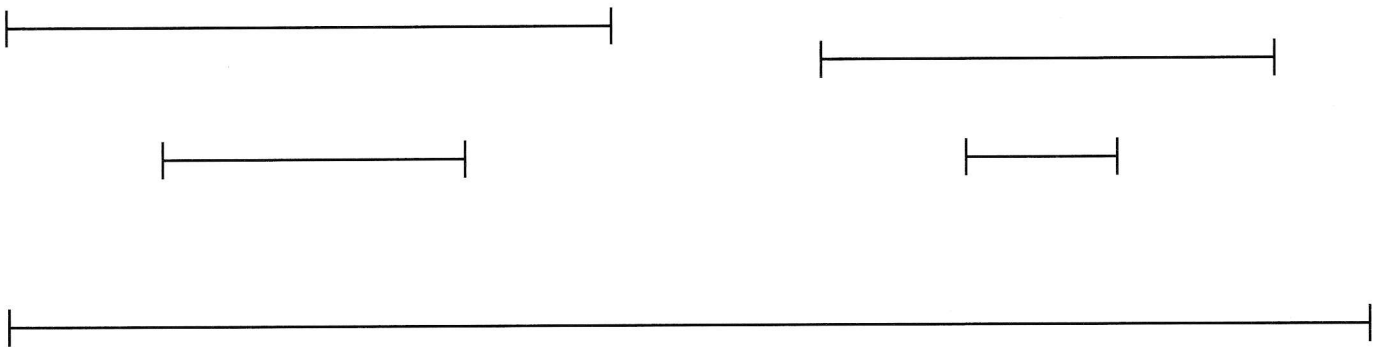


1 Mesure chaque segment puis marque son milieu à l'aide de ta règle graduée.


Souviens-toi : pour trouver le milieu d'un segment, je mesure le segment et je calcule la moitié de cette longueur.



2 Trouve et marque le milieu de chaque segment en utilisant la méthode de ton choix.



3 Le défi de Tirobot !



- Trace un segment  $[AB]$  de 10 cm.
- Marque le point  $I$ , milieu de  $[AB]$ .