







CM1 : LA MULTIPLICATION POSÉE.

ENTRAINEMENT ET PROBLÈMES.

1) Pose et calcule les multiplications suivantes :

a) 2832 x 32	d) 8632 x 96
b) 3235 x 44	e) 9307 x 85
c) 6346 x 47	f) 1369 x 94




a)	b)	c)
		
d)	e)	f)
		

2) Pose et calcule ces multiplications. Dis si elles sont vraies ou fausses : écris VRAI ou FAUX.

a) $375 \times 25 = 9376$ _____


b) $2015 \times 15 = 30\ 225$ _____

c) $4212 \times 11 = 46\ 322$ _____


a)	b)	c)
		

3) Résous ses problèmes.

- Chaque semaine, Rémi achète 12 images. Combien d'images a-t-il au bout de 7 semaines ?


<p>Je pose le calcul et je le résous :</p> 	<p>J'écris la phrase réponse :</p> <hr/> <hr/> <hr/>
--	--

- Le père de Sofia a acheté six paires de chaussettes à 3€ chacune, deux pantalons à 36€ chaque et un blouson à 59€. Combien a-t-il dépensé au total ?

<p>Je pose le calcul et je le résous :</p> 	<p>J'écris la phrase réponse :</p> <hr/> <hr/> <hr/>
--	--

- Une chanteuse à succès vend 2545 CD par jour. Combien de CD sont vendus en 30 jours ?


Je pose le calcul et je le résous :



J'écris la phrase réponse :

- Une école de 13 classes utilise 2145 élastiques par classe au cours d'une année. Combien d'élastiques ont été utilisés au total par l'école en une année ?

Je pose le calcul et je le résous :



J'écris la phrase réponse :
