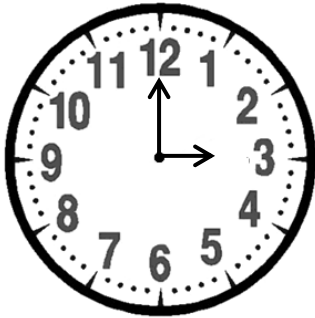


Prénom : .....

Date : .....

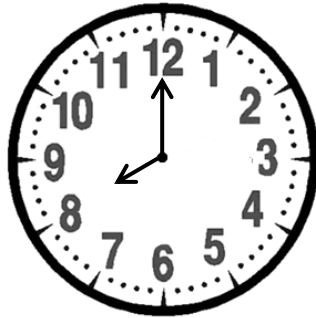
# LIRE L'HEURE (la valeur « pile », le matin et l'après-midi)

## 1- Complète comme dans l'exemple.



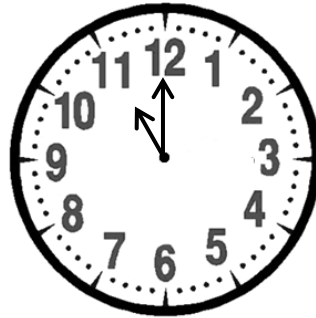
03 : 00

3 heures (3h)




...08:00.

8heures (8h)



...11:00.

11 heures (11h)



...12:00.

12 heures (12)

## 2- Observe les heures du matin et celles de l'après-midi et complète.

6 heures du matin = 6 heures (6h)

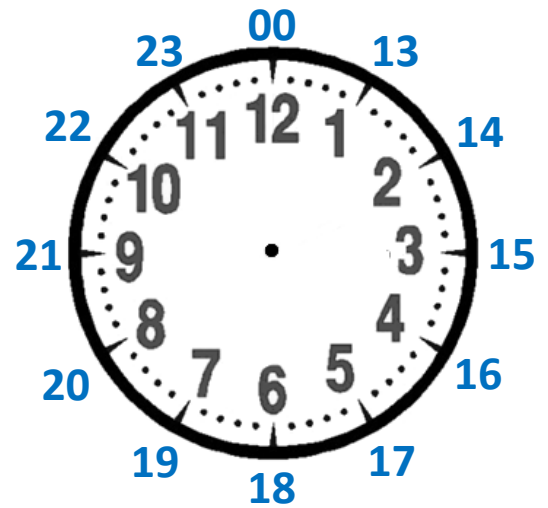
6 heures du soir = 18 heures (18h)

9 heures du matin = 9 heures (9h)

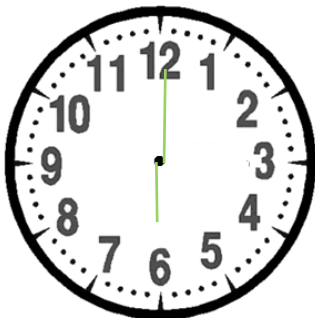
9 heures du soir = 21 heures (21h)

2 heures du matin = 2 heures (2h)

2 heures de l'après-midi = 14 heures (14h)




## 3- Complète l'écriture de l'heure et dessine la petite et la grande aiguille.




06 : 00

6 heures (6h)



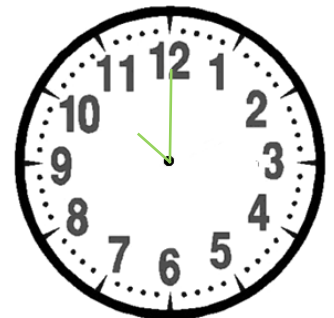
13 : 00

13 heures (13h)



19 : 00

19 heures (19h)



22:00

22 heures (22h)

## RÉVISIONS Complète la suite et le panneau.

