

Jeudi 4 juin

Bonjour à tous, j'espère que vous allez bien en ce début de mois de juin !

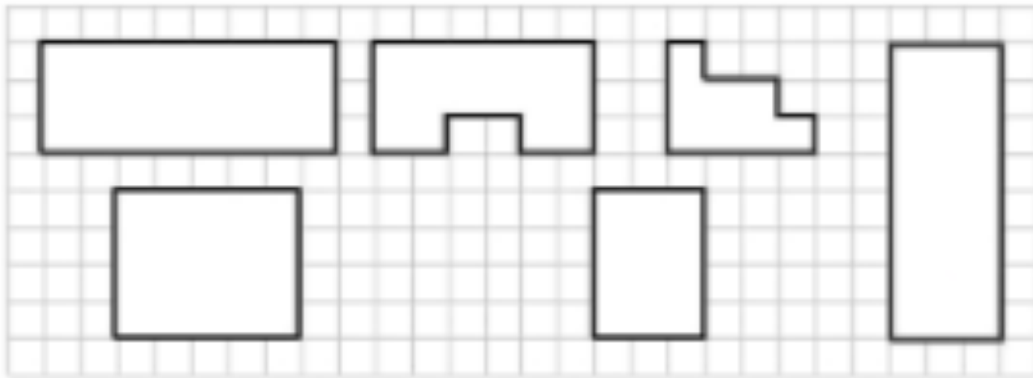
### Mesure

Continuons sur le **périmètre**. J'espère que vous avez réussi les autres petits exercices.


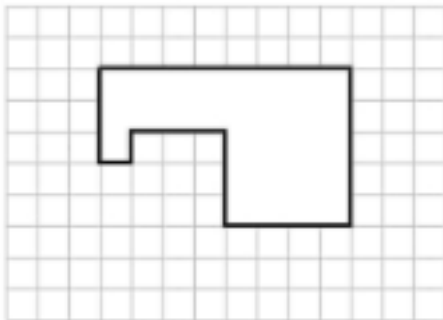
Rappelons que le **périmètre** d'une figure correspond à la **somme des longueurs de tous ses côtés**. On peut aussi parler de la « longueur du tour » de la figure.

### Exercice pour CE1 ET CE2

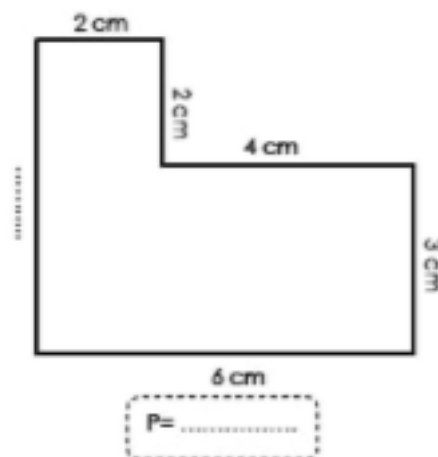
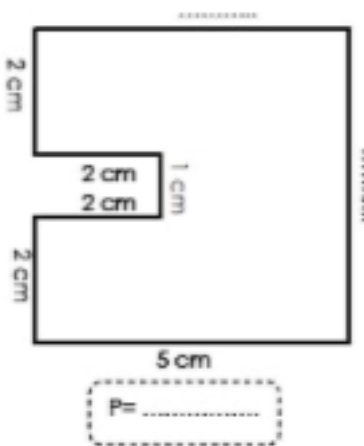
**Exercice 1** : Colorie de la même couleur tous les polygones ayant le même périmètre.



**Exercice 2** : A partir de cette figure, dessine un polygone différent et de périmètre égal.



(Exercice que pour CE2) **Exercice 3** : Complète les mesures et calcule le périmètre de ces figures.



## Orthographe

Nous avons fini avec les homophones et/est/es. Passons à présent aux homophones à et a. Voici une petite vidéo qui va t'aider à comprendre la leçon ! <https://www.youtube.com/watch?v=MUJEvajVtv4>

### Leçon

## Orthographe: Les homophones a/à

a / à

Voilà comment choisir !!!

Pour choisir entre la à (avec accent) ou le a (sans accent) il faut se poser cette question.

Si tu peux remplacer le A par avait dans la phrase alors il faut mettre le A sans accent.



La petite fille  du chagrin.

C'est le A sans accent car on peut dire La petite fille avait du chagrin.



Le garçon donne de l'argent  la caissière.

C'est le A avec accent car on ne peut pas remplacer par "avait" Le garçon donne de l'argent avait la caissière. C'est impossible.

### Exercice CE1

Complète les phrases avec a ou à.

- 1/ La match de tennis .....déjà commencé.
- 2/ Mon frère est parti .....la plage.....seize heure.
- 3/ C'est ..... toi de nettoyer la salle de jeux, moi je n'ai rien ..... faire.
- 4/ Maman.....passé beaucoup de temps ..... faire ce gâteau.
- 5/ Le train ..... au moins une heure de retard ..... l'arrivée.
- 6/ La voiture .....démarré mais elle .....peiné pendant deux kilomètres.

