

Jeudi 28 mai

Bonjour à tous, le mois de mai se termine, et j'espère que vous vous portez bien !

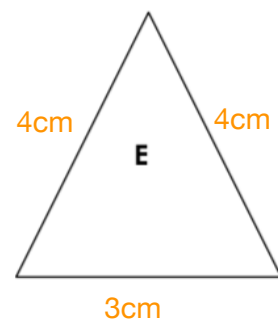
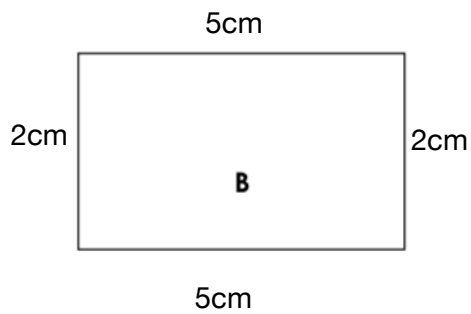
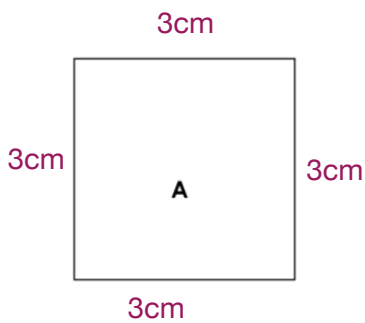
Mesure

Continuons sur le **périmètre**. J'espère que vous avez réussi les autres petits exercices. Rappelons que le **périmètre** d'une figure correspond à la **somme des longueurs de tous ses côtés**. On peut aussi parler de la « longueur du tour » de la figure.

Exercice CE1

Comme il est dit dans la leçon, on calcule le périmètre d'un polygone en additionnant la longueur de tous ses côtés.

Mesure le périmètre de chacune des figures suivantes :



Le périmètre de la figure A est égale àcm

Le périmètre de la figure B est égale àcm

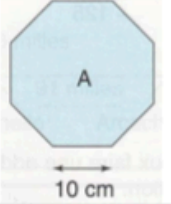
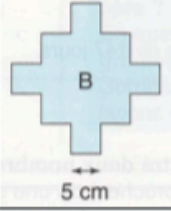
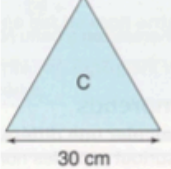
Le périmètre de la figure E est égale àcm

Exercice CE2

Comme il est dit dans la leçon, on calcule le périmètre d'un polygone en additionnant la longueur de tous ses côtés.

Exercice 1

Lequel de ces polygones a le plus grand périmètre ? Ecris tes calculs.

Polygone A		
Polygone B		
Polygone C		

C'est le polygone qui a le plus grand périmètre.

Orthographe

Nous travaillons sur les homophones et/est/es.

Exercice CE1

1- Complète les phrases avec est ou et.

Le médecin prend mon pouls ma température.

Antoine l'ainé de la famille.

Il puni car il s'..... moqué d'un camarade.

Marina arrivée à l'aéroport elle a pris le bus pour rentrer chez elle.

Pauline Lise ont une robe rouge verte.

Cet arbre immense il fait de l'ombre dans notre jardin.

Ma sœur mon cousin ont vu la Tour Eiffel qui à Paris.

