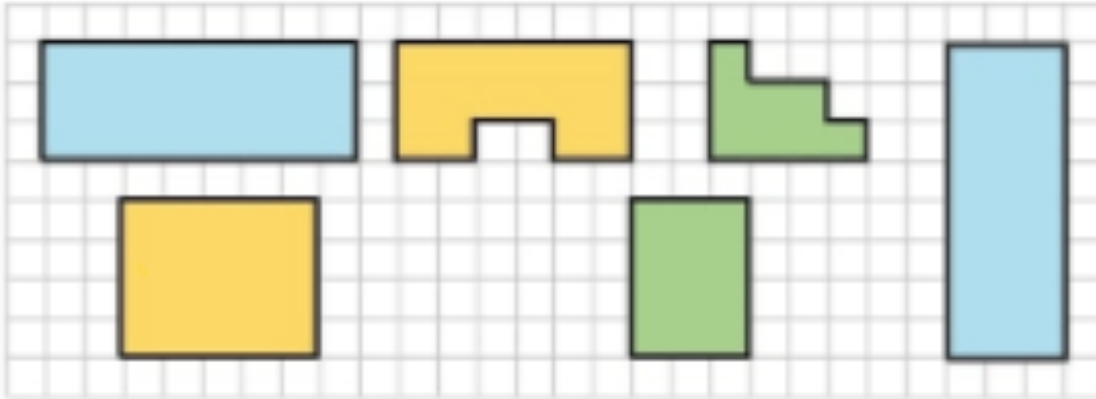


Jeudi 4 juin

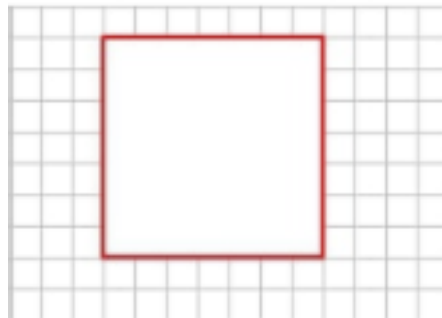
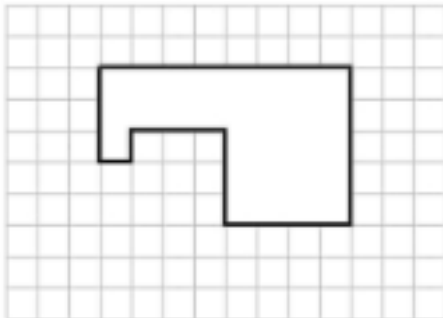
Bonjour à tous, j'espère que vous allez bien en ce début de mois de juin !

Mesure

Exercice 1 : Colorie de la même couleur tous les polygones ayant le même périmètre.



Exercice 2 : A partir de cette figure, dessine un polygone différent et de périmètre égal.



(Exercice que pour CE2) Exercice 3 : Complète les mesures et calcule le périmètre de ces figures.

