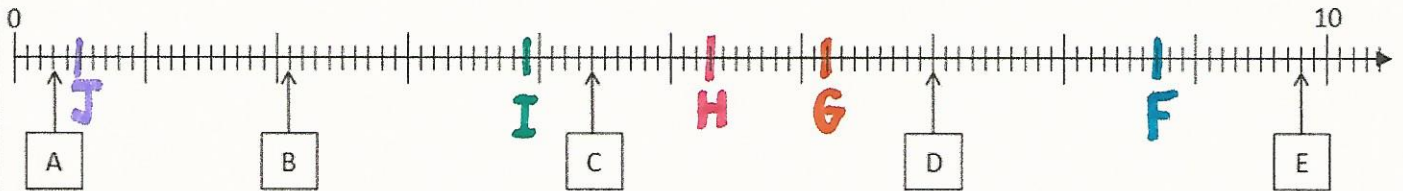


1. Donne le nombre décimal correspondant à chaque point placé sur la droite graduée.

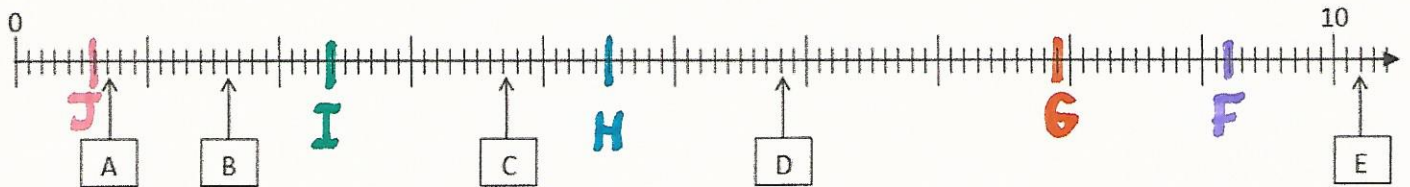


A	B	C	D	E
0,3	2,1	4,4	7,0 ou 7	9,8

2. Place les points suivants sur la droite.

F	G	H	I	J
8,7	6,2	5,3	3,9	0,5

1. Donne le nombre décimal correspondant à chaque point placé sur la droite graduée.

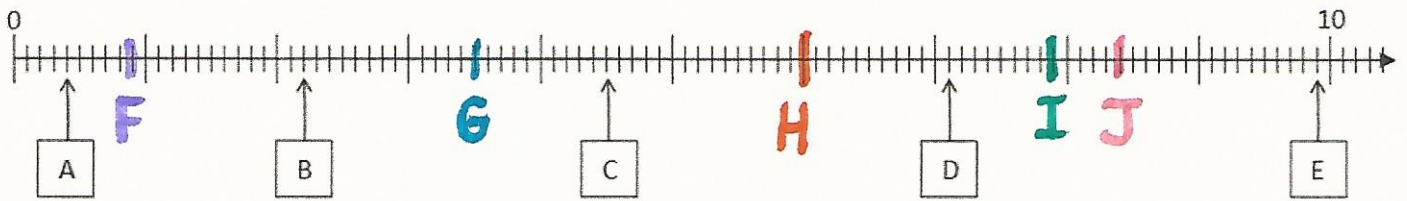


A	B	C	D	E
0,7	1,6	3,7	5,8	10,2

2. Place les points suivants sur la droite.

F	G	H	I	J
9,2	7,9	4,5	2,4	0,6

1. Donne le nombre décimal correspondant à chaque point placé sur la droite graduée.

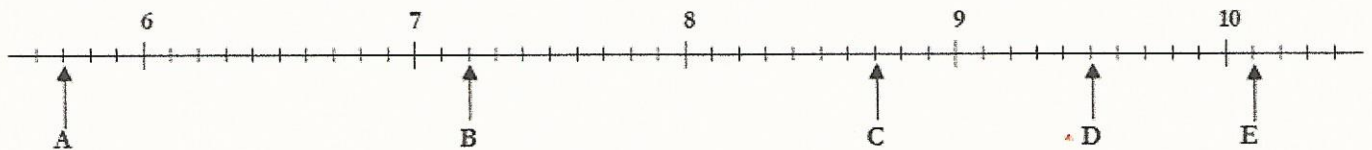


A	B	C	D	E
0,4	2,2	4,5	7,1	9,9

2. Place les points suivants sur la droite.

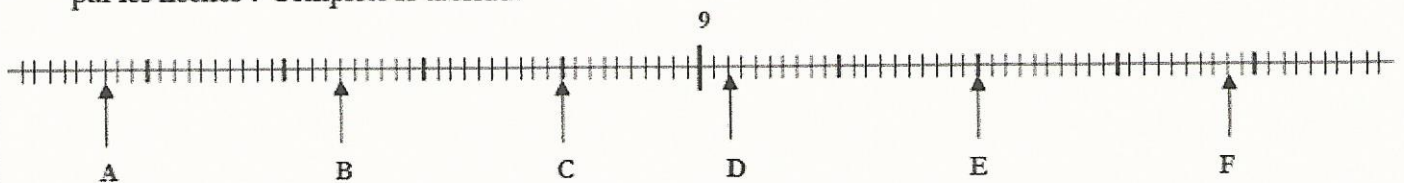
F	G	H	I	J
0,9	3,5	6	7,9	8,4

1. Voici une droite numérique graduée en unités et en dixièmes. Quels sont les points indiqués par les flèches ? Complète le tableau.



A	B	C	D	E
5,7	7,2	8,7	9,5	10,1

2. Voici une droite numérique graduée en unités, en dixièmes et en centièmes. Quels sont les points indiqués par les flèches ? Complète le tableau.



A	B	C	D	E	F
8,57	8,74	8,90	9,02	9,20	9,38