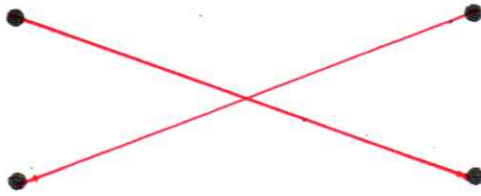



① Relie d'une flèche chaque état de l'eau à l'image correspondante.



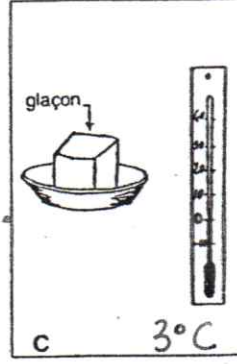
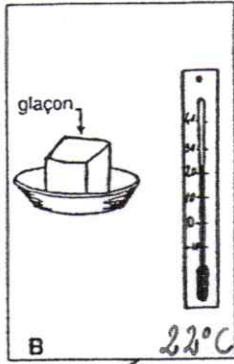
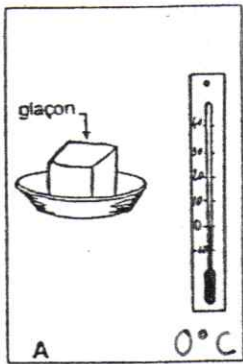
eau solide

eau liquide

vapeur d'eau

② Trois glaçons sont placés dans des endroits différents.

A chaque endroit, le thermomètre indique la température de l'air.



Indiquez, dans chaque cas, si le glaçon va fondre en entourant la bonne réponse :

- En A, le glaçon va fondre :

OUI

NON

- En B, le glaçon va fondre :

OUI

NON

- En C, le glaçon va fondre :

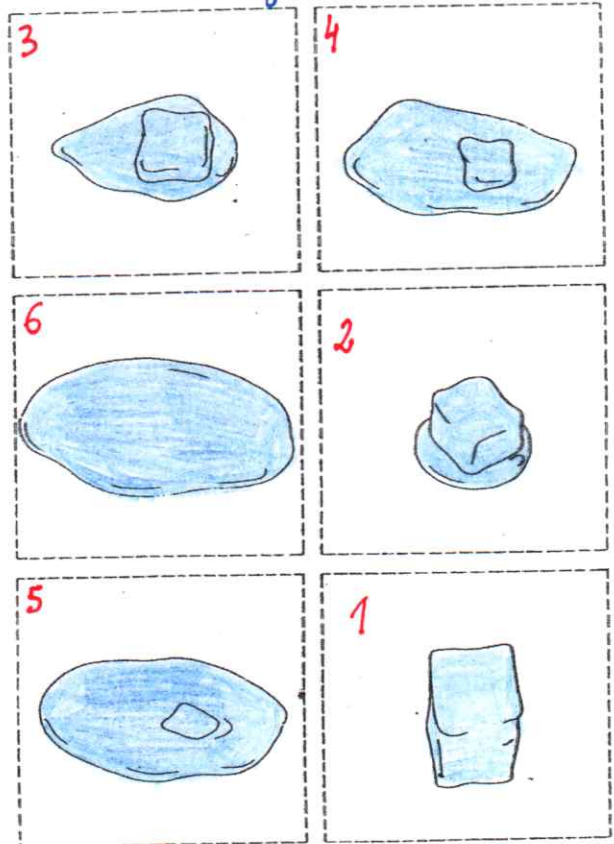
OUI

NON

③ La fusion d'un glaçon

• Colorie l'eau en bleu.

Numérote les images.



④ Complète avec : 27°C , 0°C , invisible.

L'eau se transforme en glaçon à ..0°C..

Lorsque ma casserole d'eau chauffe l'eau devient invisible...

Quand l'eau de la piscine est à ..27°C... je peux me baigner.