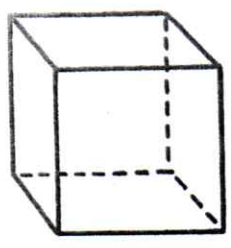


Géométrie

Fiche 6

Les solides : le cube

Je compte le nombre de sommets, de faces. Je complète la définition.




Nombres de faces : 6
Nombre de sommets : 8
Nombre d'arêtes : 12

Un cube a 6 faces, 8 sommets et 12 arêtes.

Toutes ses faces sont des carrés.

J'entoure tous les cubes.

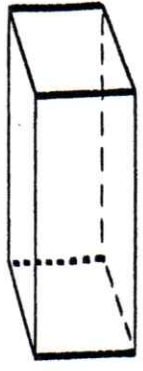


Géométrie

Fiche 9

Les solides : le pavé

Je compte le nombre de sommets, de faces. Je complète la définition.



Nombres de faces : 6
Nombre de sommets : 8
Nombre d'arêtes : 12

Un pavé a 6 faces, 8 sommets et 12 arêtes.

Toutes ses faces sont des rectangles ou des carrés.

J'entoure tous les pavés.

