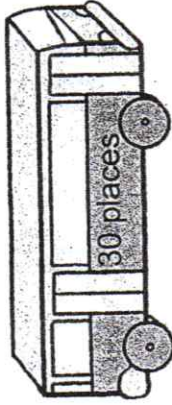
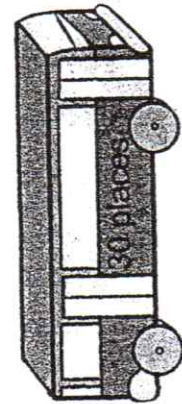


Enigmes mathématiques

1

Arthur et Zoé partent en centre aéré. Au total, 56 enfants doivent partir. Y aura-t-il assez de place pour tous ?



$$\begin{array}{r} 30 \\ +30 \\ \hline 60 \end{array}$$

$$60 - 56 = 4$$

Oui, il y aura assez de place pour tous.

2

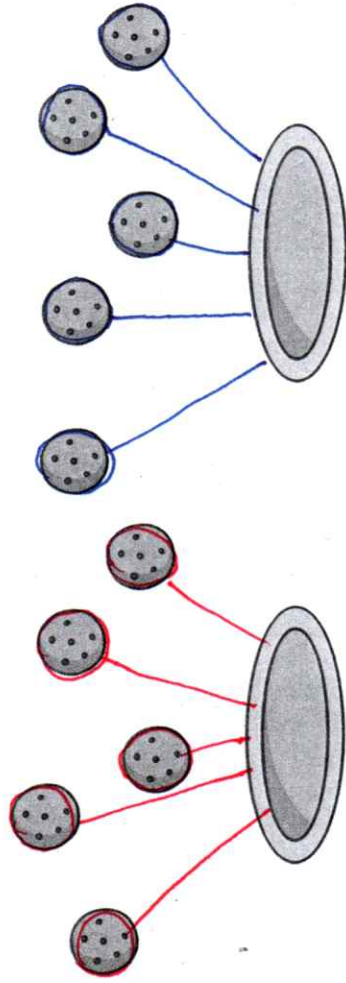
Zoé a ramassé 25 beaux cailloux dans la nature. Elle les a mis dans une boîte. Mais ce farceur d'Arthur en a pris 17 et les a mis dans sa poche. Combien de cailloux va-t-elle retrouver dans sa boîte ?



$$25 - 17 = 8$$

Elle va retrouver 8 cailloux dans la boîte.

3 a) Répartis de façon égale 10 biscuits dans 2 assiettes. Utilise des pour t'aider.

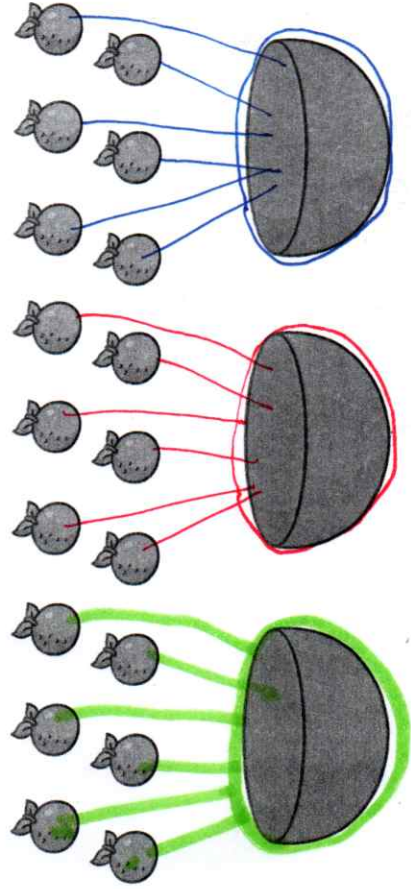


Il y aura biscuits dans chaque assiette.

b) Peux-tu répartir de façon égale 11 biscuits dans 2 assiettes ? Explique ton raisonnement.

Non, il y aura un biscuit en trop.

4) Divise 18 oranges en 3 groupes égaux. Utilise des pour t'aider.



Il y aura oranges dans chaque saladier.