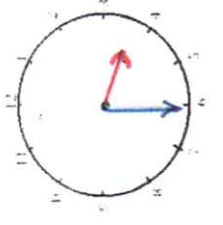


Mesures

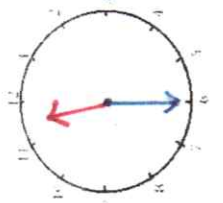
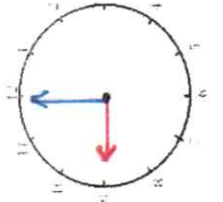
Les heures

Fiche 4

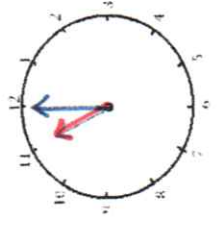
1 J'écris les heures indiquées sur ces horloges.



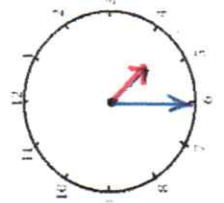
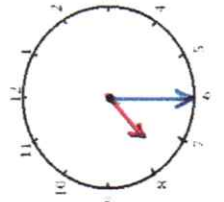
Il est 3 h et 30 min. Il est 9 h et 00 min. Il est 11 h et 30 min.



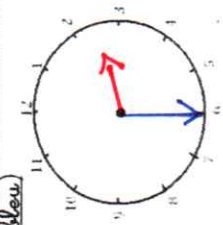
2 J'écris les heures indiquées sur ces horloges.



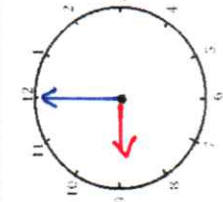
Il est 11 h et 00 min. Il est 7 h et 30 min. Il est 4 h et 30 min.



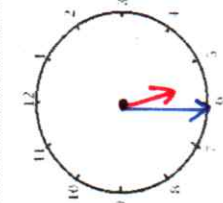
3 Je place les aiguilles selon les heures indiquées. (heures en rouge, minutes en bleu)



Il est 2 h 30 min.



Il est 9 h 00 min.



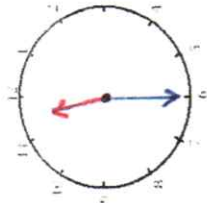
Il est 5 h 30 min.

Mesures

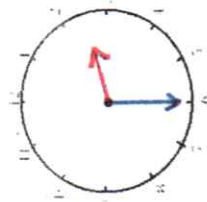
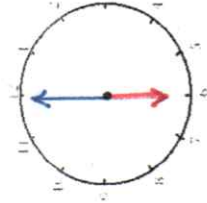
Les heures

Fiche 3

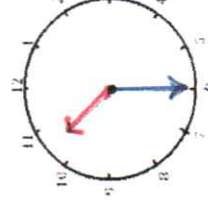
1 J'écris les heures indiquées sur ces horloges.



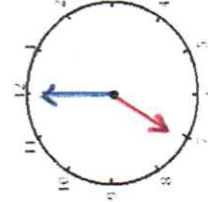
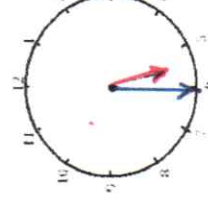
Il est 11 h et 30 min. Il est 6 h et 00 min. Il est 2 h et 30 min.



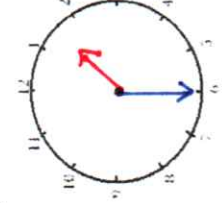
2 J'écris les heures indiquées sur ces horloges.



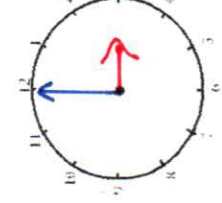
Il est 10 h et 30 min. Il est 5 h et 30 min. Il est 7 h et 00 min.



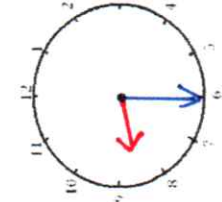
3 Je place les aiguilles selon les heures indiquées. (heures en rouge, minutes en bleu)



Il est 1 h 30 min.



Il est 3 h 00 min.



Il est 8 h 30 min.