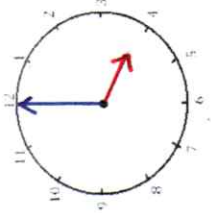


Mesures

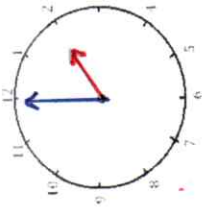
Fiche 1

Les heures

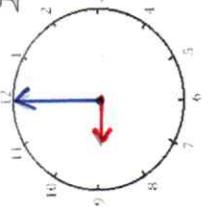
1 J'écris les heures indiquées sur ces horloges.



Il est 4 h et 00 min.

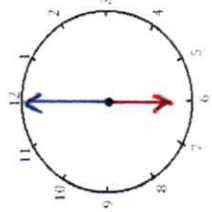


Il est 2 h et 00 min.



Il est 9 h et 00 min.

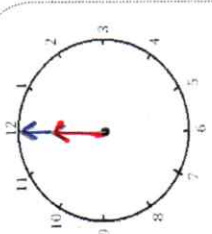
2 J'écris les heures indiquées sur ces horloges.



Il est 6 h et 00 min.



Il est 10 h et 00 min.

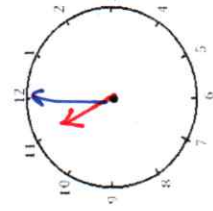


Il est 12 h et 00 min.

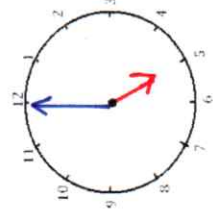
3 Je place les aiguilles selon les heures indiquées. (Heures en rouge, minutes en bleu.)



Il est 3 h 00 min.



Il est 11 h 00 min.



Il est 5 h 00 min.

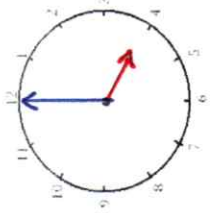


Mesures

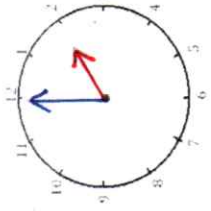
Fiche 2

Les heures

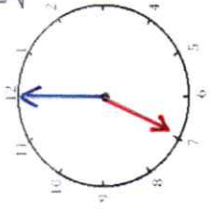
1 J'écris les heures indiquées sur ces horloges.



Il est 4 h et 00 min.

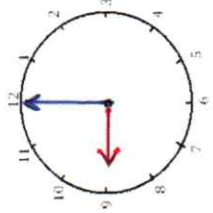


Il est 2 h et 00 min.

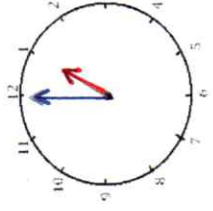


Il est 7 h et 00 min.

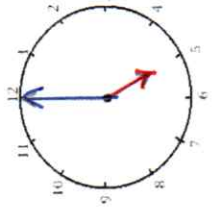
2 J'écris les heures indiquées sur ces horloges.



Il est 9 h et 00 min.

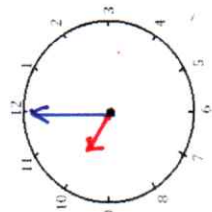


Il est 10 h et 00 min.

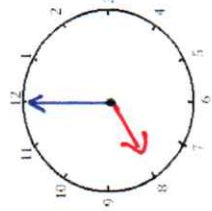


Il est 5 h et 00 min.

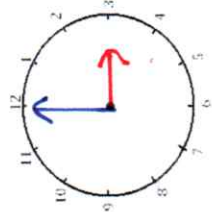
3 Je place les aiguilles selon les heures indiquées. (Heures en rouge, minutes en bleu.)



Il est 10 h 00 min.



Il est 8 h 00 min.



Il est 3 h 00 min.