

Prénom : _____

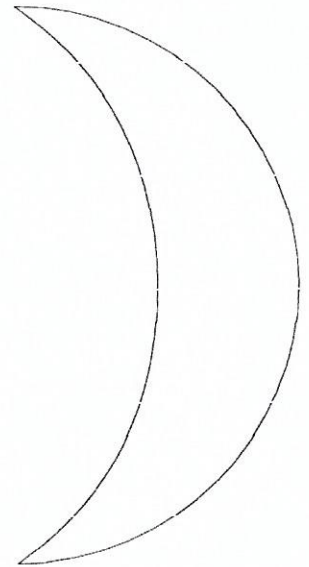
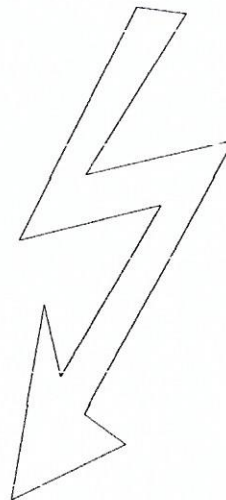
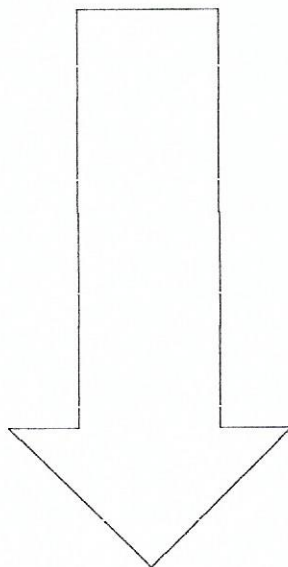
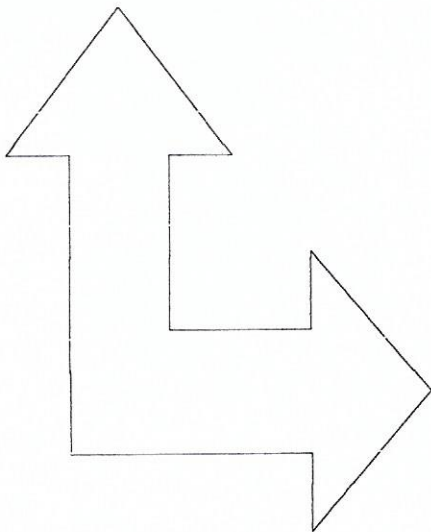
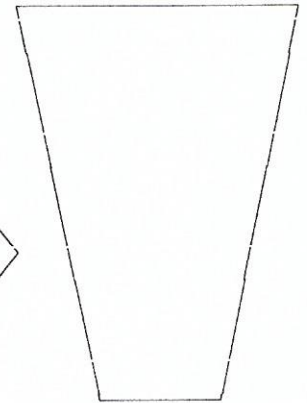
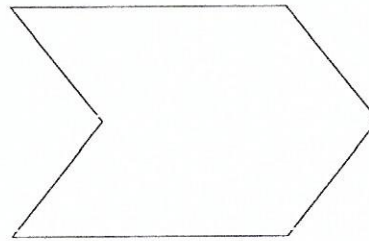
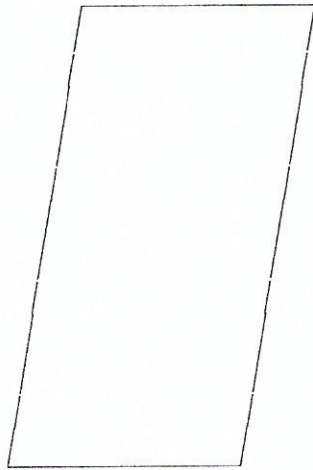

Date : _____



La symétrie axiale 5 :

Compétence : Trouver l'axe de symétrie d'une figure.

- 1) Consigne : Trace l'axe de symétrie de chacune des figures, si il y a. Tu peux t'aider du papier calque.



Prénom : _____

Date : _____



La symétrie axiale 6 :

Compétence : Trouver l'axe de symétrie d'une figure.

1) Consigne : Trouve et trace l' (ou les) axe(s) de symétrie des lettres de l'alphabet, si il y a. (Tu peux t'aider du papier calque)

A B C D E


F G H I J K

L M N O P Q

R S T U V W

X Y Z

2) Consigne : Trouve et trace l' (ou les) axe(s) de symétrie des panneaux de signalisation, si il y a. (Tu peux t'aider du papier calque)



Si tu as terminé avant voici trois panneaux supplémentaires, un peu plus difficiles...!

