

6 Olga a 6 billets de 10 € et 8 pièces de 1 € dans son portemonnaie.

68€

Peut-elle acheter une trottinette à 79 € ?
Justifie ta réponse.

Non, elle ne peut pas acheter la trottinette à 79 €, car elle n'a pas assez d'argent.

7 Une entreprise veut ranger ses véhicules sur un parking de 250 places.

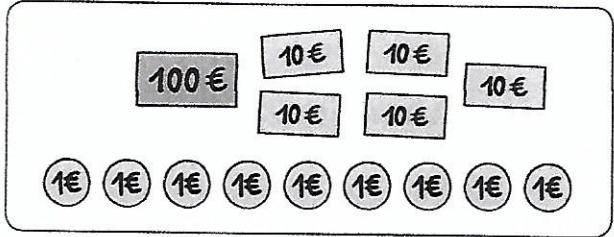

Peut-elle mettre 9 dizaines de camions, 2 centaines de camionnettes et 8 voitures ?

298

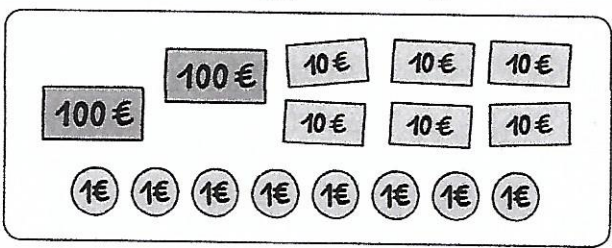
Justifie ta réponse.

Non, les 298 véhicules ne pourront pas tous aller sur le parking car il n'y a que 250 places.

8 Paul et Sacha veulent s'acheter un canoë-kayak.



Paul 159 €



Sacha 268 €

a. Combien ont-ils d'argent à eux deux ?

$159 + 268 = 427$
Ils ont 427 € à eux deux.

$$\begin{array}{r}
 \text{c d u} \\
 159 \\
 + 268 \\
 \hline
 427
 \end{array}$$

b. Quel canoë peuvent-ils acheter ?

Justifie ta réponse.

Ils peuvent acheter le canoë à 409 €.