


# 6

## Reconnaitre, décrire et nommer un carré, un rectangle, un losange

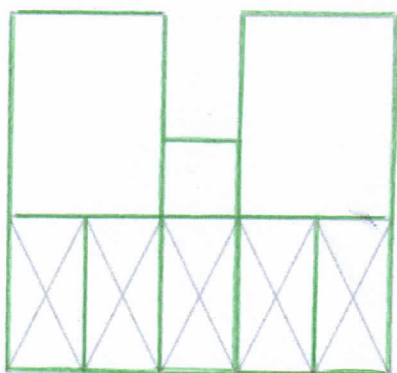
1 Entoure les quadrilatères.



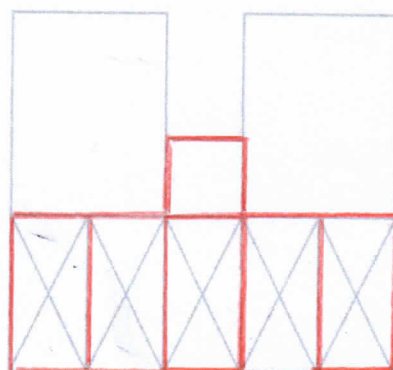
2 Repasse :

- les rectangles de cette figure en vert sur le premier modèle ;
- les carrés en rouge sur le second modèle ;
- les losanges en bleu sur le troisième modèle.

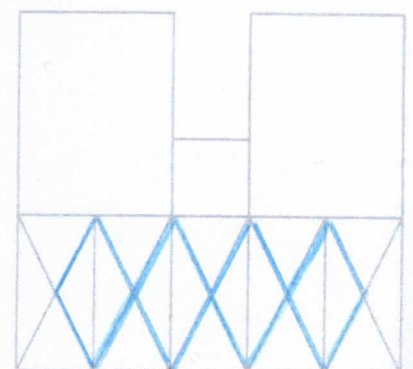
*Attention : certains rectangles et certains carrés se superposent*



Modèle 1




Modèle 2



Modèle 3

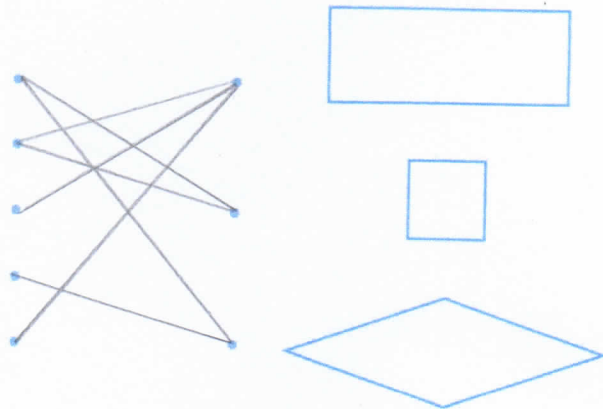
3 Colorie en rouge les carrés, en vert les rectangles, en bleu les losanges.

Tu dois mesurer les côtés et vérifier puis coder les angles droits.


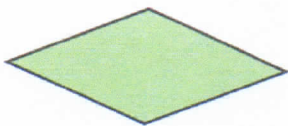


4 Relie chaque phrase à la bonne figure.

- Tous les côtés sont égaux.
- Tous les angles sont droits.
- Il y a deux petits côtés et deux grands côtés.
- Les angles ne sont pas droits.
- Les côtés ne sont pas tous égaux.



5 Décris chaque figure, en utilisant les mots *côtés* et *angles*, puis indique leur nom.



La figure verte a  
4 côtés égaux et  
aucun angle droit.  
→ C'est un losange.

La figure jaune a  
4 angles droits et ses  
côtés égaux deux à deux.  
→ C'est un rectangle.