


**10** Calcule. Tu peux colorier les unités et les dizaines si besoin.

$$38 - 10 = 28 \quad 49 + 30 = 79 \quad 62 - 20 = 42 \quad 50 + 40 = 90$$
$$23 + 25 = 48 \quad 66 - 12 = 54 \quad 42 + 6 = 48 \quad 59 - 6 = 53$$

**11** Combien de pions reste-t-il sur la table ?



$$38 - 7 = 31$$

Il reste 31 pions sur la table.

**12** 33 enfants ont terminé la course.  
Ils étaient 57 au départ.  
Combien d'enfants sont encore  
en train de courir ?

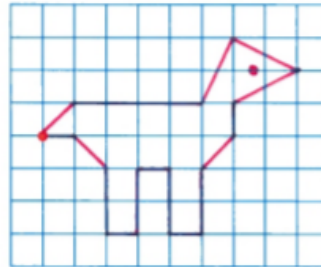
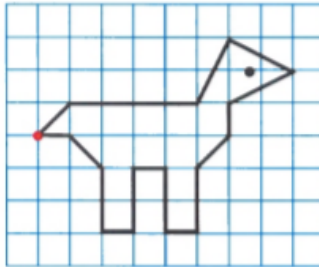


24 enfants sont en train de courir.

$$57 - 33 = 24$$

Espace et géométrie

**13** Reproduis le dessin.



Grandeurs et mesures

**14** Pour chaque segment, trace un autre segment de la même longueur.

