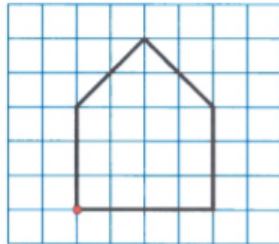


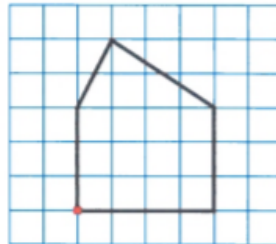
Reproduire une figure sur un quadrillage (2)

23 26 24 56 28

Cherchons



Modèle

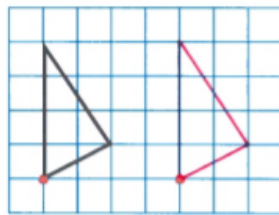


Tracé de Rémi

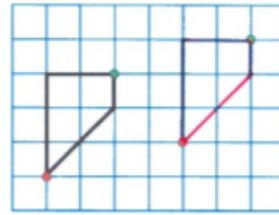


→ Que penses-tu du tracé de Rémi ?

1 Reproduis la figure.



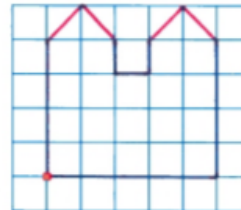
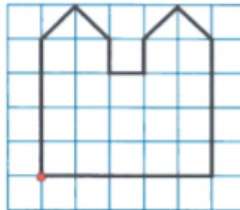
2 Reproduis la figure.



Pars d'un point de repère dans chaque figure.




3 Reproduis la figure.



Je révise

Pour chaque segment, **trace** un autre segment de la même longueur.



Calcul mental : Écrire le plus petit de trois nombres énoncés.