

Reproduire une figure sur un quadrillage (1)

38

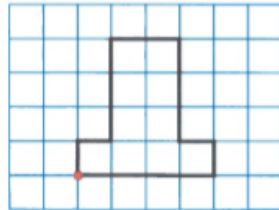
53

25

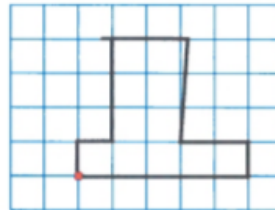
41

60

Cherchons



Modèle

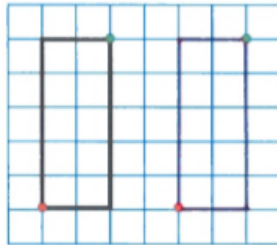


Tracé de Lisa

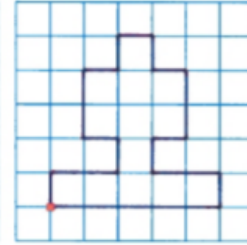
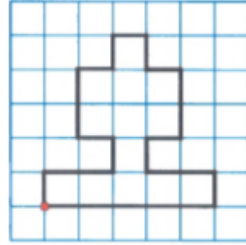


→ Que penses-tu du tracé de Lisa ?

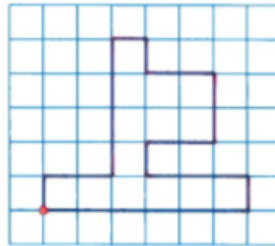
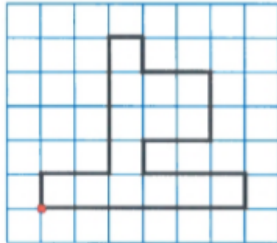
1 Reproduis la figure.



2 Reproduis la figure.



3 Reproduis la figure.



Le point de repère de ta figure doit être au même endroit que sur le modèle. Pars de ce point.



* Je révise *

Dessine pour chaque immeuble le même contour que le modèle, en utilisant le bon pochoir.



Calcul mental : Écrire le nombre suivant jusqu'à 69.