





4 Observe le tableau et réponds aux questions :

Au restaurant scolaire, chaque élève choisit un seul dessert.

- a) • Combien d'élèves ont choisi une banane :
 le mardi ? :
 le jeudi ? :

	Lundi	Mardi	Jeudi	Vendredi
Orange 	12	9	6	12
Banane 	20	16	8	10
Pomme 	5	4	6	5
Yaourt 	15	14	9	3

- b) • Quel jour les élèves ont-ils choisi le plus de yaourts ?

- c) • Combien de pommes ont été choisies dans la semaine ?

7 Utilise le tableau pour répondre aux questions.



	pommes	poires	fraises	melons	pastèques	cerises
Vendu à l'unité				2 €	4 €	
Vendu au kilo	2 €	3 €	5 €			6 €
Vendu par lots de 10	3 €	4 €		18 €		

- a) • Combien coûte 1 kilo de cerises ?
- b) • Quel fruit coûte 5 € le kilo ?
- c) • Quels sont les fruits que je peux acheter à l'unité ?
- d) • Quels sont les fruits vendus à la fois au kilo et par lot ?
- e) • Quels sont les fruits que je ne peux acheter qu'au kilo ?
- f) • Combien vais-je payer pour 1 lot de poires et 1 kilo de fraises ?
