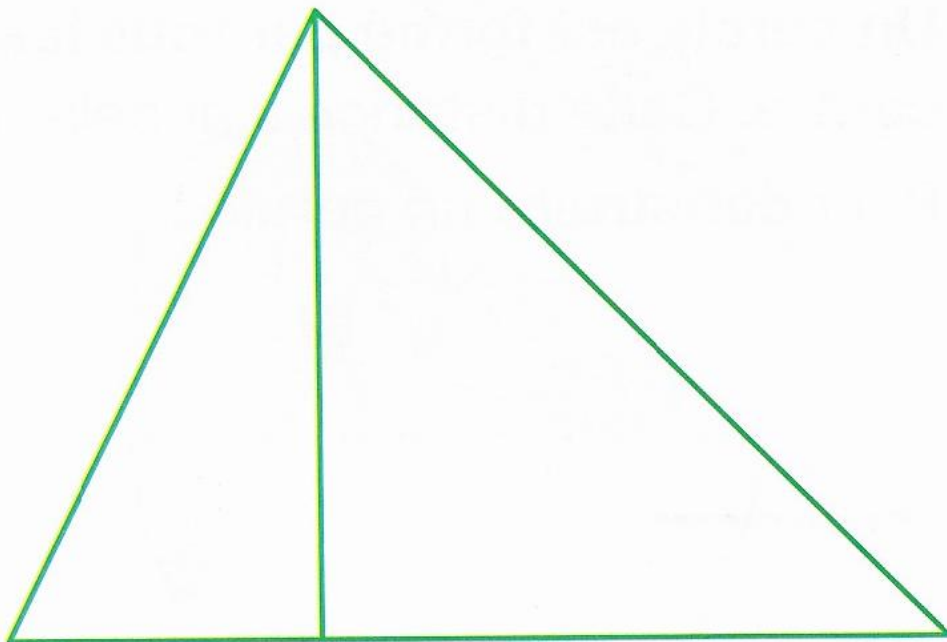


6 * * Sur du papier uni, trace trois triangles rectangles dont les côtés de l'angle droit mesurent :

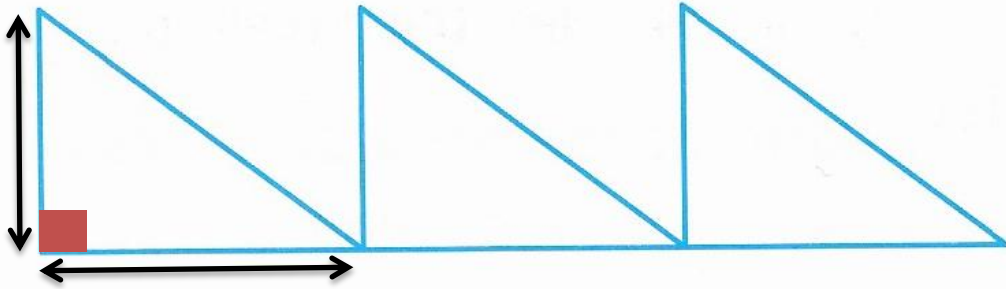
- a. 3 cm et 5 cm
- b. 6 cm et 8 cm 5 mm
- c. 2 cm et 4 cm

7 * * Sur du papier uni, reproduis ces deux triangles rectangles en respectant les mesures du modèle.

Commence par repérer les angles droits.

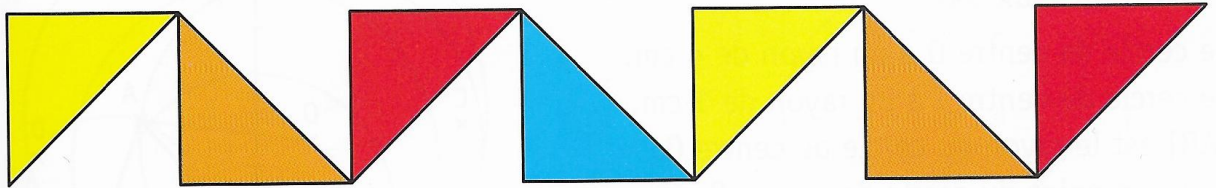


8 * * Sur du papier uni, reproduis ces trois triangles rectangles en respectant les mesures du modèle.



Ce sont les mesures qui se trouvent de chaque côté de l'angle droit qu'il faut utiliser !!

9 * * * Sur du papier uni, reproduis cette frise en respectant les mesures du modèle.



Pour l'exercice 9, Les triangles représentés mesurent 2 cm de chaque côté de l'angle droit !!!