
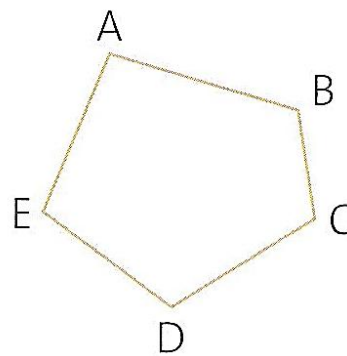


**1** \* Parmi les figures ci-dessous, indique celles qui sont des polygones.

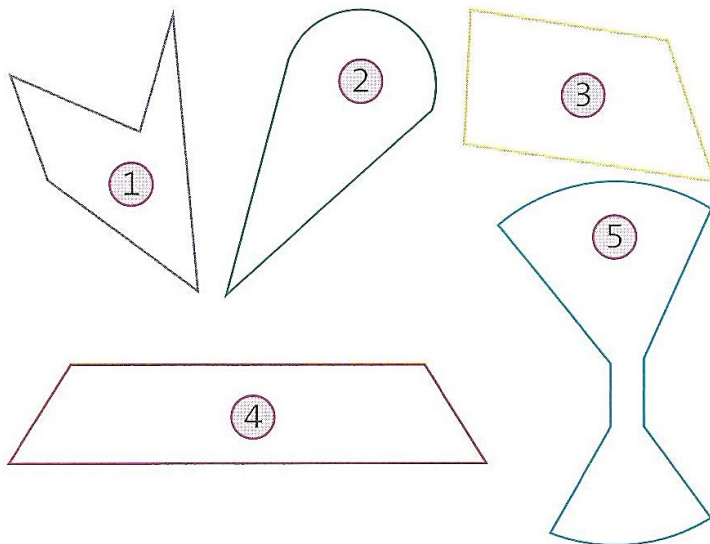


**2** \* Cette figure est un polygone. Complète le texte avec les mots qui conviennent.

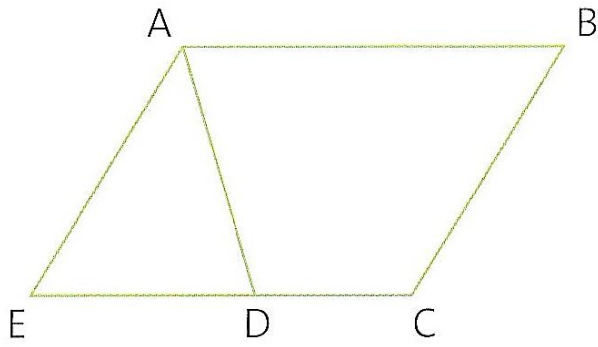


La figure a .... côtés et .... sommets. Ses côtés se nomment : ..... Ses sommets se nomment : .....

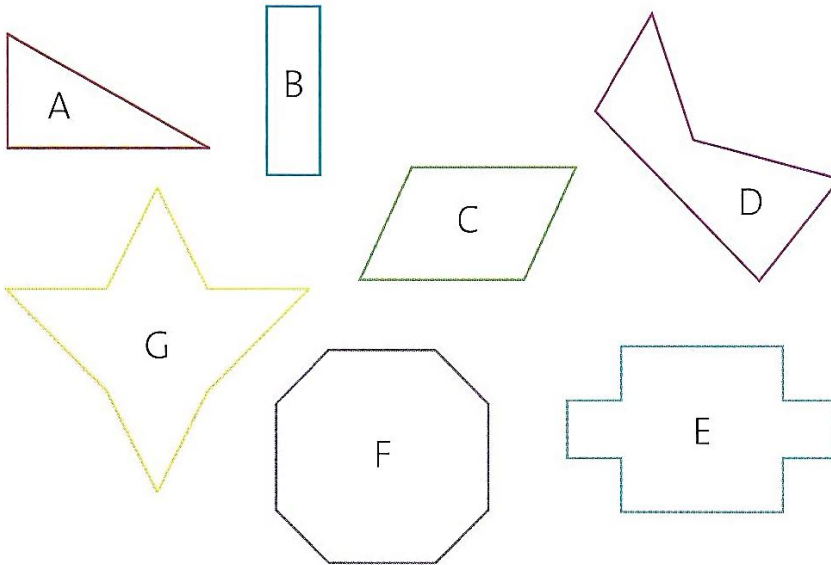
**3** \* Indique les figures qui sont des polygones.



**4** ✨ ✨ Nomme les différents polygones que tu vois sur cette figure.



**7** ✨ ✨ Observe ces polygones et complète le tableau.



Polygone	Nombre de côtés	Nombres de sommets
A		
B		
C		
D		
E		
F		
G		