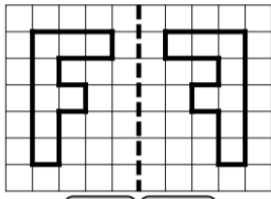
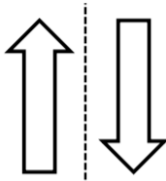


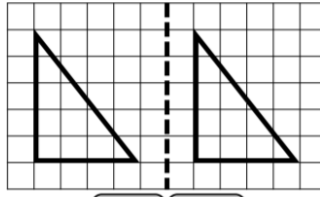
① Les droites en pointillé servent-elles d'axes de symétrie ?




Oui Non



Oui Non



Oui Non



Oui Non

2- Complète les figures pour qu'elles soient symétriques par rapport à la droite (d).

