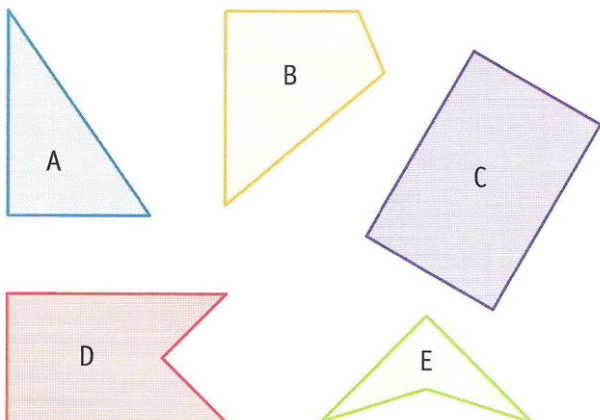
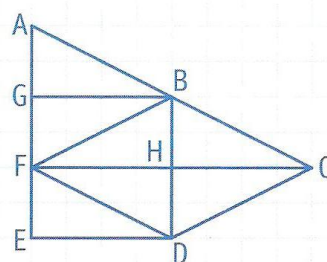


1 * Parmi ces figures, lesquelles sont des quadrilatères ?

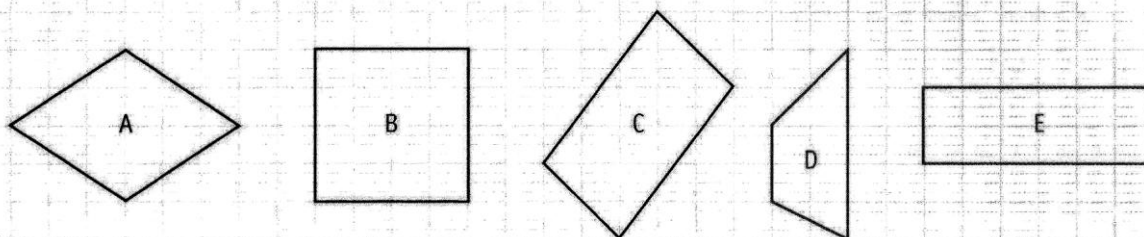


2 ** Vrai ou faux ?



- a. ABDF est un parallélogramme.
- b. BCDF est un losange.
- c. FCDE est un rectangle.
- d. FACD est un rectangle.
- e. GBDE est un carré.

3 ** Reproduis ces quadrilatères, trace leurs diagonales, puis complète le tableau.



	Quadrilatères				
	A	B	C	D	E
Ses côtés sont tous de même longueur.					
Ses côtés opposés sont parallèles.					
Ses côtés sont de même longueur deux à deux.					
Ses diagonales se coupent en leur milieu.					
Ses diagonales sont de même longueur.					
Ses diagonales sont perpendiculaires.					

4 ** Qui suis-je ?

- a. J'ai 4 côtés de même longueur. Mes côtés opposés sont parallèles. J'ai 4 angles droits et mes diagonales se coupent en leur milieu.
- b. J'ai 4 côtés de même longueur. Mes côtés opposés sont parallèles. Je n'ai pas d'angle droit. Mes diagonales ne sont pas de même longueur.