

1. Estimer une mesure en centimètres



Coche la bonne réponse.



un crayon mesure

- 200 cm
- 20 cm



une gomme mesure

- 5 cm
- 50 cm



une règle mesure

- 20 cm
- 2 cm





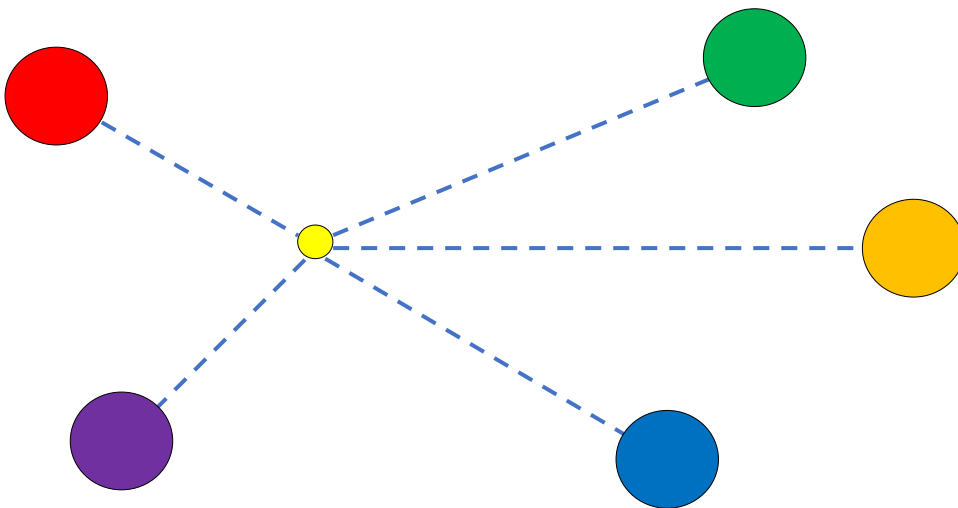
ma table mesure

- 50 cm
- 15 cm

2. Les enfants ont joué à la pétanque.

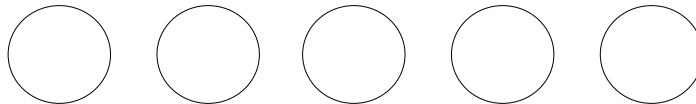


Défini le classement des boules en **mesurant** les distances « boule – cochonnet ».



Colorie les boules de la gagnante (la plus proche du cochonnet) à la perdante (la plus éloignée du cochonnet)

GAGNANTE



PERDANTE

3. Colorie en jaune la bande la plus courte et en rouge la plus longue.

