

NOM _____

DATE _____

étoile bleue



8 exercices réussis ? C'est gagné !

1 Écris en chiffres.

deux-cent-quatre-vingts : _____

neuf-cent-trois : _____

cent-soixante-quatre : _____

2 Écris en lettres.

196 : _____

436 : _____

607 : _____

3 Ordonne par ordre croissant.

489 803 99 123 450

___ < ___ < ___ < ___ < ___

4 Complète la suite.

320 315 310 _____

5 Complète.

$985 + \text{_____} = 1\ 000$

200 pour aller à 1 000 : _____

$1\ 000 - 510 = \text{_____}$

6 Barre ce qui est faux.

$650 + 350 = 1\ 000$

$570 + 530 = 1000$

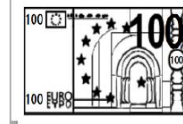
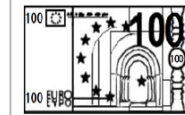
$500 - 250 = 350$

$100 \times 10 = 1\ 000$

$900 - 1\ 000 = 100$



Entoure ce qui fait 321 €



Complète.

325, c'est la moitié de _____.

La moitié de 250 c'est _____.

_____, c'est le double de 400.



Complète.

5 unités + 9 centaines = _____

____ dizaines + ____ centaines = 450

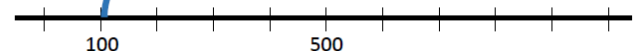
25 dizaines + 2 centaines = _____



Relie

100

340



100

500

900

620